



RTO EXAM TEST

ഡ്രൈവിംഗ് ടെസ്റ്റ് ചോദ്യങ്ങൾ

കേരള / ഇന്ത്യ റോഡ് സൈൻ &
ഡ്രൈവിംഗ് ലൈസൻസ് തയ്യാറെടുപ്പ്



www.rtoexamtest.in

നിങ്ങളുടെ പഠനം പരിശോധിക്കുക!

www.rtoexamtest.in ൽ സൗജന്യ ഓൺലൈൻ മോക്ക് ടെസ്റ്റ് പരിശീലിക്കൂ

The screenshot displays the RTOExamTest website interface. At the top, there is a dark blue navigation bar with the logo 'RTOExamTest' on the left, a language dropdown menu set to 'മലയാളം (Malayalam)', and several utility icons including a home icon, a document icon labeled 'ചോദ്യ ബാങ്ക്', a clock icon labeled 'മോക്ക് ടെസ്റ്റ്', and a user profile icon labeled 'പ്രായോഗിക പരീക്ഷ'. Below the navigation bar, the main content area has a light blue background. It features a title 'ൾ ലേണിംഗ് ലൈസൻസ് മോക്ക് ടെസ്റ്റ്' and three sub-headers: '20 ചോദ്യങ്ങൾ', '60 സെക്കൻഡ് / ചോദ്യം', and 'ജയിക്കാൻ 12 മാർക്ക്'. A central white box contains the test details: 'ചോദ്യം 1 / 20' and '33 sec'. Below this, it shows 'ശരി: 0' and 'തെറ്റ്: 0'. The question text is: '1. ഏത് സാഹചര്യത്തിലാണ് നിങ്ങൾ വാഹനങ്ങളെ ഓവർടേക്ക് ചെയ്യുന്നത് ഒഴിവാക്കേണ്ടത്?'. There are three multiple-choice options: 'A ഒരു വളവ് കഴിഞ്ഞതിന് ശേഷം', 'B ഒരു വളവിൽ', and 'C മുന്നിലുള്ള റോഡ് വ്യക്തമായി കാണുമ്പോൾ'. At the bottom of the white box is a yellow button labeled 'അടുത്തത് >'. The entire interface is presented within a white rounded rectangle on a light blue background.

പരീക്ഷ ആരംഭിക്കാൻ ഇവിടെ ക്ലിക്ക് ചെയ്യുക

Q1 സിബ്രാ ക്രോസിംഗിന് സമീപം ആളുകൾ റോഡ് മുറിച്ചുകടക്കാൻ നിൽക്കുമ്പോൾ, നിങ്ങൾ

1. ഹോൺ അടിച്ചു മുനോട്ട് പോകുക

2. വേഗത കുറച്ച് ഹോൺ അടിച്ചു പോകുക

3. വാഹനം നിർത്തി ആളുകൾ റോഡ് മുറിച്ചുകടക്കുന്നതുവരെ കാത്തിരിക്കുക, അതിനുശേഷം മാത്രം പോകുക

Ans: 3

Q2 നിങ്ങൾ ഒരു ഇടുങ്ങിയ പാലത്തിലേക്ക് അടുക്കുകയാണ്, എതിരെ നിന്ന് മറ്റൊരു വാഹനം പാലത്തിലേക്ക് കയറാൻ തുടങ്ങുന്നു, നിങ്ങൾ

1. വേഗത കുട്ടി എത്രയും വേഗം പാലം കടക്കാൻ ശ്രമിക്കുക

2. ഹെഡ് ലൈറ്റ് ഓണാക്കി പാലം കടക്കുക

3. മറ്റേ വാഹനം പാലം കടക്കുന്നതുവരെ കാത്തിരുന്ന് ശേഷം മാത്രം പോകുക

Ans: 3

Q3 ഒരു വാഹനം അപകടത്തിൽ പെടുകയും ആർക്കെങ്കിലും പരിക്കേൽക്കുകയും ചെയ്താൽ

1. വാഹനം അടുത്തുള്ള പോലീസ് സ്റ്റേഷനിൽ കൊണ്ടുപോയി അപകടവിവരം അറിയിക്കുക

2. വാഹനം നിർത്തി പോലീസ് സ്റ്റേഷനിൽ വിവരമറിയിക്കുക

3. പരിക്കേറ്റ വ്യക്തിക്ക് വൈദ്യസഹായം നൽകാൻ ആവശ്യമായ നടപടികൾ സ്വീകരിക്കുകയും 24 മണിക്കൂറിനുള്ളിൽ അടുത്തുള്ള പോലീസ് സ്റ്റേഷനിൽ അറിയിക്കുകയും ചെയ്യുക

Ans: 3

Q4 വൺവേ ആയി നിശ്ചയിച്ചിട്ടുള്ള റോഡിൽ

1. പാർക്കിംഗ് നിരോധിച്ചിരിക്കുന്നു

2. ഓവർടേക്ക് ചെയ്യുന്നത് നിരോധിച്ചിരിക്കുന്നു

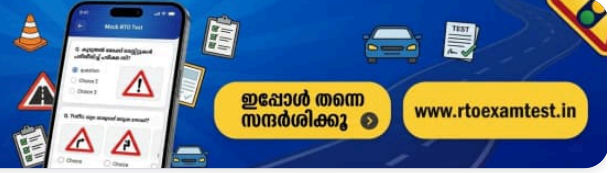
3. റിവേഴ്സ് ഗിയറിൽ വാഹനം ഓടിക്കാൻ പാടില്ല

Ans: 3



കൂടുതൽ മോക്ക് ടെസ്റ്റുകൾ പരിശീലിച്ച് പരീക്ഷ വിജയിക്കൂ

ഡ്രൈവിംഗ് ലൈസൻസ് പരീക്ഷയ്ക്ക് ആവശ്യമായ കൂടുതൽ ചോദ്യങ്ങളും പരിശീലനവും ഞങ്ങളുടെ വെബ്സൈറ്റിൽ ലഭ്യമാണ്



ഇപ്പോൾ തന്നെ സന്ദർശിക്കൂ

www.rtoexamtest.in

Q5 നിങ്ങൾക്ക് മുന്നിൽ പോകുന്ന വാഹനത്തെ എവിടെക്കൂടി ഓവർടേക്ക് ചെയ്യാം

1. ആ വാഹനത്തിന്റെ വലതുവശത്തുകൂടി

2. ഇടതുവശത്തുകൂടി

3. റോഡിന് വീതിയുണ്ടെങ്കിൽ ഇടതുവശത്തുകൂടി

Ans: 1

Q6 കാവലില്ലാത്ത റെയിൽവേ ലെവൽ ക്രോസിംഗിന് സമീപമെത്തുമ്പോൾ, അത് മുറിച്ചുകടക്കുന്നതിന് മുമ്പ് ഡ്രൈവർ

1. റോഡിന്റെ ഇടതുവശത്ത് വാഹനം നിർത്തുക, താഴെയിറങ്ങി ട്രാക്കിനടുത്തേക്ക് പോയി ഇരുവശത്തുനിന്നും ട്രെയിനോ ട്രോളിയോ വരുന്നില്ലെന്ന് ഉറപ്പുവരുത്തുക

2. ഹോൺ അടിച്ചു എത്രയും വേഗം ട്രാക്ക് മുറിച്ചുകടക്കുക

3. ട്രെയിൻ കടന്നുപോകുന്നതുവരെ കാത്തിരിക്കുക

Ans: 1

Q7 ഒരു ഗതാഗത വാഹനം (കൊമേഴ്സ്യൽ വാഹനം) നിങ്ങൾക്ക് എങ്ങനെ തിരിച്ചറിയാം?

1. ടയറിന്റെ വലിപ്പം നോക്കി

2. വാഹനത്തിന്റെ നിറം നോക്കി

3. വാഹനത്തിന്റെ നമ്പർ പ്ലേറ്റ് നോക്കി

Ans: 3

Q8 ലേണേഴ്സ് ലൈസൻസിന്റെ കാലാവധി

1. ഡ്രൈവിംഗ് ലൈസൻസ് ലഭിക്കുന്നതുവരെ

2. 6 മാസം

3. 30 ദിവസം

Ans: 2

Q9 ഫുട്പാത്ത് ഇല്ലാത്ത റോഡിൽ കാൽനടയാത്രക്കാർ

1. റോഡിന്റെ ഇടതുവശത്തുകൂടി നടക്കണം

2. റോഡിന്റെ വലതുവശത്തുകൂടി നടക്കണം

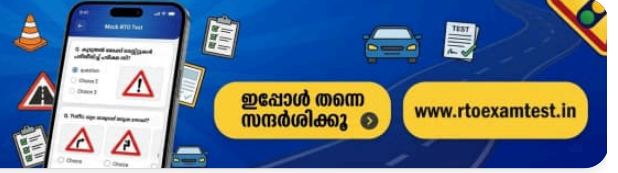
3. റോഡിന്റെ ഏത് വശത്തുകൂടിയും നടക്കാം

Ans: 2



കൂടുതൽ മോക്ക് ടെസ്റ്റുകൾ പരിശീലിച്ച് പരീക്ഷ വിജയിക്കൂ

ഡ്രൈവിംഗ് ലൈസൻസ് പരീക്ഷയ്ക്ക് ആവശ്യമായ കൂടുതൽ ചോദ്യങ്ങളും പരിശീലനവും ഞങ്ങളുടെ വെബ്സൈറ്റിൽ ലഭ്യമാണ്



ഇപ്പോൾ തന്നെ സന്ദർശിക്കൂ

www.rtoexamtest.in

Q10 താഴെ പറയുന്ന വാഹനങ്ങൾക്ക് തടസ്സമില്ലാതെ പോകാൻ വഴി നൽകണം:

1. പോലീസ് വാഹനങ്ങൾക്ക്

2. ആംബുലൻസിനും അഗ്നിശമന സേനാ വാഹനങ്ങൾക്കും

3. എക്സ്പ്രസ്സ്, സൂപ്പർ എക്സ്പ്രസ്സ് ബസുകൾക്ക്

Ans: 2

Q11 എതിർദിശയിൽ നിന്ന് വരുന്ന വാഹനങ്ങളെ ഏത് വശത്തുകൂടി കടന്നുപോകാൻ അനുവദിക്കണം?

1. നിങ്ങളുടെ വലതുവശത്തുകൂടി

2. നിങ്ങളുടെ ഇടതുവശത്തുകൂടി

3. സൗകര്യപ്രദമായ വശത്തുകൂടി

Ans: 1

Q12 ഒരു വാഹനത്തിന് എപ്പോൾ ഓവർടേക്ക് ചെയ്യാം?

1. ഇറക്കം ഇറങ്ങുമ്പോൾ

2. റോഡിന് ആവശ്യത്തിന് വീതിയുണ്ടെങ്കിൽ

3. മുന്നിലുള്ള വാഹനത്തിന്റെ ഡ്രൈവർ ഓവർടേക്ക് ചെയ്യാൻ സിഗ്നൽ കാണിക്കുമ്പോൾ

Ans: 3

Q13 ഡ്രൈവർ വാഹനം റോഡിന്റെ ഏത് വശത്തുകൂടി ഓടിക്കണം?

1. റോഡിന്റെ വലതുവശത്തുകൂടി

2. റോഡിന്റെ ഇടതുവശത്തുകൂടി

3. റോഡിന്റെ നടുവിലൂടെ

Ans: 2

Q14 രാത്രിയിൽ റോഡരികിൽ വാഹനം പാർക്ക് ചെയ്യുമ്പോൾ:

1. വാഹനം ലോക്ക് ചെയ്തിരിക്കണം

2. ലൈസൻസുള്ള വ്യക്തി ഡ്രൈവർ സീറ്റിൽ ഇരിക്കണം

3. പാർക്കിംഗ് ലൈറ്റുകൾ കത്തിച്ചിരിക്കണം

Ans: 3

Q15 ഫോഗ് ലാന്റുകൾ എപ്പോഴാണ് ഉപയോഗിക്കുന്നത്?

1. രാത്രി സമയത്ത്

2. മൂടൽമഞ്ഞ് ഉള്ളപ്പോൾ

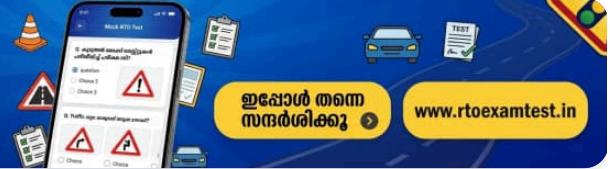
3. എതിർദിശയിലുള്ള വാഹനം ഡിം ലൈറ്റ് ഉപയോഗിക്കാത്തപ്പോൾ

Ans: 2



കൂടുതൽ മോക്ക് ടെസ്റ്റുകൾ പരിശീലിച്ച് പരീക്ഷ വിജയിക്കൂ

ഡ്രൈവിംഗ് ലൈസൻസ് പരീക്ഷയ്ക്ക് ആവശ്യമായ കൂടുതൽ ചോദ്യങ്ങളും പരിശീലനവും ഞങ്ങളുടെ വെബ്സൈറ്റിൽ ലഭ്യമാണ്



ഇപ്പോൾ തന്നെ സന്ദർശിക്കൂ

www.rtoexamtest.in

Q16 സീബ്രാ ലൈനുകൾ എതിനാണ് ഉപയോഗിക്കുന്നത്?

1. വാഹനം നിർത്താൻ

2. കാൽനടയാത്രക്കാർക്ക് റോഡ് മുറിച്ചുകടക്കാൻ

3. വാഹനങ്ങൾക്ക് മുൻഗണന നൽകാൻ

Ans: 2

Q17 ഒരു ആംബുലൻസ് വരുമ്പോൾ...

1. എതിർവശത്ത് നിന്ന് വാഹനങ്ങൾ വരുന്നില്ലെങ്കിൽ മാത്രം വഴി നൽകുക

2. പ്രത്യേക പരിഗണന നൽകേണ്ടതില്ല

3. ഡ്രൈവർ വാഹനം റോഡിന്റെ വശത്തേക്ക് മാറ്റി ആംബുലൻസിന് തടസ്സമില്ലാതെ പോകാൻ സൗകര്യമൊരുക്കണം

Ans: 3

Q18 ചുവന്ന ട്രാഫിക് ലൈറ്റ് സൂചിപ്പിക്കുന്നത് എന്താണ്?

1. വാഹനം ശ്രദ്ധയോടെ മുന്നോട്ട് കൊണ്ടുപോകാം

2. വാഹനം നിർത്തുക

3. വേഗത കുറയ്ക്കുക

Ans: 2

Q19 ആശുപത്രി ഗേറ്റിന് മുന്നിൽ വാഹനം പാർക്ക് ചെയ്യുന്നത്

1. ശരിയാണ്

2. തെറ്റാണ്

3. 'നോ പാർക്കിംഗ്' ബോർഡ് ഇല്ലെങ്കിൽ ശരിയാണ്

Ans: 2

Q20 റോഡിൽ 'വഴുക്കലുള്ള റോഡ്' എന്ന ബോർഡ് കണ്ടാൽ ഡ്രൈവർ എന്ത് ചെയ്യണം?

1. ഗിയർ മാറ്റി വണ്ടിയുടെ വേഗത കുറയ്ക്കണം

2. ബ്രേക്ക് പിടിക്കണം

3. അതേ വേഗതയിൽ തന്നെ പോകണം

Ans: 1

Q21 ഏത് സാഹചര്യത്തിലാണ് ഓവർടേക്ക് ചെയ്യാൻ പാടില്ലാത്തത്?

1. ഇത് മറ്റ് വാഹനങ്ങൾക്ക് ബുദ്ധിമുട്ടോ അപകടമോ ഉണ്ടാക്കാൻ സാധ്യതയുള്ളപ്പോൾ

2. മുന്നിൽ പോകുന്ന വാഹനം വേഗത കുറയ്ക്കുമ്പോൾ

3. രാത്രി സമയത്ത്

Ans: 1

Q22 ഒരു വളവിലേക്ക് അടുക്കുമ്പോൾ ഓവർടേക്ക് ചെയ്യുന്നത്

1. അനുവദനീയമാണ്

2. പാടില്ല

3. ശ്രദ്ധയോടെ ചെയ്യാവുന്നതാണ്

Ans: 2

Q23 മദ്യപിച്ച് വാഹനം ഓടിക്കുന്നത്

1. സ്വകാര്യ വാഹനങ്ങളിൽ അനുവദനീയമാണ്

2. രാത്രി സമയത്ത് അനുവദനീയമാണ്

3. എല്ലാ വാഹനങ്ങളിലും കർശനമായി നിരോധിച്ചിരിക്കുന്നു

Ans: 3

Q24 എവിടെയാണ് ഹോൺ അടിക്കുന്നത് നിരോധിച്ചിരിക്കുന്നത്?

1. മുസ്ലിം പള്ളി, ചർച്ച്, അമ്പലം എന്നിവയ്ക്ക് സമീപം

2. ആശുപത്രി, കോടതികൾ എന്നിവയ്ക്ക് സമീപം

3. പോലീസ് സ്റ്റേഷൻ സമീപം

Ans: 2

Q25 റിയർ-വ്യൂ മിറർ (പിന്നിലെ കാഴ്ച കാണുന്ന കണ്ണാടി) എന്തിനാണ് ഉപയോഗിക്കുന്നത്?

1. സ്വന്തം മുഖം നോക്കാൻ

2. പിന്നിൽ നിന്ന് വരുന്ന വാഹനങ്ങളെ കാണാൻ

3. പിറകിലിരിക്കുന്ന യാത്രക്കാരെ കാണാൻ

Ans: 2

Q26 ഓടുന്ന വാഹനത്തിൽ കയറുന്നതും ഇറങ്ങുന്നതും

1. ബസിൽ അനുവദനീയമാണ്

2. ഓട്ടോറിക്ഷയിൽ അനുവദനീയമാണ്

3. എല്ലാ വാഹനങ്ങളിലും കർശനമായി നിരോധിച്ചിരിക്കുന്നു

Ans: 3

Q27 എവിടെയാണ് വാഹനം പാർക്ക് ചെയ്യാൻ അനുമതിയുള്ളത്?

1. വളവുകളിൽ

2. ഫുട്പാത്തുകളിൽ

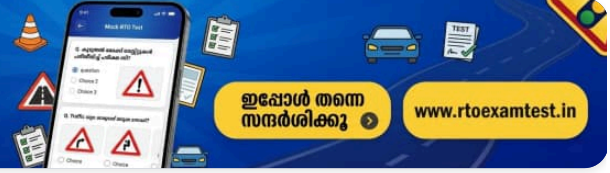
3. പാർക്കിംഗ് നിരോധിക്കാത്ത ഇടങ്ങളിൽ

Ans: 3



കൂടുതൽ മോക്ക് ടെസ്റ്റുകൾ പരിശീലിച്ച് പരീക്ഷ വിജയിക്കൂ

ഡ്രൈവിംഗ് ലൈസൻസ് പരീക്ഷയ്ക്ക് ആവശ്യമായ കൂടുതൽ ചോദ്യങ്ങളും പരിശീലനവും ഞങ്ങളുടെ വെബ്സൈറ്റിൽ ലഭ്യമാണ്



ഇപ്പോൾ തന്നെ സന്ദർശിക്കൂ

www.rtoexamtest.in

Q28 വാഹനത്തിൽ പെട്രോൾ/ഡീസൽ നിറയ്ക്കുമ്പോൾ

1. കാറ്റിന്റെ പ്രഷർ പരിശോധിക്കാൻ പാടില്ല

2. പുകവലിക്കാൻ പാടില്ല

3. വാഹനത്തിന്റെ ഒരു ലൈറ്റും ഇടാൻ പാടില്ല

Ans: 2

Q29 എപ്പോഴാണ് മൊബൈൽ ഫോൺ ഉപയോഗിക്കാൻ പാടില്ലാത്തത്?

1. സർക്കാർ ഓഫീസുകളിൽ

2. പോലീസ് സ്റ്റേഷനുകളിൽ

3. വാഹനം ഓടിക്കുമ്പോൾ

Ans: 3

Q30 ഓവർടേക്ക് ചെയ്യാൻ പാടില്ലാത്തത് എപ്പോഴാണ്?

1. മുന്നിലുള്ള റോഡ് വ്യക്തമായി കാണാത്തപ്പോൾ

2. മുന്നിലുള്ള റോഡിന് ആവശ്യത്തിന് വീതിയുണ്ടെങ്കിൽ

3. റോഡിന്റെ നടുവിൽ വെള്ള നിറത്തിൽ മുറിഞ്ഞ വരകൾ ഉള്ളപ്പോൾ

Ans: 1

Q31 കൂർത്ത വളവുകളിലോ നിർത്തിയിട്ടിരിക്കുന്ന വാഹനത്തിന്റെ വളരെ അടുത്തോ കാൽനടയാത്രക്കാർ റോഡ് മുറിച്ചുകടക്കാൻ പാടില്ല. എന്തുകൊണ്ട്?

1. ഇത് മറ്റ് വാഹനങ്ങൾക്ക് ബുദ്ധിമുട്ടുണ്ടാക്കും

2. ഇത് മറ്റ് യാത്രക്കാർക്ക് ബുദ്ധിമുട്ടുണ്ടാക്കും

3. ദൂരെ നിന്ന് വരുന്ന മറ്റ് വാഹനങ്ങളിലെ ഡ്രൈവർമാർക്ക് റോഡ് മുറിച്ചുകടക്കുന്നവരെ കാണാൻ കഴിഞ്ഞേക്കാവൂ

Ans: 3

Q32 ഒരു സ്വകാര്യ വാഹനത്തിന് ഉണ്ടായിരിക്കേണ്ട രേഖകൾ

1. രജിസ്ട്രേഷൻ സർട്ടിഫിക്കറ്റ് (RC), ജി.സി.ആർ, ഇൻഷുറൻസ്

2. രജിസ്ട്രേഷൻ സർട്ടിഫിക്കറ്റ് (RC), ഇൻഷുറൻസ്, ടാക്സ് ടോക്കൺ, ഡ്രൈവിംഗ് ലൈസൻസ്

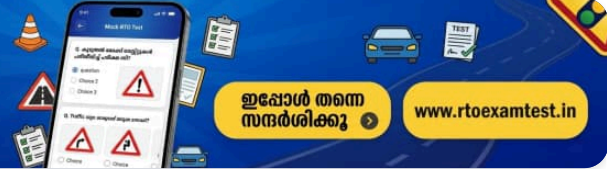
3. രജിസ്ട്രേഷൻ സർട്ടിഫിക്കറ്റ് (RC), പെർമിറ്റ്, ട്രിപ്പ് ഷീറ്റ്

Ans: 2



കൂടുതൽ മോക്ക് ടെസ്റ്റുകൾ പരിശീലിച്ച് പരീക്ഷ വിജയിക്കൂ

ഡ്രൈവിംഗ് ലൈസൻസ് പരീക്ഷയ്ക്ക് ആവശ്യമായ കൂടുതൽ ചോദ്യങ്ങളും പരിശീലനവും ഞങ്ങളുടെ വെബ്സൈറ്റിൽ ലഭ്യമാണ്



ഇപ്പോൾ തന്നെ സന്ദർശിക്കൂ

www.rtoexamtest.in

Q33 നിങ്ങൾ പോകുന്ന റോഡിൽ നിന്ന് ഇടതുവശത്തുള്ള റോഡിലേക്ക് തിരിയുമ്പോൾ നിങ്ങൾ എന്ത് ചെയ്യണം?

1. ഇടത്തോട്ടുള്ള ഇൻഡിക്കേറ്റർ ഇടുക, റോഡിന്റെ നടുവിലേക്ക് മാറി ഇടത്തോട്ട് തിരിയുക

2. ഹോൺ അടിച്ചിട്ട് ഇടത്തോട്ട് തിരിയുക

3. ഇടത്തോട്ടുള്ള ഇൻഡിക്കേറ്റർ ഇടുക, റോഡിന്റെ ഇടതുവശത്ത് തന്നെ ചേർന്ന് ഇടത്തോട്ട് തിരിയുക

Ans: 3

Q34 P.U.C.C. (പൊലുഷൻ സർട്ടിഫിക്കറ്റ്) കാലാവധി എത്രയാണ്?

1. 6 മാസം

2. ഒരു വർഷം

3. രണ്ട് വർഷം

Ans: 1

Q35 രാത്രി ഹൈ ബീമിൽ ലൈറ്റ് ഇട്ട് വണ്ടിയോടിക്കുമ്പോൾ എതിരെ ഒരു വാഹനം വന്നാൽ നിങ്ങൾ എന്ത് ചെയ്യും?

1. ഇടതുവശം ചേർന്ന് തന്നെ വണ്ടിയോടിച്ചു പോകും

2. ഹെഡ് ലൈറ്റ് പലതവണ ഹൈയും ലോയും ആക്കി കാണിക്കും

3. എതിരെയുള്ള വാഹനം കടന്നുപോകുന്നത് വരെ ഹെഡ് ലൈറ്റ് ഡിം (ലോ ബീം) ആക്കി വെക്കും

Ans: 3

Q36 ഒരു ഡ്രൈവർ തന്റെ വലതുകൈ കൈപ്പത്തി താഴേക്ക് വരുന്ന രീതിയിൽ പുറത്തേക്കിട്ട് മുകളിലേക്കും താഴേക്കും ആട്ടിയാൽ നിങ്ങൾ എന്താണ് മനസ്സിലാക്കേണ്ടത്?

1. അയാൾ ഇടത്തോട്ട് തിരിയുകയാണ്

2. അയാൾ വാഹനത്തിന്റെ വേഗത കുറയ്ക്കുകയാണ്

3. പിന്നിലുള്ള വാഹനത്തെ ഓവർടേക്ക് ചെയ്യാൻ അനുവദിക്കുകയാണ്

Ans: 2

Q37 ഗിയറില്ലാത്ത മോട്ടോർ സൈക്കിൾ (ഉദാഹരണത്തിന് സ്കൂട്ടർ) ഓടിക്കാൻ ലൈസൻസ് എടുക്കുന്നതിനുള്ള കുറഞ്ഞ പ്രായം എത്രയാണ്?

1. 18 വയസ്സ്

2. 21 വയസ്സ്

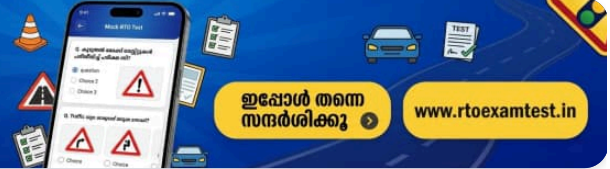
3. 16 വയസ്സ്

Ans: 3



കൂടുതൽ മോക്ക് ടെസ്റ്റുകൾ പരിശീലിച്ച് പരീക്ഷ വിജയിക്കൂ

ഡ്രൈവിംഗ് ലൈസൻസ് പരീക്ഷയ്ക്ക് ആവശ്യമായ കൂടുതൽ ചോദ്യങ്ങളും പരിശീലവും ഞങ്ങളുടെ വെബ്സൈറ്റിൽ ലഭ്യമാണ്



ഇപ്പോൾ തന്നെ സന്ദർശിക്കൂ

www.rtoexamtest.in

Q38 റോഡിൽ 'സ്കൂൾ' എന്ന ട്രാഫിക് ബോർഡ് കണ്ടാൽ നിങ്ങൾ എന്ത് ചെയ്യണം?

1. വാഹനം നിർത്തി ഹോൺ അടിച്ച ശേഷം മാത്രം മുന്നോട്ട് പോകുക

2. വാഹനത്തിന്റെ വേഗത കുറച്ച് വളരെ ശ്രദ്ധയോടെ മുന്നോട്ട് പോകുക

3. തുടർച്ചയായി ഹോൺ അടിച്ചു മുന്നോട്ട് പോകുക

Ans: 2

Q39 ഇടത്തോട്ട് തിരിയുമ്പോൾ ഇരുചക്രവാഹന യാത്രക്കാർ എന്ത് ചെയ്യണം?

1. ഇടതു കൈ പുറത്തേക്ക് നീട്ടി സിഗ്നൽ കാണിക്കണം

2. കൈകൊണ്ട് ഒരു സിഗ്നലും കാണിക്കരുത്

3. വലതു കൈകൊണ്ട് ഇടത്തോട്ട് തിരിയുന്നതിനുള്ള സിഗ്നൽ കാണിക്കണം

Ans: 3

Q40 യു-ടേൺ എടുക്കുമ്പോൾ ഏത് ഇൻഡിക്കേറ്റർ ആണ് ഉപയോഗിക്കേണ്ടത്?

1. ഇടത്തോട്ടുള്ള ഇൻഡിക്കേറ്റർ

2. വലത്തോട്ടുള്ള ഇൻഡിക്കേറ്റർ

3. വേഗത കുറയ്ക്കുന്നതിനുള്ള സിഗ്നൽ

Ans: 2

Q41 ഒരു ഡ്രൈവർ എവിടെയാണ് യു-ടേൺ എടുക്കാൻ പാടില്ലാത്തത്?

1. ഗതാഗത നിയന്ത്രണങ്ങളില്ലാത്ത റോഡിൽ

2. വളരെയധികം തിരക്കുള്ള റോഡിൽ

3. ഇടതുവശത്തുകൂടി വാഹനങ്ങൾ കടന്നുപോകുമ്പോൾ

Ans: 2

Q42 പുതിയ കാർ വാങ്ങുമ്പോൾ അടയ്ക്കുന്ന 'വൺ ടൈം ടാക്സ്' എത്ര വർഷത്തേക്കാണ്?

1. വാഹനത്തിന്റെ രജിസ്ട്രേഷൻ റദ്ദാക്കുന്നത് വരെ

2. 15 വർഷത്തേക്ക്

3. 5 വർഷത്തേക്ക്

Ans: 2

Q43 ഒരു വാഹനത്തെ ഓവർടേക്ക് ചെയ്യുന്നതിന് മുമ്പ് ഡ്രൈവർ എന്താണ് ഉറപ്പുവരുത്തേണ്ടത്?

1. പിന്നിൽ നിന്ന് വേറെ വാഹനങ്ങളൊന്നും വരുന്നില്ല എന്ന്

2. മുന്നിലുള്ള റോഡ് വ്യക്തമായി കാണാൻ കഴിയുന്നുണ്ടെന്നും ഓവർടേക്ക് ചെയ്യുന്നത് സുരക്ഷിതമാണെന്നും

3. മുന്നിലുള്ള വാഹനം ഇടത്തോട്ട് തിരിയുകയാണെന്ന്

Ans: 2

Q44 സാധനങ്ങൾ കൊണ്ടുപോകുന്ന വാഹനത്തിന്റെ (ഗുഡ്സ് കാരിയർ) ക്യാബിനിൽ എത്ര പേർക്ക് ഇരിക്കാം?

1. 5 പേർ

2. സാധനങ്ങൾ കയറ്റാനും ഇറക്കാനും ആവശ്യമായത്ര ആളുകൾ

3. രജിസ്ട്രേഷൻ സർട്ടിഫിക്കറ്റിൽ (RC) രേഖപ്പെടുത്തിയിട്ടുള്ള അത്രയും പേർ

Ans: 3

Q45 മറ്റൊരു വാഹനം നിങ്ങളുടെ വാഹനത്തെ ഓവർടേക്ക് ചെയ്യുമ്പോൾ നിങ്ങൾ എന്ത് ചെയ്യണം?

1. നിങ്ങളുടെ വാഹനം നിർത്തി ആ വാഹനത്തെ കടന്നുപോകാൻ അനുവദിക്കണം

2. നിങ്ങളുടെ വാഹനത്തിന്റെ വേഗത കുട്ടണം

3. മറ്റേ വാഹനത്തെ ഓവർടേക്ക് ചെയ്യുന്നതിൽ നിന്ന് തടസ്സപ്പെടുത്തരുത്

Ans: 3

Q46 ഇവയിൽ എവിടെയാണ് വാഹനം പാർക്ക് ചെയ്യുന്നത് നിരോധിച്ചിരിക്കുന്നത്?

1. പാർക്ക് ചെയ്തിരിക്കുന്ന മറ്റൊരു വാഹനത്തിന് മുന്നിൽ

2. വൺവേ റോഡിൽ

3. ഫുട്പാത്തിൽ

Ans: 3

Q47 വാഹനത്തിൽ ഹാൻഡ് ബ്രേക്ക് എന്തിനാണ് ഉപയോഗിക്കുന്നത്?

1. വേഗത കുറയ്ക്കാൻ

2. പെട്ടെന്ന് ബ്രേക്ക് പിടിക്കാൻ

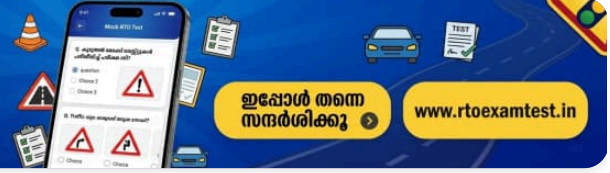
3. വാഹനം സുരക്ഷിതമായി പാർക്ക് ചെയ്യാൻ

Ans: 3



കൂടുതൽ മോക്ക് ടെസ്റ്റുകൾ പരിശീലിച്ച് പരീക്ഷ വിജയിക്കൂ

ഡ്രൈവിംഗ് ലൈസൻസ് പരീക്ഷയ്ക്ക് ആവശ്യമായ കൂടുതൽ ചോദ്യങ്ങളും പരിശീലനവും ഞങ്ങളുടെ വെബ്സൈറ്റിൽ ലഭ്യമാണ്



ഇപ്പോൾ തന്നെ സന്ദർശിക്കൂ

www.rtoexamtest.in

Q48 ഇരുചക്ര വാഹനത്തിൽ രണ്ടിൽ കൂടുതൽ പേർ യാത്ര ചെയ്യുന്നത്

1. ഒഴിവാക്കാനാവാത്ത സാഹചര്യങ്ങളിൽ അനുവദനീയമാണ്

2. നിയമലംഘനമാണ്

3. തിരക്ക് കുറവുള്ളപ്പോൾ അനുവദനീയമാണ്

Ans: 2

Q49 ആശുപത്രിക്ക് സമീപം നിങ്ങൾക്കൊരു വാഹനത്തെ ഓവർടേക്ക് ചെയ്യണമെങ്കിൽ, നിങ്ങൾ

1. തുടർച്ചയായി ഹോൺ മുഴക്കും

2. ഹോൺ മുഴക്കില്ല

3. ഇടവിട്ട് മാത്രം ഹോൺ മുഴക്കും

Ans: 2

Q50 രജിസ്റ്റർ ചെയ്യാത്ത വാഹനം പൊതുനിരത്തിൽ ഓടിക്കുന്നത്

1. നിയമവിരുദ്ധമാണ്

2. നിയമപരമാണ്

3. അടിയന്തര സാഹചര്യങ്ങളിൽ നിയമപരമാണ്

Ans: 1

Q51 ട്രാൻസ്പോർട്ട് വാഹനങ്ങൾ (ഉദാ: ട്രക്ക്, ബസ്) ഓടിക്കുന്നതിനുള്ള ലൈസൻസ് എടുക്കുന്നതിനുള്ള കുറഞ്ഞ പ്രായം എത്രയാണ്?

1. 25 വയസ്സ്

2. 18 വയസ്സ്

3. 20 വയസ്സ്

Ans: 3

Q52 ഇതിൽ എവിടെവെച്ചാണ് ഓവർടേക്ക് ചെയ്യാൻ പാടില്ലാത്തത്?

1. സംസ്ഥാന പാതയിൽ

2. പഞ്ചായത്ത് റോഡുകളിൽ

3. ഇടുങ്ങിയ പാലത്തിൽ

Ans: 3

Q53 മൃഗങ്ങളുമായി പോകുന്ന ഒരാൾ, മൃഗം വിരണ്ടോടുമെന്ന ഭയത്താൽ വാഹനം നിർത്താൻ ആവശ്യപ്പെട്ടാൽ:

1. ഡ്രൈവർ വാഹനം നിർത്തണം

2. ഡ്രൈവർ ഹോൺ മുഴക്കി മുന്നോട്ട് പോകണം

3. ഡ്രൈവർ വേഗത കുറച്ചാൽ മതി

Ans: 1

Q54 ഇതിൽ എവിടെയാണ് പാർക്കിംഗ് നിരോധിച്ചിരിക്കുന്നത്?

1. റോഡരികിൽ

2. പാർക്കിംഗ് അനുവദിച്ചിട്ടുള്ള സ്ഥലത്ത്

3. ട്രാഫിക് ലൈറ്റിന് സമീപം

Ans: 3

Q55 അമിത വേഗതയിൽ വാഹനം ഓടിക്കുന്നത്

1. ഡ്രൈവിംഗ് ലൈസൻസ് സസ്പെൻഡ് ചെയ്യാനോ റദ്ദാക്കാനോ കാരണമാകുന്ന കുറ്റമാണ്

2. പിഴ മാത്രം ലഭിക്കുന്ന കുറ്റമാണ്

3. ഒരു കുറ്റമല്ല

Ans: 1

Q56 വിദ്യാർത്ഥികളെ കയറ്റാനോ ഇറക്കാനോ ആയി സ്കൂൾ ബസ് നിർത്തിയിടുമ്പോൾ നിങ്ങൾ എന്ത് ചെയ്യണം?

1. ഹോൺ മുഴക്കി മുന്നോട്ട് പോകണം

2. കുട്ടികൾ പെട്ടെന്ന് റോഡ് കുറുകെ കടക്കാൻ സാധ്യതയുള്ളതിനാൽ സാവധാനത്തിലും ശ്രദ്ധയോടെയും പോകണം

3. പ്രത്യേക ശ്രദ്ധയൊന്നും ആവശ്യമില്ല

Ans: 2

Q57 ഒരു അന്ധനായ വ്യക്തി വെള്ള വടിയുമായി റോഡ് കുറുകെ കടക്കുമ്പോൾ, ഡ്രൈവർ എന്ത് ചെയ്യണം?

1. വെള്ള വടിയെ വാഹനം നിർത്താനുള്ള ട്രാഫിക് സിഗ്നലായി കണക്കാക്കി വാഹനം നിർത്തണം

2. ഹോൺ മുഴക്കി മുന്നോട്ട് പോകണം

3. വേഗത കുറച്ച് ശ്രദ്ധയോടെ മുന്നോട്ട് പോകണം

Ans: 1

Q58 നിങ്ങളുടെ വാഹനം അപകടത്തിൽ പെട്ടാൽ നിങ്ങൾ എന്ത് ചെയ്യണം?

1. 24 മണിക്കൂറിനുള്ളിൽ അടുത്തുള്ള പോലീസ് സ്റ്റേഷനിൽ വിവരമറിയിക്കണം

2. 12 മണിക്കൂറിനുള്ളിൽ അടുത്തുള്ള പോലീസ് സ്റ്റേഷനിൽ വിവരമറിയിക്കണം

3. 48 മണിക്കൂറിനുള്ളിൽ അടുത്തുള്ള പോലീസ് സ്റ്റേഷനിൽ വിവരമറിയിക്കണം

Ans: 1



കൂടുതൽ മോക്ക് ടെസ്റ്റുകൾ പരിശീലിച്ച് പരീക്ഷ വിജയിക്കൂ

ഡ്രൈവിംഗ് ലൈസൻസ് പരീക്ഷയ്ക്ക് ആവശ്യമായ കൂടുതൽ ചോദ്യങ്ങളും പരിശീലനവും ഞങ്ങളുടെ വെബ്സൈറ്റിൽ ലഭ്യമാണ്



ഇപ്പോൾ തന്നെ സന്ദർശിക്കൂ

www.rtoexamtest.in

Q59 അപകടത്തിൽ ഏതെങ്കിലും മൂന്നാം കക്ഷിയുടെ (തേർഡ് പാർട്ടി) സ്വത്തിന് നാശനഷ്ടം സംഭവിച്ചാൽ, ഡ്രൈവർ:

1. 24 മണിക്കൂറിനുള്ളിൽ അടുത്തുള്ള പോലീസ് സ്റ്റേഷനിൽ റിപ്പോർട്ട് ചെയ്യണം

2. 7 ദിവസത്തിനുള്ളിൽ അടുത്തുള്ള പോലീസ് സ്റ്റേഷനിൽ റിപ്പോർട്ട് ചെയ്യണം

3. പോലീസ് സ്റ്റേഷനിൽ റിപ്പോർട്ട് ചെയ്യേണ്ട ആവശ്യമില്ല

Ans: 1

Q60 പിന്നിലുള്ള വാഹനം നിങ്ങളുടെ വാഹനത്തെ ഓവർടേക്ക് ചെയ്യാൻ തുടങ്ങുമ്പോൾ, നിങ്ങൾ:

1. മറ്റൊരു വാഹനത്തെ ഓവർടേക്ക് ചെയ്യാൻ പാടില്ല

2. മറ്റൊരു വാഹനത്തെ ഓവർടേക്ക് ചെയ്യാം

3. ഹോൺ മുഴക്കിക്കൊണ്ട് മറ്റൊരു വാഹനത്തെ ഓവർടേക്ക് ചെയ്യാം

Ans: 1

Q61 മുന്നിൽ പോകുന്ന വാഹനത്തിന്റെ ഡ്രൈവർ ഓവർടേക്ക് ചെയ്യാൻ സിഗ്നൽ നൽകിയിട്ടില്ലെങ്കിൽ, നിങ്ങൾ:

1. ഓവർടേക്ക് ചെയ്യാം

2. ഓവർടേക്ക് ചെയ്യാൻ പാടില്ല

3. ഹോൺ മുഴക്കിക്കൊണ്ട് ഓവർടേക്ക് ചെയ്യാം

Ans: 2

Q62 മറ്റൊരു വാഹനം നിങ്ങളുടെ വാഹനത്തെ ഓവർടേക്ക് ചെയ്യുമ്പോൾ, നിങ്ങൾ:

1. വാഹനത്തിന്റെ വേഗത കുട്ടരുത്

2. വാഹനത്തിന്റെ വേഗത കൂട്ടാം

3. ശ്രദ്ധയോടെ വേഗത കൂട്ടാം

Ans: 1

Q63 മോട്ടോർ സൈക്കിളിൽ പിന്നിൽ ഒരാളെ ഇരുത്തണമെങ്കിൽ വാഹനത്തിൽ എന്തൊക്കെ ഉണ്ടായിരിക്കണം?

1. ഫുട് റെസ്റ്റ്, ഹാൻഡ് ഗ്രിപ്പ്, സാരി ഗാർഡ് എന്നിവ

2. ഒരു സൈഡ് കാർ

3. റിയർ വ്യൂ മിറർ

Ans: 1

Q64 പബ്ലിക് സർവീസ് വാഹനം (ബസ് അല്ലെങ്കിൽ ടാക്സി പോലെയുള്ളവ) ഓടിക്കുമ്പോൾ പുകവലിച്ചാൽ:

1. ഡ്രൈവിംഗ് ലൈസൻസ് സസ്പെൻഡ് ചെയ്യപ്പെടാം

2. പിഴ മാത്രം അടയ്ക്കേണ്ടി വരാം

3. ഇവയിലൊന്നുമല്ല

Ans: 1

Q65 മറ്റുള്ളവർക്കോ യാത്രക്കാർക്കോ ബുദ്ധിമുട്ടുണ്ടാക്കുന്ന രീതിയിൽ പൊതുസ്ഥലത്ത് വാഹനം ഉപേക്ഷിച്ചു പോകുന്നത്...

1. ഡ്രൈവിംഗ് ലൈസൻസ് സസ്പെൻഡ് ചെയ്യാനോ റദ്ദാക്കാനോ സാധ്യതയുണ്ട്

2. പിഴ മാത്രമേ ഈടാക്കുകയുള്ളൂ

3. മുകളിൽ പറഞ്ഞവ ഒന്നുമല്ല

Ans: 1

Q66 പ്രതിഷേധം, പ്രക്ഷോഭം അല്ലെങ്കിൽ പണിമുടക്ക് എന്നിവയുടെ ഭാഗമായി പൊതുജനങ്ങൾക്കോ യാത്രക്കാർക്കോ ബുദ്ധിമുട്ടുണ്ടാക്കുന്ന തരത്തിൽ പൊതുസ്ഥലങ്ങളിൽ വാഹനങ്ങൾ ഉപേക്ഷിക്കുന്നത്...

1. ഡ്രൈവിംഗ് ലൈസൻസ് സസ്പെൻഡ് ചെയ്യാനോ റദ്ദാക്കാനോ സാധ്യതയുണ്ട്

2. പിഴ മാത്രമേ ഈടാക്കുകയുള്ളൂ

3. ഇത് ഡ്രൈവറുടെ നിയമപരമായ അവകാശമാണ്

Ans: 1

Q67 ചരക്ക് വാഹനങ്ങളിൽ അനുവദനീയമായതിൽ കൂടുതൽ ഭാരം കയറ്റുന്നത്...

1. നിയമപരമായി ശിക്ഷാർഹമല്ല

2. പിഴ മാത്രമേ ഈടാക്കുകയുള്ളൂ

3. ഡ്രൈവിംഗ് ലൈസൻസ് സസ്പെൻഡ് ചെയ്യുകയോ റദ്ദാക്കുകയോ ചെയ്യാം

Ans: 3

Q68 ദുരം കുറവാണെന്ന കാരണത്താൽ ഒരു ടാക്സി ഡ്രൈവർ യാത്ര നിഷേധിക്കുന്നത്...

1. ഡ്രൈവിംഗ് ലൈസൻസ് സസ്പെൻഡ് ചെയ്യുകയോ റദ്ദാക്കുകയോ ചെയ്യാം

2. പിഴ മാത്രമേ ഈടാക്കുകയുള്ളൂ

3. മുകളിൽ പറഞ്ഞവ ഒന്നുമല്ല

Ans: 1

Q69 ട്രാഫിക് സിഗ്നലോ പോലീസോ ഇല്ലാത്ത ഒരു കവലയിൽ എത്തുമ്പോൾ, നിങ്ങൾ ചെയ്യേണ്ടത്...

1. മറ്റ് റോഡുകളിൽ നിന്ന് കവലയിലേക്ക് വരുന്ന വാഹനങ്ങൾക്ക് കടന്നുപോകാൻ വഴി നൽകുക

2. ശരിയായ സിഗ്നൽ നൽകി, ഹോൺ മുഴക്കി മുന്നോട്ട് പോകുക

3. നിങ്ങളുടെ വലതുവശത്ത് നിന്ന് വരുന്ന വാഹനങ്ങൾക്ക് വഴി നൽകുകയും ആവശ്യമായ സിഗ്നലുകൾ നൽകിയ ശേഷം മാത്രം മുന്നോട്ട് പോകുകയും ചെയ്യുക

Ans: 3

Q70 മഞ്ഞ സിഗ്നൽ ലൈറ്റ് മിന്നിമറയുന്ന ഒരു കവലയിലേക്ക് അടുക്കുമ്പോൾ, നിങ്ങൾ ചെയ്യേണ്ടത്...

1. നിയന്ത്രണങ്ങളൊന്നുമില്ലാത്ത അതേ വേഗതയിൽ തന്നെ മുന്നോട്ട് പോകുക

2. വാഹനം നിർത്തി പച്ച ലൈറ്റ് തെളിയുന്നത് വരെ കാത്തിരിക്കുക

3. വാഹനത്തിന്റെ വേഗത കുറച്ച്, മുന്നോട്ട് പോകുന്നത് സുരക്ഷിതമാണെന്ന് ഉറപ്പുവരുത്തിയ ശേഷം മാത്രം യാത്ര തുടരുക

Ans: 3

Q71 തുടർച്ചയായ മഞ്ഞ വര കൊണ്ട് അടയാളപ്പെടുത്തിയിരിക്കുന്ന റോഡുകളിൽ, വാഹനം...

1. മഞ്ഞ വരയിൽ തൊടുകയോ അത് മറികടക്കുകയോ ചെയ്യരുത്

2. മഞ്ഞ വരയുടെ വലതുവശത്തുകൂടി മാത്രമേ ഓവർടേക്ക് ചെയ്യാൻ അനുവദിക്കാവൂ

3. മുന്നിലുള്ള വാഹനത്തെ മറികടക്കുമ്പോൾ മാത്രമേ ഈ വര മുറിച്ചുകടക്കാവൂ

Ans: 1

Q72 ചെരിവുള്ളതോ കയറ്റമുള്ളതോ ആയ റോഡുകളിൽ വാഹനമോടിക്കുമ്പോൾ നിങ്ങൾ...

1. ഇറക്കം ഇറങ്ങി വരുന്ന വാഹനങ്ങൾക്ക് മുൻഗണന നൽകണം

2. കയറ്റം കയറുന്ന വാഹനങ്ങൾക്ക് മുൻഗണന നൽകണം

3. ഭാരം കയറ്റി വരുന്ന വാഹനങ്ങൾക്ക് മുൻഗണന നൽകണം

Ans: 2

Q73 ഒരു ട്രാക്ടർ ഡ്രൈവർ വാഹനത്തിൽ കയറ്റാൻ പാടില്ലാത്തത്...

1. ഡ്രൈവർ ഒഴികെ മറ്റൊരാളെയും

2. ഡ്രൈവർ ഒഴികെ മുന്നിൽ കൂടുതൽ ആളുകളെ

3. ഡ്രൈവർ ഉൾപ്പെടെ രണ്ടിൽ കൂടുതൽ ആളുകളെ

Ans: 1

Q74 ഒരു ചെറിയ റോഡിൽ നിന്ന് പ്രധാന റോഡിലേക്ക് പ്രവേശിക്കുമ്പോൾ, ഡ്രൈവർ മുൻഗണന നൽകേണ്ടത്...

1. ഇടതുവശത്ത് നിന്ന് വരുന്ന വാഹനങ്ങൾക്ക്

2. വലതുവശത്ത് നിന്ന് വരുന്ന വാഹനങ്ങൾക്ക്

3. പ്രധാന റോഡിലൂടെ പോകുന്ന എല്ലാ വാഹനങ്ങൾക്കും

Ans: 3

Q75 ഇടതുവശത്തുകൂടി നിങ്ങൾക്ക് ഒരു വാഹനത്തെ മറികടക്കാൻ കഴിയുന്നത്...

1. ആ വാഹനത്തിന്റെ ഡ്രൈവർ വലത്തോട്ട് തിരിയാൻ ഇൻഡിക്കേറ്റർ ഇടുകയും റോഡിന്റെ മധ്യഭാഗത്തേക്ക് മാറുകയും ചെയ്താൽ

2. ഇടതുവശത്ത് ആവശ്യത്തിന് സ്ഥലമുണ്ടെങ്കിൽ

3. ആ വാഹനം പതുക്കെയാണ് പോകുന്നതെങ്കിൽ

Ans: 1

Q76 "ടെയിൽ-ഗേറ്റിംഗ്" (Tail-gating) എന്നാൽ എന്ത്?

1. അപകടകരമായ വിധത്തിൽ മുന്നിലുള്ള വാഹനത്തിന് തൊട്ടുപിന്നിലായി വാഹനമോടിക്കുന്നത്

2. മുന്നിലുള്ള വാഹനത്തിൽ നിന്ന് സുരക്ഷിതമായ അകലം പാലിച്ച് വേഗത നിയന്ത്രിക്കുന്നത്

3. മുന്നിലുള്ള വാഹനത്തിൽ നിന്ന് കുറഞ്ഞത് 7 മീറ്റർ അകലം പാലിക്കുന്നത്

Ans: 1

Q77 അംഗീകൃത ഉദ്യോഗസ്ഥർക്ക് ഒരു വാഹനം പിടിച്ചെടുക്കാൻ കഴിയും, അത്...

1. വാഹനത്തിന് സാധുവായ രജിസ്ട്രേഷനോ പെർമിറ്റോ ഇല്ലെങ്കിൽ

2. വാഹനത്തിന് സാധുവായ ഇൻഷുറൻസ് ഇല്ലെങ്കിൽ

3. വാഹനം വേഗത പരിധി ലംഘിച്ചാൽ

Ans: 1

Q78 അനുവദനീയമായ ഹോൺ ഏത് തരത്തിലുള്ളതാണ്...

1. എയർ ഹോൺ

2. മൾട്ടി-ടോൺ ഹോൺ

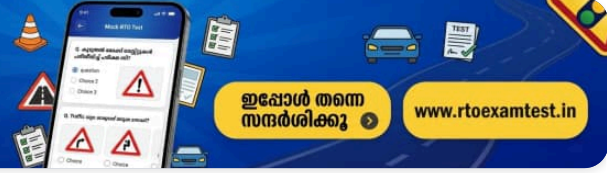
3. ഇലക്ട്രിക് ഹോൺ

Ans: 3



കൂടുതൽ മോക്ക് ടെസ്റ്റുകൾ പരിശീലിച്ച് പരീക്ഷ വിജയിക്കൂ

ഡ്രൈവിംഗ് ലൈസൻസ് പരീക്ഷയ്ക്ക് ആവശ്യമായ കൂടുതൽ ചോദ്യങ്ങളും പരിശീലനവും ഞങ്ങളുടെ വെബ്സൈറ്റിൽ ലഭ്യമാണ്



ഇപ്പോൾ തന്നെ സന്ദർശിക്കൂ

www.rtoexamtest.in

Q79 റിവേഴ്സ് ഗിയറിൽ വാഹനമോടിക്കുന്നത് നിരോധിച്ചിരിക്കുന്ന റോഡ്...

1. വൺവേ റോഡ്

2. കുത്തനെയുള്ള ഇറക്കമുള്ള റോഡ്

3. കുത്തനെയുള്ള കയറ്റമുള്ള റോഡ്

Ans: 1

Q80 നിങ്ങൾക്ക് ഒരു മോട്ടോർ സൈക്കിളിന്റെ ലേണേഴ്സ് ലൈസൻസ് ഉണ്ട്...

1. തിരക്ക് കുറവുള്ളപ്പോൾ മാത്രമേ നിങ്ങൾ വാഹനമോടിക്കൂ

2. സാധുവായ ലൈസൻസുള്ള ഒരു പരിശീലകൻ കൂടെയുണ്ടെങ്കിൽ മാത്രമേ നിങ്ങൾ വാഹനമോടിക്കൂ

3. മോട്ടോർ സൈക്കിൾ ഓടിക്കാൻ സാധുവായ ലൈസൻസുള്ള ഒരു ഇൻസ്ട്രക്ടറെ അല്ലാതെ മറ്റാരെയും നിങ്ങൾ പിന്നിൽ കയറ്റരുത്

Ans: 3

Q81 ഒരു കവലയിലെ ട്രാഫിക് സിഗ്നലിൽ മഞ്ഞ ലൈറ്റ് തെളിയുമ്പോൾ, വാഹനമോടിക്കുന്ന ആൾ...

1. സുരക്ഷ ഉറപ്പാക്കി വേഗത്തിൽ കടന്നുപോകണം

2. വാഹനം നിർത്താൻ വേണ്ടി വേഗത കുറയ്ക്കണം

3. ഹോൺ മുഴക്കി മുന്നോട്ട് പോകണം

Ans: 2

Q82 എല്ലാ മോട്ടോർ വാഹനങ്ങൾക്കും നിർബന്ധമായും വേണ്ടത്...

1. ലൈഫ് ഇൻഷുറൻസ്

2. തേർഡ് പാർട്ടി ഇൻഷുറൻസ്

3. സമഗ്ര ഇൻഷുറൻസ്

Ans: 2

Q83 മൂന്നിൽ പോകുന്ന വാഹനത്തിൽ നിന്ന് പാലിക്കേണ്ട കുറഞ്ഞ അകലം...

1. 10 മീറ്റർ

2. 5 മീറ്റർ

3. വേഗതയ്ക്കനുസരിച്ച് സുരക്ഷിതമായ അകലം

Ans: 3

Q84 ഒരു സ്വകാര്യ വാഹനത്തിൽ കയറ്റാൻ അനുവദിച്ചിട്ടുള്ള യാത്രക്കാരുടെ എണ്ണം രേഖപ്പെടുത്തിയിരിക്കുന്നത്...

1. രജിസ്ട്രേഷൻ സർട്ടിഫിക്കറ്റിൽ (RC)

2. ടാക്സ് ടോക്കണിൽ

3. പെർമിറ്റിൽ

Ans: 1

Q85 ഏത് സാഹചര്യത്തിലാണ് ഓവർടേക്ക് ചെയ്യുന്നത് നിരോധിച്ചിരിക്കുന്നത്?

- 1. റോഡിന്റെ മധ്യഭാഗത്ത് വെളുത്ത വരകൾ മുറിഞ്ഞ രീതിയിൽ ഉള്ളപ്പോൾ
 - 2. റോഡിന്റെ മധ്യഭാഗത്ത് തുടർച്ചയായ മഞ്ഞ വര ഉള്ളപ്പോൾ
 - 3. വാഹനം കുത്തനെയുള്ള കയറ്റത്തിൽ ഓടിക്കുമ്പോൾ
- Ans: 3**

Q86 റോഡിൽ വെളുത്ത വരകൾ മുറിഞ്ഞ രീതിയിൽ അടയാളപ്പെടുത്തിയിട്ടുണ്ടെങ്കിൽ...

- 1. ലെയ്ൻ മാറ്റാൻ പാടില്ല
 - 2. ആവശ്യമെങ്കിൽ സുരക്ഷിതമായി ലെയ്ൻ മാറാം
 - 3. വാഹനം നിർത്തണം
- Ans: 2**

Q87 മിന്നിമറയുന്ന ചുവന്ന ട്രാഫിക് ലൈറ്റ് അർത്ഥമാക്കുന്നത്...

- 1. പച്ച ലൈറ്റ് തെളിയുന്നതുവരെ വാഹനം നിർത്തുക
 - 2. വാഹനം നിർത്തി സുരക്ഷിതമാണെങ്കിൽ മാത്രം മുന്നോട്ട് പോകുക
 - 3. വേഗത കുറച്ച് മുന്നോട്ട് പോകുക
- Ans: 2**

Q88 സംസ്ഥാനത്തെ ദേശീയപാതകളിൽ ഒരു മോട്ടോർ കാറിന് അനുവദിച്ചിട്ടുള്ള പരമാവധി വേഗത...

- 1. മണിക്കൂറിൽ 60 കി.മീ.
 - 2. മണിക്കൂറിൽ 70 കി.മീ.
 - 3. മണിക്കൂറിൽ 80 കി.മീ.
- Ans: 2**

Q89 ഡിഫൻസിവ് ഡ്രൈവിംഗ് എന്നാൽ എന്താണ്?

- 1. മറ്റ് ഡ്രൈവർമാരും കാൽനടയാത്രക്കാരും ഗതാഗത നിയമങ്ങൾ ലംഘിച്ചേക്കാം എന്ന് മുൻകൂട്ടി കണ്ടുകൊണ്ട് ജാഗ്രതയോടെ വാഹനമോടിക്കുക
 - 2. ട്രാഫിക് നിയമങ്ങൾ പാലിക്കാതെ വേഗത്തിൽ ലക്ഷ്യസ്ഥാനത്ത് എത്തുക എന്ന ഉദ്ദേശ്യത്തോടെ മാത്രം വാഹനമോടിക്കുക
 - 3. മറ്റ് റോഡ് ഉപയോക്താക്കൾ എപ്പോഴും ശ്രദ്ധാലുക്കളായിരിക്കും എന്ന് കരുതി വാഹനമോടിക്കുക
- Ans: 1**

Q90 സ്റ്റോപ്പ് ലൈൻ എന്ന് പറഞ്ഞാൽ എന്താണ്?

1. റോഡ് ജംഗ്ഷനോ സീബ്രാ ക്രോസിംഗിനോ തൊട്ടുമുമ്പ് റോഡിന് കുറുകെ വരച്ചിട്ടുള്ള 5 സെന്റിമീറ്റർ വീതിയുള്ള വെള്ളയോ മഞ്ഞയോ നിറമുള്ള വര

2. റോഡിന്റെ മധ്യഭാഗത്തായി വരച്ചിരിക്കുന്ന മഞ്ഞ നിറത്തിലുള്ള വര

3. റോഡിന്റെ മധ്യഭാഗത്തായി കാണുന്ന മുറിഞ്ഞ വെളുത്ത വരകൾ

Ans: 1

Q91 ഒരു വാഹനത്തിന്റെ എഞ്ചിൻ സ്റ്റാർട്ട് ചെയ്യുന്നതിന് മുമ്പ്...

1. റേഡിയേറ്ററിലെ വെള്ളവും എഞ്ചിൻ ഓയിലും പരിശോധിക്കണം

2. ഹെഡ്‌ലൈറ്റുകൾ പരിശോധിക്കണം

3. ബ്രേക്കുകൾ പരിശോധിക്കണം

Ans: 1

Q92 ഒരു മോട്ടോർ സൈക്കിളിന് അനുവദിച്ചിട്ടുള്ള പരമാവധി വേഗത...

1. പരിധിയില്ല

2. മണിക്കൂറിൽ 50 കി.മീ.

3. മണിക്കൂറിൽ 60 കി.മീ.

Ans: 2

Q93 മണിക്കൂറിൽ 60 കിലോമീറ്ററിലധികം വേഗതയിൽ ഓടിക്കാൻ അനുവദിച്ചിട്ടുള്ള ഏക വാഹനം...

1. മോട്ടോർ സൈക്കിൾ

2. മോട്ടോർ കാർ

3. സ്റ്റേജ് കാരിയേജ് (പാസഞ്ചർ ബസ്)

Ans: 2

Q94 വിദ്യാഭ്യാസ സ്ഥാപനങ്ങൾക്ക് സമീപം ഒരു മോട്ടോർ കാറിന് അനുവദിച്ചിട്ടുള്ള പരമാവധി വേഗത...

1. മണിക്കൂറിൽ 40 കി.മീ.

2. മണിക്കൂറിൽ 25 കി.മീ.

3. മണിക്കൂറിൽ 30 കി.മീ.

Ans: 2

Q95 സംസ്ഥാനത്തെ ദേശീയപാതകളിൽ ട്രക്കുകൾക്ക് അനുവദിച്ചിട്ടുള്ള പരമാവധി വേഗത...

1. മണിക്കൂറിൽ 50 കി.മീ.

2. മണിക്കൂറിൽ 60 കി.മീ.

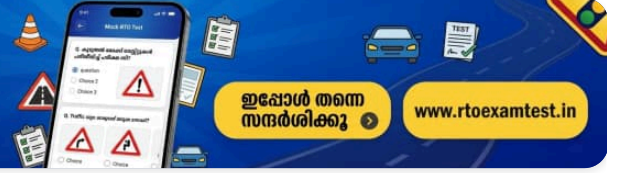
3. മണിക്കൂറിൽ 70 കി.മീ.

Ans: 2



കൂടുതൽ മോക്ക് ടെസ്റ്റുകൾ പരിശീലിച്ച് പരീക്ഷ വിജയിക്കൂ

ഡ്രൈവിംഗ് ലൈസൻസ് പരീക്ഷയ്ക്ക് ആവശ്യമായ കൂടുതൽ ചോദ്യങ്ങളും പരിശീലനവും ഞങ്ങളുടെ വെബ്സൈറ്റിൽ ലഭ്യമാണ്



ഇപ്പോൾ തന്നെ സന്ദർശിക്കൂ

www.rtoexamtest.in

Q96 വിദ്യാഭ്യാസ സ്ഥാപനങ്ങൾക്ക് സമീപം ഒരു ഇരുചക്ര വാഹനത്തിന് അനുവദിച്ചിട്ടുള്ള പരമാവധി വേഗത...

1. മണിക്കൂറിൽ 25 കി.മീ.

2. മണിക്കൂറിൽ 30 കി.മീ.

3. മണിക്കൂറിൽ 40 കി.മീ.

Ans: 1

Q97 വാഹനത്തിന് പുറകിലേക്ക് ഒരു മീറ്റർ (100 സെന്റിമീറ്റർ) വരെ ഭാരം തള്ളിനിൽക്കാൻ അനുവദിക്കുന്നത്...

1. ട്രാക്റ്ററിൽ

2. സ്റ്റേഷൻ വാഗണിൽ

3. ചരക്ക് വാഹനത്തിൽ (Goods carriage)

Ans: 3

Q98 ഒരു ചരക്ക് വാഹനത്തിൽ ഭാരം കയറ്റുമ്പോൾ...

1. ഭാരം ഇരുവശത്തേക്കും 30 സെന്റിമീറ്റർ വരെ തള്ളിനിൽക്കാം

2. ഭാരം വാഹനത്തിന്റെ ഇരുവശത്തേക്കും തള്ളിനിൽക്കാൻ പാടില്ല

3. ഭാരം ഇരുവശത്തേക്കും 50 സെന്റിമീറ്റർ വരെ തള്ളിനിൽക്കാം

Ans: 2

Q99 ഒരു ചരക്ക് വാഹനത്തിന്റെ പിൻഭാഗത്തുനിന്ന് പുറത്തേക്ക് തള്ളിനിൽക്കാൻ അനുവദിച്ചിട്ടുള്ള ഭാരത്തിന്റെ പരമാവധി നീളം...

1. 150 സെ.മീ.

2. 100 സെ.മീ.

3. 120 സെ.മീ.

Ans: 2

Q100 നഗരപരിധിയിൽ ഹെവി മോട്ടോർ വാഹനങ്ങൾക്ക് അനുവദിച്ചിട്ടുള്ള പരമാവധി വേഗത...

1. മണിക്കൂറിൽ 35 കി.മീ.

2. മണിക്കൂറിൽ 45 കി.മീ.

3. മണിക്കൂറിൽ 60 കി.മീ.

Ans: 2

Q101 ടോവിംഗ് വാഹനവും ടോ ചെയ്യപ്പെടുന്ന വാഹനവും തമ്മിൽ അനുവദിച്ചിട്ടുള്ള പരമാവധി ദൂരം...

1. 15 മീറ്റർ

2. 5 മീറ്റർ

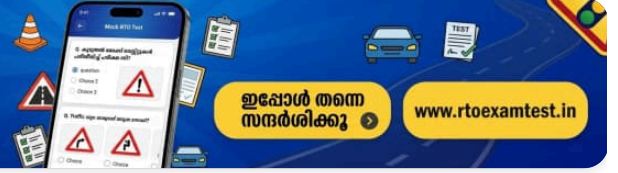
3. 10 മീറ്റർ

Ans: 2



കൂടുതൽ മോക്ക് ടെസ്റ്റുകൾ പരിശീലിച്ച് പരീക്ഷ വിജയിക്കൂ

ഡ്രൈവിംഗ് ലൈസൻസ് പരീക്ഷയ്ക്ക് ആവശ്യമായ കൂടുതൽ ചോദ്യങ്ങളും പരിശീലനവും ഞങ്ങളുടെ വെബ്സൈറ്റിൽ ലഭ്യമാണ്



ഇപ്പോൾ തന്നെ സന്ദർശിക്കൂ

www.rtoexamtest.in

Q102 നഗരപരിധിയിൽ ഒരു മോട്ടോർ സൈക്കിളിന് അനുവദിച്ചിട്ടുള്ള പരമാവധി വേഗത...

- 1. മണിക്കൂറിൽ 40 കി.മീ.
- 2. മണിക്കൂറിൽ 30 കി.മീ.
- 3. മണിക്കൂറിൽ 50 കി.മീ.

Ans: 1

Q103 നിങ്ങൾ ഇരുചക്ര പാതയിൽ വാഹനമോടിക്കുകയാണ്, നിങ്ങളുടെ മുന്നിലുള്ള വാഹനം വളരെ സാവധാനത്തിലാണ് സഞ്ചരിക്കുന്നത്, മുന്നിലുള്ള റോഡ് ഓവർടേക്ക് ചെയ്യാൻ വ്യക്തവുമാണ്, നിങ്ങൾ എന്താണ് ചെയ്യേണ്ടത്?

- 1. വാഹനത്തെ ഇടതുവശത്തുകൂടി മറികടക്കുക
- 2. വാഹനത്തെ വലതുവശത്തുകൂടി മറികടക്കുക
- 3. സൗകര്യപ്രദമായ ഏത് വശത്തുകൂടിയും മറികടക്കുക

Ans: 2

Q104 മറ്റൊരു വാഹനം കെട്ടിവലിച്ചു (Towing) കൊണ്ടുപോകുന്ന വാഹനങ്ങൾക്ക് അനുവദനീയമായ പരമാവധി വേഗത...

- 1. മണിക്കൂറിൽ 20 കി.മീ.
- 2. മണിക്കൂറിൽ 24 കി.മീ.
- 3. മണിക്കൂറിൽ 32 കി.മീ.

Ans: 2

Q105 ചുരങ്ങളിൽ മണിക്കൂറിൽ 30 കിലോമീറ്ററിലധികം വേഗതയിൽ ഓടിക്കാൻ അനുവാദമില്ലാത്ത വാഹനം...

- 1. ഹെവി പാസഞ്ചർ വാഹനം
- 2. മോട്ടോർ കാർ
- 3. ഓട്ടോറിക്ഷ

Ans: 2

Q106 ഒരു മോട്ടോർ സൈക്കിൾ മണിക്കൂറിൽ 60 കിലോമീറ്റർ വേഗതയിൽ ഓടിക്കാൻ കഴിയുന്ന സാഹചര്യങ്ങൾ...

- 1. രാത്രി സമയത്ത്
- 2. പകൽ സമയത്ത്
- 3. ഒരു സാഹചര്യത്തിലും പാടില്ല

Ans: 3

Q107 രാത്രി സമയത്ത് നഗരപരിധിയിൽ മോട്ടോർ സൈക്കിളുകൾക്ക് അനുവദിച്ചിട്ടുള്ള പരമാവധി വേഗത...

- 1. മണിക്കൂറിൽ 25 കി.മീ.
- 2. മണിക്കൂറിൽ 30 കി.മീ.
- 3. മണിക്കൂറിൽ 40 കി.മീ.

Ans: 2

Q108 ഒരു ചരക്ക് വാഹനത്തിൽ കൊണ്ടുപോകാൻ അനുവദിച്ചിട്ടുള്ള പരമാവധി ഭാരം...

1. പരിധിയില്ല

2. പെർമിറ്റ് പ്രകാരം
അനുവദനീയമായത്

3. 10 ടൺ

Ans: 2

Q109 വിദ്യാഭ്യാസ സ്ഥാപനങ്ങൾക്ക് സമീപം ഓട്ടോറിക്ഷയ്ക്ക് അനുവദിച്ചിട്ടുള്ള പരമാവധി
വേഗത...

1. മണിക്കൂറിൽ 35 കി.മീ.

2. മണിക്കൂറിൽ 25 കി.മീ.

3. മണിക്കൂറിൽ 20 കി.മീ.

Ans: 2

Q110 വിദ്യാഭ്യാസ സ്ഥാപനങ്ങൾക്ക് സമീപം ഒരു ലൈറ്റ് മോട്ടോർ വാഹനത്തിന് (LMV)
അനുവദിച്ചിട്ടുള്ള പരമാവധി വേഗത...

1. മണിക്കൂറിൽ 45 കി.മീ.

2. മണിക്കൂറിൽ 35 കി.മീ.

3. മണിക്കൂറിൽ 25 കി.മീ.

Ans: 3

Q111 ചുരങ്ങളിലെ റോഡുകളിൽ ഒരു മോട്ടോർ കാറിന് അനുവദിച്ചിട്ടുള്ള പരമാവധി
വേഗത...

1. മണിക്കൂറിൽ 40 കി.മീ.

2. മണിക്കൂറിൽ 30 കി.മീ.

3. മണിക്കൂറിൽ 20 കി.മീ.

Ans: 1

Q112 ചുരങ്ങളിലെ റോഡുകളിൽ ഒരു മോട്ടോർ സൈക്കിളിന് അനുവദിച്ചിട്ടുള്ള പരമാവധി
വേഗത...

1. മണിക്കൂറിൽ 30 കി.മീ.

2. മണിക്കൂറിൽ 35 കി.മീ.

3. മണിക്കൂറിൽ 40 കി.മീ.

Ans: 3

Q113 ഒരു ഓട്ടോറിക്ഷയുടെ പരമാവധി അനുവദനീയമായ വേഗത...

1. മണിക്കൂറിൽ 50 കി.മീ.

2. മണിക്കൂറിൽ 30 കി.മീ.

3. മണിക്കൂറിൽ 40 കി.മീ.

Ans: 3

Q114 ഒരു ലൈറ്റ് മോട്ടോർ വാഹനത്തിന് (LMV) അനുവദനീയമായ പരമാവധി വേഗത...

1. മണിക്കൂറിൽ 60 കി.മീ.

2. മണിക്കൂറിൽ 70 കി.മീ.

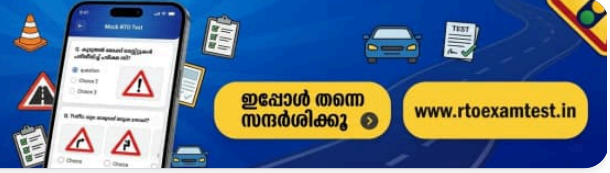
3. പരിധിയില്ല

Ans: 1



കൂടുതൽ മോക്ക് ടെസ്റ്റുകൾ പരിശീലിച്ച് പരീക്ഷ വിജയിക്കൂ

ഡ്രൈവിംഗ് ലൈസൻസ് പരീക്ഷയ്ക്ക് ആവശ്യമായ കൂടുതൽ ചോദ്യങ്ങളും പരിശീലനവും ഞങ്ങളുടെ വെബ്സൈറ്റിൽ ലഭ്യമാണ്



ഇപ്പോൾ തന്നെ സന്ദർശിക്കൂ

www.rtoexamtest.in

Q115 ഒരു ഇടത്തരം മോട്ടോർ വാഹനത്തിന് അനുവദനീയമായ പരമാവധി വേഗത...

- 1. മണിക്കൂറിൽ 80 കി.മീ.
- 2. മണിക്കൂറിൽ 65 കി.മീ.
- 3. മണിക്കൂറിൽ 70 കി.മീ.

Ans: 2

Q116 1988-ലെ മോട്ടോർ വാഹന നിയമത്തിലെ സെക്ഷൻ 112 പ്രകാരം...

- 1. നിശ്ചിത വേഗത പരിധി മറികടക്കാൻ പാടില്ല
- 2. മദ്യപിച്ച ശേഷം വാഹനം ഓടിക്കാൻ പാടില്ല
- 3. നികുതി അടയ്ക്കാതെ വാഹനം നിരത്തിലിറക്കാൻ പാടില്ല

Ans: 1

Q117 1988-ലെ മോട്ടോർ വാഹന നിയമത്തിലെ സെക്ഷൻ 113 പ്രകാരം ഒരു ഡ്രൈവർ വാഹനം ഓടിക്കാൻ പാടില്ലാത്തത് എപ്പോൾ?

- 1. മദ്യപിച്ച ശേഷം
- 2. വേഗത പരിധി ലംഘിച്ചുകൊണ്ട്
- 3. അനുവദനീയമായതിലും കൂടുതൽ ഭാരം കയറ്റിക്കൊണ്ട് (ഓവർലോഡിംഗ്)

Ans: 3

Q118 ഒരു പൊതു ഘോഷയാത്രയുടെ അരികിലൂടെ കടന്നുപോകുന്ന വാഹനങ്ങൾക്ക് അനുവദനീയമായ പരമാവധി വേഗത...

- 1. മണിക്കൂറിൽ 15 കി.മീ.
- 2. മണിക്കൂറിൽ 25 കി.മീ.
- 3. മണിക്കൂറിൽ 35 കി.മീ.

Ans: 1

Q119 ഒരു ചരക്ക് വാഹനത്തിൽ തറനിരപ്പിൽ നിന്ന് കയറ്റാവുന്ന ഭാരത്തിന്റെ പരമാവധി ഉയര പരിധി...

- 1. 3.8 മീറ്റർ
- 2. 3 മീറ്റർ
- 3. പരിധിയില്ല

Ans: 1

Q120 വിദ്യാഭ്യാസ സ്ഥാപനങ്ങൾക്ക് സമീപം ഒരു ഹെവി മോട്ടോർ വാഹനത്തിന് അനുവദിച്ചിട്ടുള്ള പരമാവധി വേഗത...

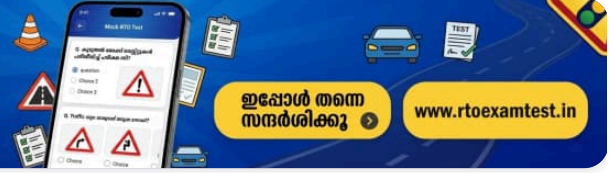
- 1. മണിക്കൂറിൽ 35 കി.മീ.
- 2. മണിക്കൂറിൽ 25 കി.മീ.
- 3. മണിക്കൂറിൽ 15 കി.മീ.

Ans: 3



കൂടുതൽ മോക്ക് ടെസ്റ്റുകൾ പരിശീലിച്ച് പരീക്ഷ വിജയിക്കൂ

ഡ്രൈവിംഗ് ലൈസൻസ് പരീക്ഷയ്ക്ക് ആവശ്യമായ കൂടുതൽ ചോദ്യങ്ങളും പരിശീലനവും ഞങ്ങളുടെ വെബ്സൈറ്റിൽ ലഭ്യമാണ്



ഇപ്പോൾ തന്നെ സന്ദർശിക്കൂ

www.rtoexamtest.in

Q121 വിദ്യാഭ്യാസ സ്ഥാപനങ്ങൾക്ക് സമീപം ഒരു ഹെവി പാസഞ്ചർ വാഹനത്തിന് അനുവദിച്ചിട്ടുള്ള പരമാവധി വേഗത...

- 1. മണിക്കൂറിൽ 35 കി.മീ.
- 2. മണിക്കൂറിൽ 25 കി.മീ.
- 3. മണിക്കൂറിൽ 15 കി.മീ.

Ans: 3

Q122 1988-ലെ മോട്ടോർ വാഹന നിയമത്തിലെ സെക്ഷൻ 129 പ്രകാരം, ഒരു മോട്ടോർ സൈക്കിൾ ഓടിക്കുന്ന വ്യക്തി നിർബന്ധമായും...

- 1. ജാക്കറ്റ് ധരിക്കണം
- 2. ഹെൽമെറ്റ് ധരിക്കണം
- 3. ഷൂസ് ധരിക്കണം

Ans: 2

Q123 വിദ്യാഭ്യാസ സ്ഥാപനങ്ങൾക്ക് സമീപം ഒരു മീഡിയം മോട്ടോർ വാഹനത്തിന് അനുവദിച്ചിട്ടുള്ള പരമാവധി വേഗത...

- 1. മണിക്കൂറിൽ 15 കി.മീ.
- 2. മണിക്കൂറിൽ 25 കി.മീ.
- 3. മണിക്കൂറിൽ 35 കി.മീ.

Ans: 1

Q124 ചുരങ്ങളിലെ റോഡുകളിൽ ഒരു ഓട്ടോറിക്ഷയ്ക്ക് അനുവദിച്ചിട്ടുള്ള പരമാവധി വേഗത...

- 1. മണിക്കൂറിൽ 30 കി.മീ.
- 2. മണിക്കൂറിൽ 40 കി.മീ.
- 3. മണിക്കൂറിൽ 20 കി.മീ.

Ans: 1

Q125 ചുരങ്ങളിലെ റോഡുകളിൽ ഹെവി മോട്ടോർ വാഹനങ്ങൾക്ക് അനുവദിച്ചിട്ടുള്ള പരമാവധി വേഗത...

- 1. മണിക്കൂറിൽ 35 കി.മീ.
- 2. മണിക്കൂറിൽ 25 കി.മീ.
- 3. മണിക്കൂറിൽ 15 കി.മീ.

Ans: 1

Q126 നഗരങ്ങളിലും മുനിസിപ്പൽ പരിധിയിലും ഒരു ഓട്ടോറിക്ഷയ്ക്ക് അനുവദിച്ചിട്ടുള്ള പരമാവധി വേഗത...

- 1. മണിക്കൂറിൽ 40 കി.മീ.
- 2. മണിക്കൂറിൽ 30 കി.മീ.
- 3. മണിക്കൂറിൽ 20 കി.മീ.

Ans: 2

Q127 ഹെവി മോട്ടോർ വാഹനങ്ങൾക്ക് അനുവദിച്ചിട്ടുള്ള പരമാവധി വേഗത...

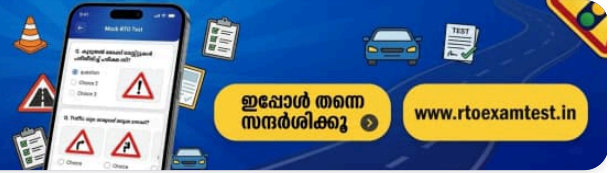
- 1. മണിക്കൂറിൽ 70 കി.മീ.
- 2. മണിക്കൂറിൽ 65 കി.മീ.
- 3. മണിക്കൂറിൽ 50 കി.മീ.

Ans: 2



കൂടുതൽ മോക്ക് ടെസ്റ്റുകൾ പരിശീലിച്ച് പരീക്ഷ വിജയിക്കൂ

ഡ്രൈവിംഗ് ലൈസൻസ് പരീക്ഷയ്ക്ക് ആവശ്യമായ കൂടുതൽ ചോദ്യങ്ങളും പരിശീലനവും ഞങ്ങളുടെ വെബ്സൈറ്റിൽ ലഭ്യമാണ്



ഇപ്പോൾ തന്നെ സന്ദർശിക്കൂ

www.rtoexamtest.in

Q128 ചുരങ്ങളിലെ റോഡുകളിൽ ഒരു മീഡിയം മോട്ടോർ വാഹനത്തിന് അനുവദിച്ചിട്ടുള്ള പരമാവധി വേഗത...

1. മണിക്കൂറിൽ 45 കി.മീ.

2. മണിക്കൂറിൽ 35 കി.മീ.

3. മണിക്കൂറിൽ 25 കി.മീ.

Ans: 2

Q129 ട്രാഫിക് ലൈറ്റ് നിയന്ത്രിക്കുന്ന ഒരു കവലയിൽ നിങ്ങൾക്കൊരു 'യു' (U) ടേബിൾ എടുക്കണമെങ്കിൽ നിങ്ങൾ ചെയ്യേണ്ടത്...

1. ട്രാഫിക് ലൈറ്റ് ഇല്ലാത്ത മറ്റൊരു കവലയിലേക്ക് പോകുക

2. 'യു' ടേബിൾ എടുക്കുന്നതിന് മുമ്പ് പച്ച ലൈറ്റ് തെളിയുന്നത് വരെ കാത്തിരിക്കുക

3. കവലയിൽ ഒരു ട്രാഫിക് പോലീസ് ഉണ്ടെങ്കിൽ 'യു' ടേബിൾ എടുക്കുക

Ans: 3

Q130 സിഗ്-സാഗ് (വളഞ്ഞുപുളഞ്ഞ) ഡ്രൈവിംഗ് എന്നത്...

1. ഇരുചക്ര വാഹനങ്ങൾക്ക് മാത്രം അപകടകരമാണ്

2. എല്ലായ്പ്പോഴും എല്ലാവർക്കും അപകടകരമാണ്

3. നാലുചക്ര വാഹനങ്ങൾക്ക് മാത്രം അപകടകരമാണ്

Ans: 2

Q131 നിങ്ങൾ ഒരു നീണ്ട ഇറക്കത്തിലാണ്. നിങ്ങളുടെ വാഹനത്തിന്റെ വേഗത നിയന്ത്രിക്കാൻ എന്ത് ചെയ്യണം?

1. ലോ ഗിയറിലേക്ക് (താഴ്ന്ന ഗിയറിലേക്ക്) മാറ്റുക

2. എഞ്ചിൻ നിർത്തുക

3. ന്യൂട്രൽ ഗിയറിലാക്കുക

Ans: 1

Q132 ഒരു ലേണേഴ്സ് ലൈസൻസുള്ള ഡ്രൈവറുടെ മേൽനോട്ടം വഹിക്കാൻ നിങ്ങൾക്ക് നിർബന്ധമായും വേണ്ടത്...

1. ഒരു അംഗീകൃത ഡ്രൈവിംഗ് ഇൻസ്ട്രക്ടർ ആയിരിക്കണം

2. സാധുവായ ഡ്രൈവിംഗ് ലൈസൻസ് ഉണ്ടായിരിക്കണം

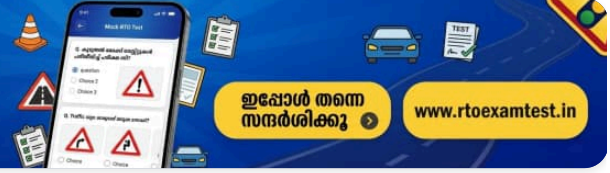
3. ഒരു ലേണേഴ്സ് ലൈസൻസ് ഉണ്ടായിരിക്കണം

Ans: 1



കൂടുതൽ മോക്ക് ടെസ്റ്റുകൾ പരിശീലിച്ച് പരീക്ഷ വിജയിക്കൂ

ഡ്രൈവിംഗ് ലൈസൻസ് പരീക്ഷയ്ക്ക് ആവശ്യമായ കൂടുതൽ ചോദ്യങ്ങളും പരിശീലനവും ഞങ്ങളുടെ വെബ്സൈറ്റിൽ ലഭ്യമാണ്



ഇപ്പോൾ തന്നെ സന്ദർശിക്കൂ

www.rtoexamtest.in

Q133 ഒരു റൗണ്ട് എഞ്ചിനിലൂടെ വാഹനമോടിക്കുമ്പോൾ...

1. പ്രവേശിക്കുന്ന വാഹനങ്ങൾക്കാണ് മുൻഗണന

2. പുറത്തുകടക്കുന്ന വാഹനങ്ങൾക്കാണ് മുൻഗണന

3. റൗണ്ട് എഞ്ചിനിൽ നേരത്തെയുള്ള വാഹനങ്ങൾക്കാണ് മുൻഗണന

Ans: 3

Q134 ഇരുചക്ര വാഹനം ഓടിക്കുമ്പോൾ ഹെൽമെറ്റ് ധരിക്കേണ്ടത് അത്യാവശ്യമാണ്, കാരണം...

1. ഇത് നിങ്ങളുടെ വ്യക്തിപരമായ സുരക്ഷയ്ക്കാണ്

2. ഇല്ലെങ്കിൽ ട്രാഫിക് പോലീസ് നിങ്ങളെ പിടികൂടും

3. റോഡിൽ ഏകദേശം നിലനിർത്താൻ ഇത് ആവശ്യമാണ്

Ans: 1

Q135 നിങ്ങളുടെ വാഹനത്തിന്റെ ഹോൺ എപ്പോഴാണ് ഉപയോഗിക്കേണ്ടത്?

1. വഴി ലഭിക്കാൻ വേണ്ടി

2. നിങ്ങളുടെ സാന്നിധ്യത്തെക്കുറിച്ച് മറ്റ് ഡ്രൈവർമാർക്ക് മുന്നറിയിപ്പ് നൽകാൻ

3. ഒരു സുഹൃത്തിന്റെ ശ്രദ്ധ ആകർഷിക്കാൻ

Ans: 1

Q136 യാത്രക്കാരെ കയറ്റാനോ ഇറക്കാനോ നിർത്തിയിരിക്കുന്ന ഒരു ബസിന് പിന്നിലാണ് നിങ്ങൾ. നിങ്ങൾ ചെയ്യേണ്ടത്...

1. ക്ഷമയോടെ പിന്നിൽ കാത്തിരിക്കുക

2. ഇടതുവശത്തുകൂടി മറികടക്കുക

3. കാൽനടയാത്രക്കാരുടെ വശത്തുകൂടി മറികടക്കുക

Ans: 1

Q137 രാത്രിയിൽ നിങ്ങൾ ഒരു കാറിനെ മറികടക്കുകയാണ്. നിങ്ങൾ ഉറപ്പാക്കേണ്ടത്...

1. മറ്റ് വാഹനങ്ങളിലെ ഡ്രൈവർമാരുടെ കണ്ണെപ്പിക്കുന്നില്ല എന്ന്

2. ഓവർടേക്ക് ചെയ്യുന്നതിന് മുമ്പ് നിങ്ങൾ ഹെഡ്ലൈറ്റ് ഫ്ലാഷ് ചെയ്യുന്നുണ്ടെന്ന്

3. നിങ്ങളുടെ പിൻഭാഗത്തെ ഫോഗ് ലൈറ്റുകൾ ഓണാക്കിയിട്ടുണ്ടെന്ന്

Ans: 2

Q138 മധ്യത്തിലെ ലെയ്ൻ എന്തിനുള്ളതാണ്...

1. ഓവർടേക്ക് ചെയ്യുന്നതിന്

2. ഇരുചക്ര വാഹനങ്ങൾക്ക്

3. മണിക്കൂറിൽ 40 കിലോമീറ്റർ വേഗതയിൽ പോകുന്ന വാഹനങ്ങൾക്ക്

Ans: 3

Q139 മിന്നിമറയുന്ന മഞ്ഞ സിഗ്നൽ ഉപയോഗിക്കുന്നത് എപ്പോഴാണ്...

1. ട്രാഫിക് ലൈറ്റുകൾ പ്രവർത്തിക്കാതിരിക്കുമ്പോൾ

2. നിങ്ങൾ വേഗത കുറച്ച് ജാഗ്രതയോടെ മുന്നോട്ട് പോകണം

3. റോഡിൽ പണി നടക്കുമ്പോൾ

Ans: 2

Q140 സിബ്രാ ക്രോസിംഗിൽ റോഡ് മുറിച്ചുകടക്കാൻ കാത്തുനിൽക്കുന്ന കാൽനടയാത്രക്കാർക്ക് വേണ്ടി നിങ്ങൾ വാഹനം നിർത്തുന്നു. അവർ റോഡ് മുറിച്ചുകടക്കാൻ തുടങ്ങുന്നില്ല. നിങ്ങൾ എന്തുചെയ്യണം?

1. ഹോൺ മുഴക്കുക

2. ക്ഷമയോടെ കാത്തിരിക്കുക

3. മുന്നോട്ട് പോവുക

Ans: 2

Q141 നിങ്ങൾക്ക് വാഹനം പാർക്ക് ചെയ്യാൻ അനുവാദമുള്ളത്...

1. ഫുട്പാത്തിൽ

2. കുന്നിൻ മുകളിൽ

3. ഈ രണ്ടു സ്ഥലങ്ങളിലും പാടില്ല

Ans: 3

Q142 മൂടൽമഞ്ഞുള്ളപ്പോൾ ഹൈ ബീം (High beam) ഹെഡ്ലൈറ്റ് ഉപയോഗിക്കുന്നത്...

1. നല്ലതാണ് കാരണം നിങ്ങൾക്ക് കൂടുതൽ ദൂരം കാണാം

2. പ്രകാശം പ്രതിഫലിക്കുകയും കണ്ണുബിംബിക്കുകയും ചെയ്യുന്നതിനാൽ ഇത് അപകടകരമാണ്

3. മറ്റുള്ളവർക്ക് നിങ്ങളെ കാണാൻ കഴിയുമെന്ന് ഉറപ്പാക്കുന്നു

Ans: 2

Q143 ഹെഡ്ലൈറ്റ് ഡിം (Low beam) ചെയ്യേണ്ടത് അത്യാവശ്യമാണ്...

1. നിങ്ങൾ ഓവർടേക്ക് ചെയ്യാൻ ആഗ്രഹിക്കുമ്പോൾ

2. മൂടൽമഞ്ഞുള്ളപ്പോൾ

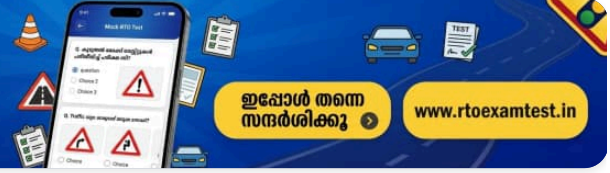
3. മറ്റൊരു വാഹനത്തിന് പിന്നിലായി പോകുമ്പോൾ

Ans: 3



കൂടുതൽ മോക്ക് ടെസ്റ്റുകൾ പരിശീലിച്ച് പരീക്ഷ വിജയിക്കൂ

ഡ്രൈവിംഗ് ലൈസൻസ് പരീക്ഷയ്ക്ക് ആവശ്യമായ കൂടുതൽ ചോദ്യങ്ങളും പരിശീലനവും ഞങ്ങളുടെ വെബ്സൈറ്റിൽ ലഭ്യമാണ്



ഇപ്പോൾ തന്നെ സന്ദർശിക്കൂ

www.rtoexamtest.in

Q144 നേരെ പോകേണ്ട ഒരു ക്രോസിംഗിനെ സമീപിക്കുമ്പോൾ....

1. വലത് ലെയ്നിലേക്ക് മാറുക

2. കുറഞ്ഞത് 50 മീറ്റർ മുൻപെങ്കിലും ലെയ്ൻ മാറി മധ്യഭാഗത്തെ ലെയ്നിലേക്ക് വരിക

3. ക്രോസിംഗിൽ എത്തുമ്പോൾ മാത്രം മധ്യഭാഗത്തെ ലെയ്നിലേക്ക് മാറുക

Ans: 2

Q145 പകൽ സമയത്ത് ഡിപ്പ് ചെയ്ത (ലോ-ബീം) ഹെഡ്ലൈറ്റ് എപ്പോഴാണ് ഉപയോഗിക്കേണ്ടത്?

1. കാഴ്ച വ്യക്തമല്ലാത്ത സമയത്തും (മഞ്ഞ/മഴ) ഹൈവേകളിലും

2. ഗ്രാമീണ റോഡുകളിൽ

3. ഇടുങ്ങിയ തെരുവുകളിൽ

Ans: 1

Q146 നിങ്ങൾ മഴയത്ത് വാഹനമോടിക്കുകയാണ്. മുന്നിലുള്ള വാഹനത്തിൽ നിന്ന് എന്തിനാണ് നിങ്ങൾ സുരക്ഷിതമായ അകലം പാലിക്കേണ്ടത്?

1. അത് പെട്ടെന്ന് ദിശ മാറിയാൽ

2. അതിന്റെ ഫോസ് ലൈറ്റുകൾ നിങ്ങളുടെ കണ്ണെമ്പിപ്പിച്ചാൽ

3. അത് പെട്ടെന്ന് നിർത്തിയാൽ

Ans: 3

Q147 ഹാർഡ് സ്റ്റിയറിംഗിന് (സ്റ്റിയറിംഗ് തിരിക്കാൻ ബുദ്ധിമുട്ട്) കാരണമാകുന്നത് എന്താണ്?

1. വളരെ തേഞ്ഞുപോയ ടയർ

2. ടയറിൽ കാറ്റ് കൂടുതലാണെങ്കിൽ

3. ടയറിൽ കാറ്റ് കുറവാണെങ്കിൽ

Ans: 3

Q148 നേരെ പോകേണ്ട ഒരു ക്രോസിംഗിനെ സമീപിക്കുമ്പോൾ....

1. വലത് ലെയ്നിലേക്ക് മാറുക

2. കുറഞ്ഞത് 50 മീറ്റർ മുൻപെങ്കിലും ലെയ്ൻ മാറി മധ്യഭാഗത്തെ ലെയ്നിലേക്ക് വരിക

3. ക്രോസിംഗിൽ എത്തുമ്പോൾ മാത്രം മധ്യഭാഗത്തെ ലെയ്നിലേക്ക് മാറുക

Ans: 2

Q149 നിങ്ങൾ വാഹനമോടിക്കുമ്പോൾ ഒരു വാഹനം പിന്നിൽ നിന്ന് വേഗത്തിൽ വന്ന് ഹെഡ്ലൈറ്റ് ഫ്ലാഷ് ചെയ്യുന്നു. നിങ്ങൾ ചെയ്യേണ്ടത്...

1. പിന്നിലുള്ള അകലം നിലനിർത്താൻ വാഹനത്തിന്റെ വേഗത കുട്ടുക

2. നിങ്ങളുടെ ബ്രേക്ക് ലൈറ്റുകൾ കാണിക്കാൻ ബ്രേക്കിൽ പതുക്കെ ചവിട്ടുക

3. സുരക്ഷിതമാണെങ്കിൽ ആ വാഹനത്തെ ഓവർടേക്ക് ചെയ്യാൻ അനുവദിക്കുക

Ans: 3

Q150 മോട്ടോർ സൈക്കിൾ യാത്രികർ സാധാരണയായി അപകടങ്ങൾ ഉണ്ടാക്കുന്നത്...

1. അനുവദനീയമായതിലും കൂടിയ വേഗതയിൽ പോകുന്നത്

2. സിഗ്-സാഗ് രീതിയിൽ ഓടിച്ച് നിങ്ങളുടെ വളരെ അടുത്തുകൂടി കടന്നുപോകുന്നത്

3. മുകളിൽ പറഞ്ഞവയെല്ലാം

Ans: 3

Q151 നിങ്ങൾ ഒരു ടി-ജംഗ്ഷനിൽ കാത്തുനിൽക്കുകയാണ്. ഇടതുവശത്ത് നിന്ന് ഒരു വാഹനം വലതുവശത്തേക്കുള്ള ഇൻഡിക്കേറ്റർ ഇട്ടുകൊണ്ട് വരുന്നു. നിങ്ങൾ...

1. വേഗത്തിൽ ആക്സിലറേറ്റ് ചെയ്ത് മുന്നോട്ട് നീങ്ങുക

2. പതുക്കെ മുന്നോട്ട് നീങ്ങുക

3. വാഹനം വലതുവശത്തേക്ക് തിരിയുന്നതുവരെ കാത്തിരിക്കുക

Ans: 3

Q152 കാഴ്ച പരിമിതമായ ഒരു ജംഗ്ഷനിൽ എത്തുമ്പോൾ നിങ്ങൾ...

1. ഇരുവശത്തേക്കും നോക്കി ശ്രദ്ധയോടെ മുന്നോട്ട് പോകണം

2. വലത്തേക്ക് മാത്രം നോക്കി പതുക്കെ മുന്നോട്ട് പോകണം

3. പെട്ടെന്ന് കടന്നുപോകണം

Ans: 1

Q153 റോഡിന്റെ മധ്യഭാഗത്തുള്ള തുടർച്ചയായ മഞ്ഞ വരയുടെ അർത്ഥം...

1. പാർക്കിംഗ് നിരോധിച്ചിരിക്കുന്നു

2. ഓവർടേക്ക് ചെയ്യരുത് (വര മുറിച്ചുകടക്കരുത്)

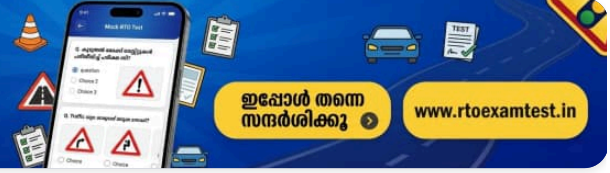
3. നിർത്തുക

Ans: 2



കൂടുതൽ മോക്ക് ടെസ്റ്റുകൾ പരിശീലിച്ച് പരീക്ഷ വിജയിക്കൂ

ഡ്രൈവിംഗ് ലൈസൻസ് പരീക്ഷയ്ക്ക് ആവശ്യമായ കൂടുതൽ ചോദ്യങ്ങളും പരിശീലനവും ഞങ്ങളുടെ വെബ്സൈറ്റിൽ ലഭ്യമാണ്



ഇപ്പോൾ തന്നെ സന്ദർശിക്കൂ

www.rtoexamtest.in

Q154 ഒരു പാലത്തിന് അടുത്തെത്തുമ്പോൾ നിങ്ങൾ...

1. വേഗത കുറയ്ക്കണം, ഓവർടേക്ക് ചെയ്യാൻ പാടില്ല

2. കാൽനടയാത്രക്കാരെ ശ്രദ്ധിക്കണം

3. ഹെഡ്‌ലൈറ്റ് ഓണാക്കണം

Ans: 1

Q155 വലതുവശത്തേക്കുള്ള ഒരു വളവിനെ സമീപിക്കുമ്പോൾ, നിങ്ങൾ ഇടതുവശം ചേർന്ന് പോകണം, കാരണം...

1. മുന്നിലുള്ള റോഡ് കൂടുതൽ വ്യക്തമായി കാണാൻ

2. തെന്നിമാറുന്നത് (Skidding) ഒഴിവാക്കാൻ

3. പിന്നിലുള്ള വാഹനത്തെ കടത്തിവിടാൻ

Ans: 1

Q156 ഒരു ബ്ലൈൻഡ് ജംഗ്ഷനിൽ (കാഴ്ച മറയുന്ന കവല), നിങ്ങൾ നിർത്തേണ്ടത്...

1. പ്രധാന റോഡിൽ ഗതാഗതം ഉണ്ടെങ്കിൽ മാത്രം

2. സ്റ്റോപ്പ് ലൈനിന് പിന്നിൽ നിർത്തുക, കാഴ്ച വ്യക്തമാകുമ്പോൾ സാവധാനം മുന്നോട്ട് നീങ്ങുക

3. നിങ്ങൾ വലത്തേക്ക് തിരിയുകയാണെങ്കിൽ മാത്രം

Ans: 2

Q157 നിങ്ങളുടെ വാഹനത്തിലെ ഹസാർഡ് വാണിംഗ് ലൈറ്റുകൾ ഓൺ ചെയ്യേണ്ടത് എപ്പോഴാണ്...

1. നിങ്ങൾ നേരെ പോകുമ്പോൾ

2. നിങ്ങളുടെ വാഹനം പാർക്ക് ചെയ്തിരിക്കുമ്പോൾ അത് മറ്റ് യാത്രികർക്ക് ബുദ്ധിമുട്ടുണ്ടാക്കുന്നുവെങ്കിൽ

3. നിങ്ങളുടെ വാഹനം 'നോ പാർക്കിംഗ്' ഏരിയയിൽ പാർക്ക് ചെയ്യുമ്പോൾ

Ans: 2

Q158 രാത്രിയിൽ നല്ല വെളിച്ചമുള്ള ഹൈവേയിലൂടെയാണ് നിങ്ങൾ വാഹനമോടിക്കുന്നത്, നിങ്ങൾ...

1. ഹെഡ്‌ലൈറ്റുകൾ ഹൈ ബീമിൽ ഉപയോഗിക്കുക

2. എപ്പോഴും ഹെഡ്‌ലൈറ്റുകൾ ലോ ബീമിൽ ഉപയോഗിക്കുക

3. എപ്പോഴും ഹസാർഡ് ലൈറ്റുകൾ ഉപയോഗിക്കുക

Ans: 2

Q159 ആന്റി-ലോക്ക് ബ്രേക്കിംഗ് സിസ്റ്റം (ABS) ചക്രങ്ങൾ ലോക്ക് ആകുന്നത് തടയുന്നു. ഇത് ടയറുകൾക്ക് എന്ത് സംഭവിക്കുന്നതിൽ നിന്നാണ് സംരക്ഷിക്കുന്നത്?

1. പഞ്ചനാകുന്നതിൽ നിന്ന്

2. തെന്നിമാറുന്നതിൽ (Skidding) നിന്ന്

3. തേയ്മാനത്തിൽ നിന്ന്

Ans: 2

Q160 രാത്രിയിൽ ഹൈവേയിലൂടെ യാത്ര ചെയ്യുമ്പോൾ, തൊട്ടുമുന്നിൽ മറ്റ് വാഹനങ്ങൾ ഉണ്ടെങ്കിൽ, നിങ്ങൾ ഉപയോഗിക്കേണ്ടത്...

1. ഹസാർഡ് വാണിംഗ് ലൈറ്റുകൾ

2. ലോ ബീം (Low beam) ഹെഡ്ലൈറ്റ്

3. ഹൈ ബീം (High beam) ഹെഡ്ലൈറ്റ്

Ans: 2

Q161 ഒരു സൈക്കിൾ യാത്രികൻ വലത്തേക്ക് തിരിയാൻ സിഗ്നൽ നൽകി റോഡിന്റെ മധ്യഭാഗത്തേക്ക് മാറുന്നു. നിങ്ങൾ...

1. ഇടതുവശത്തുകൂടി ഓവർടേക്ക് ചെയ്യുക

2. തുടർച്ചയായി ഹോൺ മുഴക്കുക

3. വലതുവശത്തുകൂടി മാത്രം ഓവർടേക്ക് ചെയ്യുക

Ans: 1

Q162 ഉയർന്ന വേഗതയിൽ വാഹനമോടിക്കുന്നത്...

1. മികച്ച ഇന്ധനക്ഷമത നൽകുന്നു

2. യാത്രയ്ക്ക് കുറഞ്ഞ സമയമെടുക്കുന്നു

3. അപകടമുണ്ടായാൽ പ്രതികരിക്കാനുള്ള സമയം കുറയുന്നു

Ans: 3

Q163 വാഹനമോടിക്കുമ്പോൾ നിങ്ങൾ ഒഴിവാക്കേണ്ടത്...

1. ട്രാഫിക് നിയമങ്ങൾ പാലിക്കുന്നത്

2. മറ്റ് ഡ്രൈവർമാരുടെ തെറ്റായ പെരുമാറ്റത്തോട് പ്രതികരിക്കുന്നത്

3. ഡാഷ്ബോർഡിലെ മീറ്ററുകൾ ശ്രദ്ധിക്കുന്നത്

Ans: 2

Q164 റോഡിന്റെ മധ്യഭാഗത്തുള്ള തുടർച്ചയായ മഞ്ഞ വരയുടെ അർത്ഥം...

1. പാർക്കിംഗ് നിരോധിച്ചിരിക്കുന്നു

2. മറികടക്കാൻ പാടില്ല (ഓവർടേക്ക് ചെയ്യരുത്)

3. നിർത്തുക

Ans: 2

Q165 ഒരു ഇടുങ്ങിയ പാലത്തിന് അടുത്തെത്തുമ്പോൾ നിങ്ങൾ...

1. വേഗത കുറയ്ക്കണം, ഓവർടേക്ക് ചെയ്യാൻ പാടില്ല

2. കാൽനടയാത്രക്കാരെ ശ്രദ്ധിക്കണം

3. ഹെഡ്ലൈറ്റ് ഓണാക്കണം

Ans: 1

Q166 വലതുവശത്തേക്കുള്ള ഒരു വളവിനെ സമീപിക്കുമ്പോൾ, നിങ്ങൾ ഇടതുവശം ചേർന്ന് പോകണം, കാരണം...

1. മുന്നിലുള്ള റോഡ് കൂടുതൽ വ്യക്തമായി കാണാൻ

2. തെന്നിമാറുന്നത് (Skidding) ഒഴിവാക്കാൻ

3. പിന്നിലുള്ള വാഹനത്തെ കടത്തിവിടാൻ

Ans: 1

Q167 ഒരു ബ്ലൈൻഡ് ജംഗ്ഷനിൽ (കാഴ്ച മറയുന്ന കവല), നിങ്ങൾ നിർത്തേണ്ടത്...

1. പ്രധാന റോഡിൽ ഗതാഗതം ഉണ്ടെങ്കിൽ മാത്രം

2. സ്റ്റോപ്പ് ലൈനിന് പിന്നിൽ നിർത്തുക, കാഴ്ച വ്യക്തമാകുമ്പോൾ സാവധാനം മുന്നോട്ട് നീങ്ങുക

3. നിങ്ങൾ വലത്തേക്ക് തിരിയുകയാണെങ്കിൽ മാത്രം

Ans: 2

Q168 അറിയാതെ നിങ്ങൾ എതിരെ നിന്നുള്ള വൺവേ റോഡിൽ പ്രവേശിച്ചു, നിങ്ങൾ...

1. റോഡിൽ നിന്ന് പുറത്തുകടക്കാൻ വാഹനം റിവേഴ്സ് എടുക്കുക

2. ശ്രദ്ധയോടെ വാഹനം തിരിച്ച് പുറത്തേക്ക് ഓടിക്കുക

3. റോഡിന്റെ അവസാനം വരെ ഡ്രൈവ് ചെയ്യുന്നത് തുടരുക

Ans: 2

Q169 പ്രധാന റോഡിലൂടെ വാഹനമോടിക്കുമ്പോൾ മറ്റൊരു വാഹനം സൈഡ് റോഡിൽ നിന്ന് റിവേഴ്സ് എടുത്ത് വരുന്നുണ്ടെങ്കിൽ, നിങ്ങൾ...

1. റോഡിന്റെ എതിർവശത്തേക്ക് മാറണം

2. വേഗത കുട്ടി വേഗത്തിൽ കടന്നുപോകണം

3. ഹോൺ മുഴക്കുകയും വാഹനം നിർത്താൻ തയ്യാറാവുകയും വേണം

Ans: 3

Q170 കവലയോട് അടുക്കുമ്പോൾ, നിങ്ങളുടെ മുന്നിലുള്ള വലിയ വാഹനത്തിന്റെ ഡ്രൈവർ വലത്തേക്ക് സിഗ്നൽ നൽകുകയും ഇടതുവശത്തേക്ക് നീങ്ങുകയും ചെയ്യുന്നു. നിങ്ങൾ ചെയ്യേണ്ടത്...

1. ഹോൺ മുഴക്കി ഡ്രൈവർക്ക് മുന്നറിയിപ്പ് നൽകണം

2. വാഹനത്തിന് പിന്നിൽ കാത്തിരിക്കണം

3. വലതുവശത്തുകൂടി ഓവർടേക്ക് ചെയ്യണം

Ans: 2

Q171 രണ്ട് വരി ഹൈവേയിലെ അടിസ്ഥാന നിയമം...

1. ഓവർടേക്ക് ചെയ്യുന്നില്ലെങ്കിൽ എപ്പോഴും ഇടതുവശത്തെ ലെയ്നിൽ തുടരുക

2. ഏറ്റവും കുറഞ്ഞ ട്രാഫിക് ഉള്ള ലെയ്നിൽ തുടരുക

3. ഉയർന്ന വേഗതയിൽ എപ്പോഴും വലതുവശത്തെ ലെയ്നിൽ പോവുക

Ans: 1

Q172 നിങ്ങൾ പോകുന്ന വശത്ത് റോഡിൽ എന്തെങ്കിലും തടസ്സം നേരിട്ടാൽ, നിങ്ങൾ...

1. നിങ്ങൾക്കാണ് മുൻഗണന എന്നതിനാൽ മുന്നോട്ട് പോവുക

2. വേഗത്തിൽ കടന്നുപോകാൻ വാഹനത്തിന്റെ വേഗത കുട്ടുക

3. എതിർദിശയിൽ നിന്ന് വരുന്ന വാഹനങ്ങൾക്ക് വഴി നൽകുക

Ans: 3

Q173 റോഡിന്റെ വശത്തുള്ള തുടർച്ചയായ വെളുത്ത വരയുടെ അർത്ഥം...

1. പാർക്കിംഗ് നിരോധിച്ചിരിക്കുന്നു

2. ഓവർടേക്ക് ചെയ്യരുത്

3. കാരിയേജ് വേയുടെ (വാഹനങ്ങൾ പോകുന്ന വഴി) അരിക്ക്

Ans: 3

Q174 നിർബന്ധിത റോഡ് അടയാളങ്ങൾ (ഉത്തരവുകൾ നൽകുന്നവ) സാധാരണയായി ഏത് ആകൃതിയിലാണ് നൽകുന്നത്?

1. ചുവപ്പ്/നീല വൃത്തങ്ങൾ

2. ചുവന്ന ത്രികോണങ്ങൾ

3. അടിസ്ഥാന ത്രികോണങ്ങൾ (Base triangles)

Ans: 1

Q175 ഒരു 'യു' ടേബിൾ എടുക്കുന്നതിന് മുമ്പ് നിങ്ങൾ ചെയ്യേണ്ടത്...

1. ന്യൂട്രൽ ഗിയറിലാക്കി ഇൻഡിക്കേറ്റർ ഇടുക

2. വലത്തേക്ക് തിരിയാനുള്ള ഇൻഡിക്കേറ്റർ ഇട്ട് റിയർ-വ്യൂ മിററിൽ (പിന്നിലെ കണ്ണാടി) നോക്കുക

3. ട്രാഫിക് സിഗ്നൽ ചുവപ്പാകാൻ കാത്തിരിക്കുക

Ans: 2

Q176 നിങ്ങൾ ഒരു പാർക്കിംഗ് സ്ഥലത്ത് നിന്ന് വാഹനം പുറത്തേക്ക് എടുക്കുമ്പോൾ, നിങ്ങൾ...

1. റിയർ-വ്യൂ മിററുകൾ ഉപയോഗിക്കുക, ബ്ലൈൻഡ് സ്പോട്ട് (കണ്ണാടിയിൽ കാണാത്ത ഭാഗം) പരിശോധിക്കുക, ഇൻഡിക്കേറ്റർ നൽകുക

2. വാഹനത്തിന് ചുറ്റും നോക്കുക

3. ഹോൺ മുഴക്കി മുന്നോട്ട് പോവുക

Ans: 1

Q177 ശബ്ദമലിനീകരണം എന്തിന് കാരണമാകാം?

1. മാനസിക സന്തുലിതാവസ്ഥ തകരാറിലാക്കുന്നു

2. ഡ്രൈവറുടെ ഏകാഗ്രത നഷ്ടപ്പെടുത്തുന്നു

3. മുകളിൽ പറഞ്ഞവയെല്ലാം

Ans: 3

Q178 വായു മലിനീകരണം ആരെയാണ് ബാധിക്കുന്നത്?

1. മനുഷ്യരെ മാത്രം

2. സസ്യങ്ങളെയും മൃഗങ്ങളെയും മാത്രം

3. മുകളിൽ പറഞ്ഞവയെല്ലാം

Ans: 3

Q179 ഒരു മോട്ടോർ വാഹനത്തിൽ മൾട്ടി-ടോൺഡ് (വിവിധ ശബ്ദങ്ങളുള്ള) ഹോണുകൾ ഘടിപ്പിക്കുന്നത്...

1. അടിയന്തര ഘട്ടങ്ങളിൽ മാത്രം അനുവദനീയമാണ്

2. ശബ്ദമലിനീകരണത്തിന് കാരണമാകുന്നതിനാൽ നിയമപ്രകാരം ഇതൊരു കുറ്റകൃത്യമാണ്

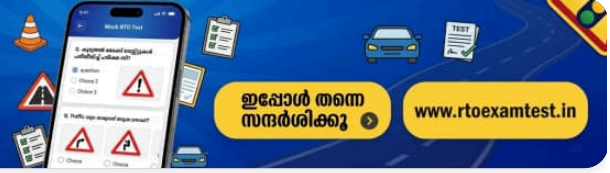
3. അപകടം ഒഴിവാക്കാനാണ്

Ans: 2



കൂടുതൽ മോക്ക് ടെസ്റ്റുകൾ പരിശീലിച്ച് പരീക്ഷ വിജയിക്കൂ

ഡ്രൈവിംഗ് ലൈസൻസ് പരീക്ഷയ്ക്ക് ആവശ്യമായ കൂടുതൽ ചോദ്യങ്ങളും പരിശീലനവും ഞങ്ങളുടെ വെബ്സൈറ്റിൽ ലഭ്യമാണ്



ഇപ്പോൾ തന്നെ സന്ദർശിക്കൂ

www.rtoexamtest.in

Q180 ഭൂമിയിൽ ചെറിയ വസ്തുക്കൾ നിങ്ങളുടെ വാഹനം ഒരു വശത്തേക്ക് തെന്നിമാറുന്നു. നിങ്ങൾ...

- 1. ടയറുകൾ മാറ്റിയിടണം
- 2. ഭൂമിയിൽ ചെറിയ വസ്തുക്കൾ പെഡൽ പമ്പ് ചെയ്യണം
- 3. നിങ്ങളുടെ മെക്കാനിക്കിനെ സമീപിക്കണം

Ans: 3

Q181 വാഹനം തെന്നിമാറുന്നതിനുള്ള (Skidding) സാധാരണ കാരണം എന്താണ്?

- 1. ടയറുകളുടെയും റോഡിന്റെയും മോശം അവസ്ഥ
- 2. ഡ്രൈവറുടെ പിഴവ്
- 3. മുകളിൽ പറഞ്ഞ രണ്ടും

Ans: 3

Q182 യാത്ര ചെയ്യുമ്പോൾ എതിരെ വരുന്ന വാഹനത്തിന്റെ ഹെഡ്ലൈറ്റ് കണ്ട് കണ്ണുബിന്ദായാൽ, നിങ്ങൾ...

- 1. നിങ്ങളുടെ സൺ വൈസർ (Sun visor) താഴ്ത്തണം
- 2. വേഗത കുറച്ച് നിർത്തണം
- 3. നിങ്ങളുടെ ഹൈ ബീം (High beam) ഓണാക്കണം

Ans: 2

Q183 ബ്ലൈൻഡ് സ്പോട്ട് (Blind spot) എന്നാൽ എന്താണ്?

- 1. നിങ്ങളുടെ റിയർ-വ്യൂ മിററുകളിൽ (സൈഡ് മിററുകളിലും അകത്തെ മിററിലും) കാണാൻ കഴിയാത്ത ഒരു പ്രദേശം
- 2. ഹെഡ്ലൈറ്റുകൾ ഉൾക്കൊള്ളാത്ത ഒരു പ്രദേശം
- 3. നിങ്ങളുടെ വാഹനത്തിനുള്ളിലെ റിയർ-വ്യൂ മിററിൽ മാത്രം കാണാൻ കഴിയാത്ത ഒരു പ്രദേശം

Ans: 1

Q184 അറ്റകുറ്റപ്പണികൾ നടക്കുന്ന ഒരു റോഡിനെ സമീപിക്കുമ്പോൾ, നിങ്ങൾ അനുഭവിക്കേണ്ടുന്ന വേഗത പരിധി പാലിക്കേണ്ടത്...

- 1. പകൽ സമയത്ത് ജോലി നടക്കുമ്പോൾ മാത്രം
- 2. രാത്രി സമയങ്ങളിൽ മാത്രം
- 3. എല്ലാ സമയത്തും

Ans: 3

Q185 അപകടകരമായ ഡ്രൈവിംഗ് (Dangerous driving) എന്നത്...

1. അടിയന്തര സാഹചര്യങ്ങളിൽ അനുവദനീയമാണ്

2. മോട്ടോർ വാഹന നിയമത്തിലെ 184-ാം വകുപ്പ് പ്രകാരം ശിക്ഷാർഹമായ കുറ്റമാണ്

3. മുകളിൽ പറഞ്ഞ രണ്ടും ശരിയാണ്

Ans: 2

Q186 ഒരു അപകടം സംഭവിച്ചു, പരിക്കേറ്റ ഒരാൾ റോഡിൽ കിടക്കുന്നു. നിങ്ങൾ ചെയ്യേണ്ടത്...

1. ആ പ്രദേശം സുരക്ഷിതമാക്കുകയും അധികാരികളെ (പോലീസ്/ആംബുലൻസ്) വിവരമറിയിക്കുകയും ചെയ്യുക

2. ആ പ്രദേശം സുരക്ഷിതമാക്കുകയും പരിക്കേറ്റവർക്ക് പ്രഥമശുശ്രൂഷ നൽകുകയും ചെയ്യുക

3. ആ പ്രദേശം സുരക്ഷിതമാക്കുക, പ്രഥമശുശ്രൂഷ നൽകുക, പരിക്കേറ്റവരെ ആശുപത്രിയിൽ എത്തിക്കുക, അധികാരികളെ വിവരമറിയിക്കുക

Ans: 3

Q187 പ്രഥമശുശ്രൂഷയുടെ (First Aid) പ്രധാന ലക്ഷ്യം എന്താണ്?

1. പരിക്കുകൾ പൂർണ്ണമായും ഭേദമാക്കുക

2. പരിക്കും അതിന്റെ പ്രത്യാഘാതങ്ങളും കൂടുതൽ വഷളാകുന്നത് തടയുക

3. മുകളിൽ പറഞ്ഞവയെല്ലാം

Ans: 2

Q188 മദ്യപാനം നിങ്ങളുടെ ഡ്രൈവിംഗിനെ എങ്ങനെ ബാധിക്കുന്നു?

1. ഇത് നിങ്ങളുടെ ജാഗ്രത വർദ്ധിപ്പിക്കുന്നു

2. ഇത് നിങ്ങളുടെ ഏകാഗ്രതയും ശ്രദ്ധയും കുറയ്ക്കുന്നു

3. ഇത് നിങ്ങളുടെ ആത്മവിശ്വാസം വർദ്ധിപ്പിക്കുന്നു

Ans: 2

Q189 ട്രാഫിക് ലൈറ്റിൽ ആംബർ (മഞ്ഞ) ലൈറ്റിന് ശേഷം വരുന്നത് ഏത് നിറമാണ്?

1. ചുവപ്പ്

2. പച്ച

3. ചുവപ്പ് അല്ലെങ്കിൽ പച്ച

Ans: 1

Q190 വാഹനമോടിക്കുമ്പോൾ നിങ്ങൾക്ക് ക്ഷീണം തോന്നുകയോ ശ്രദ്ധ കേന്ദ്രീകരിക്കാൻ കഴിയാതെ വരികയോ ചെയ്താൽ, നിങ്ങൾ:

1. സുരക്ഷിതമായ ഒരു സ്ഥലം കണ്ടാലുടൻ വാഹനം നിർത്തി വിശ്രമിക്കുക.

2. ശ്രദ്ധ കേന്ദ്രീകരിക്കാൻ സഹായിക്കുന്നതിന് സ്റ്റീരിയോ ഓണാക്കുക.

3. ലക്ഷ്യസ്ഥാനത്ത് വേഗത്തിൽ എത്താൻ വാഹനത്തിന്റെ വേഗത കൂട്ടുക.

Ans: 1

Q191 നിങ്ങൾ രാത്രിയിൽ വാഹനമോടിക്കുകയാണ്, ഉണർന്നിരിക്കാൻ നിങ്ങൾക്ക് എന്ത് ചെയ്യാൻ കഴിയും?

1. കൃത്യമായ ഇടവേളകളിൽ ആവശ്യത്തിന് വിശ്രമിക്കുക.

2. വിശ്രമവേളകളിൽ ശുദ്ധവായു കൊള്ളാൻ നടക്കുക.

3. മുകളിൽ പറഞ്ഞ രണ്ടും.

Ans: 3

Q192 യാത്രയ്ക്കിടെ കാർ ഓടിക്കുമ്പോൾ നിങ്ങൾക്ക് അസുഖം അനുഭവപ്പെടുകയും ശ്രദ്ധ കേന്ദ്രീകരിക്കാൻ കഴിയാതെ വരികയും ചെയ്താൽ എന്തുചെയ്യണം?

1. യാത്ര വേഗത്തിൽ അവസാനിപ്പിക്കാൻ വാഹനത്തിന്റെ വേഗത കൂട്ടുക.

2. ജനാലകൾ തുറന്നിട്ട് യാത്ര തുടരുക.

3. സുരക്ഷിതമായ സ്ഥലത്ത് വാഹനം നിർത്തുക, സാധ്യമെങ്കിൽ വൈദ്യസഹായം തേടുക.

Ans: 3

Q193 ആന്റി-ലോക്ക് ബ്രേക്കിംഗ് സിസ്റ്റം (ABS) രൂപകൽപ്പന ചെയ്തിരിക്കുന്നത് എന്തിനാണ്?

1. സ്റ്റിയറിംഗ് വീൽ കറങ്ങുന്നത് തടയാൻ.

2. ബ്രേക്കിംഗ് സിസ്റ്റത്തിനുള്ളിൽ ഊർപ്പം അടിഞ്ഞുകൂടുന്നത് തടയാൻ.

3. പെട്ടെന്ന് ബ്രേക്ക് ചെയ്യുമ്പോൾ ചക്രങ്ങൾ ലോക്ക് ആകുന്നത് തടയാനും ടയറുകൾ തെന്നിമാറുന്നത് ഒഴിവാക്കാനും.

Ans: 3

Q194 "ബ്രേക്ക് ഫേഡ്" എന്നാൽ എന്താണ്?

1. വായു മർദ്ദം കുറയുന്നത്.

2. സുഗമമായ ബ്രേക്കിംഗ്.

3. തുടർച്ചയായ ഉപയോഗം മൂലം ബ്രേക്കിന്റെ ഫലപ്രാപ്തി കുറയുന്നത്.

Ans: 3

Q195 ചെറുവിറങ്ങുമ്പോൾ ബ്രേക്ക് ഫേഡ് തടയാൻ നിങ്ങൾ എന്താണ് ചെയ്യേണ്ടത്?

1. ചെറിയ ദൂരത്തേക്ക് ന്യൂട്രൽ ഗിയർ തിരഞ്ഞെടുക്കുക.

2. ബ്രേക്ക് പെഡൽ ആവർത്തിച്ച് പമ്പ് ചെയ്യുക.

3. കുറഞ്ഞ ഗിയർ തിരഞ്ഞെടുത്ത് ആവശ്യമെങ്കിൽ മാത്രം ബ്രേക്ക് ചെയ്യുക.

Ans: 3

Q196 കയറ്റമുള്ള റോഡിൽ വാഹനം നിർത്തുമ്പോൾ നിങ്ങൾ എന്ത് ചെയ്യണം?

1. ക്ലച്ച് ഉപയോഗിച്ച് വാഹനം നിർത്തി നിർത്തുക.

2. ഫുട്ട് ബ്രേക്ക് മാത്രം ഉപയോഗിച്ച് വാഹനം നിർത്തി നിർത്തുക.

3. നിർത്തിയ ശേഷം വാഹനം സുരക്ഷിതമായി നിർത്താൻ പാർക്കിംഗ് ബ്രേക്ക് (ഹാൻഡ് ബ്രേക്ക്) പ്രയോഗിക്കുക.

Ans: 3

Q197 നിങ്ങൾ ഒരു വലിയ വാഹനത്തിന് പിന്നിലാണ് വാഹനമോടിക്കുന്നത്. മുന്നിലുള്ള കാഴ്ച വ്യക്തമാക്കാൻ നിങ്ങൾ എന്തുചെയ്യണം?

1. എത്രയും വേഗം മറികടക്കുക (ഓവർടേക്ക് ചെയ്യുക).

2. ഇടതുവശത്തേക്ക് മാറി സഞ്ചരിക്കുക.

3. മുന്നിൽ കൂടുതൽ വ്യക്തമായി കാണുന്നതിന് കുറച്ചുകൂടി പിന്നിലായി അകലം പാലിക്കുക.

Ans: 3

Q198 വെള്ളം കയറിയ റോഡിലൂടെ വാഹനമോടിക്കുമ്പോൾ നിങ്ങൾ എന്ത് ചെയ്യണം?

1. വെള്ളം ഇറങ്ങുന്നതുവരെ വാഹനം നിർത്തിയിടുക.

2. വെള്ളത്തിന്റെ അളവ് പരിശോധിച്ച്, സൈലൻസറിൽ വെള്ളം കയറാതിരിക്കാൻ കുറഞ്ഞ ഗിയറിൽ (ഹൈ ടോർക്ക്) കൂടുതൽ ആക്സിലറേഷൻ കൊടുത്ത് വാഹനമോടിക്കുക.

3. ഉയർന്ന ഗിയറിൽ കുറഞ്ഞ ആക്സിലറേഷനിൽ വാഹനമോടിക്കുക.

Ans: 2

Q199 കുന്നിൻ ചെരുവിൽ ഇറങ്ങുമ്പോൾ ന്യൂട്രൽ ഗിയറിൽ വാഹനം ഓടിക്കുന്നത് അപകടകരമാണ്, കാരണം അത് നേരിട്ട് ബാധിക്കുന്നത്:

1. കൂളിംഗ് സിസ്റ്റത്തെ.

2. സ്പീഡ് ഗവർണറെ.

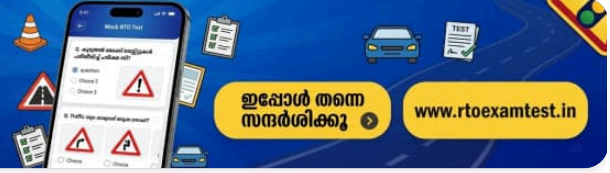
3. ബ്രേക്കിംഗ് സിസ്റ്റത്തെ (എഞ്ചിൻ ബ്രേക്കിംഗ് നഷ്ടപ്പെടുന്നു).

Ans: 3



കൂടുതൽ മോക്ക് ടെസ്റ്റുകൾ പരിശീലിച്ച് പരീക്ഷ വിജയിക്കൂ

ഡ്രൈവിംഗ് ലൈസൻസ് പരീക്ഷയ്ക്ക് ആവശ്യമായ കൂടുതൽ ചോദ്യങ്ങളും പരിശീലനവും ഞങ്ങളുടെ വെബ്സൈറ്റിൽ ലഭ്യമാണ്



ഇപ്പോൾ തന്നെ സന്ദർശിക്കൂ

www.rtoexamtest.in

Q200 പവർ അസിസ്റ്റഡ് സ്റ്റിയറിംഗിന്റെ പ്രധാന പ്രയോജനം എന്താണ്?

1. ഇത് ടയർ തേയ്മാനം കുറയ്ക്കുന്നു.

2. ഇത് ബ്രേക്കിംഗിനെ സഹായിക്കുന്നു.

3. ഇത് സ്റ്റിയറിംഗ് തിരിക്കാൻ ആവശ്യമായ ശാരീരിക അധ്വാനം കുറയ്ക്കുന്നു.

Ans: 3

Q201 പെട്ടെന്നുള്ള ബ്രേക്കിംഗും അപകടകരമായ ഡ്രൈവിംഗും നിങ്ങൾക്ക് എങ്ങനെ ഒഴിവാക്കാം?

1. പാർക്കിംഗ് ബ്രേക്ക് സാവധാനം പ്രയോഗിക്കുന്നതിലൂടെ.

2. ട്രാഫിക് മുൻകൂട്ടി കണ്ട് സമയബന്ധിതമായി പതുക്കെ ബ്രേക്ക് ചെയ്യുന്നതിലൂടെ.

3. ഗിയറുകൾ മാത്രം ഉപയോഗിച്ച് വേഗത കുറയ്ക്കുന്നതിലൂടെ.

Ans: 2

Q202 വാഹനത്തിൽ യാത്ര ചെയ്യുമ്പോൾ ഭാരം കൈമാറ്റം ചെയ്യപ്പെടുന്നത് യാത്രക്കാർ ഏറ്റവും കൂടുതൽ ശ്രദ്ധിക്കുന്നത് എപ്പോഴാണ്?

1. ശക്തമായി ബ്രേക്ക് ചെയ്യുമ്പോൾ.

2. വേഗത്തിൽ വളവുകൾ തിരിയുമ്പോൾ.

3. മുകളിൽ പറഞ്ഞ രണ്ടും.

Ans: 3

Q203 ഒരു വളവ്, റൗണ്ട് എഞ്ചിന്റ് അല്ലെങ്കിൽ കോർണറിലേക്ക് പ്രവേശിക്കുന്നതിന് മുമ്പ് നിങ്ങൾ എന്താണ് ചെയ്യേണ്ടത്?

1. ശരിയായ ഗിയർ തിരഞ്ഞെടുക്കുക.

2. നിങ്ങളുടെ വേഗത കുറച്ച് നിയന്ത്രിക്കുക.

3. മുകളിൽ പറഞ്ഞ രണ്ടും.

Ans: 3

Q204 ഹസാർഡ് വാണിംഗ് ലാമ്പുകൾ (അപകട മുന്നറിയിപ്പ് വിളക്കുകൾ) എപ്പോഴാണ് ഉപയോഗിക്കേണ്ടത്?

1. ജംഗ്ഷനിൽ നേരെ മുന്നോട്ട് പോകുമ്പോൾ.

2. പിന്നിലെ വാഹനത്തിന് വേഗത കുറയ്ക്കാൻ മുന്നറിയിപ്പ് നൽകാൻ.

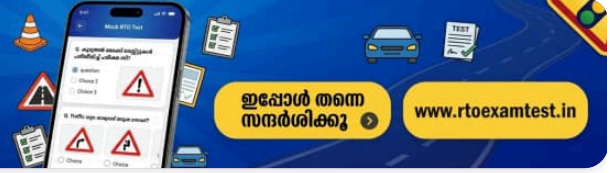
3. നിങ്ങളുടെ വാഹനം തകരാറിലാവുകയോ അടിയന്തര സാഹചര്യങ്ങളിൽ നിർത്തുകയോ ചെയ്യുമ്പോൾ, പ്രത്യേകിച്ച് ഹൈവേകളിൽ.

Ans: 3



കൂടുതൽ മോക്ക് ടെസ്റ്റുകൾ പരിശീലിച്ച് പരീക്ഷ വിജയിക്കൂ

ഡ്രൈവിംഗ് ലൈസൻസ് പരീക്ഷയ്ക്ക് ആവശ്യമായ കൂടുതൽ ചോദ്യങ്ങളും പരിശീലവും ഞങ്ങളുടെ വെബ്സൈറ്റിൽ ലഭ്യമാണ്



ഇപ്പോൾ തന്നെ സന്ദർശിക്കൂ

www.rtoexamtest.in

Q205 ലാമിനേറ്റഡ് സേഫ്റ്റി വിൻഡ്സ്ക്രീൻ ഗ്ലാസിന്റെ പ്രത്യേകതകൾ എന്തൊക്കെയാണ്?

- 1. ഇടിക്കുമ്പോൾ അത് മുർച്ചയുള്ള, അപകടകരമായ കഷണങ്ങളായി ചിതറില്ല.
- 2. രണ്ട് ഗ്ലാസുകൾക്കിടയിൽ ഒരു പ്ലാസ്റ്റിക് പാളി ഇതിൽ ഒട്ടിച്ചിരിക്കുന്നു.
- 3. മുകളിൽ പറഞ്ഞ രണ്ടും.

Ans: 3

Q206 നിങ്ങളുടെ വാഹനം അപകടത്തിൽ പെടുകയും ഒരാൾക്ക് പരിക്കേൽക്കുകയും ചെയ്താൽ നിങ്ങൾ എന്തുചെയ്യണം?

- 1. അപകടസ്ഥലത്ത് നിർത്തുക, സാധ്യമെങ്കിൽ പ്രഥമശുശ്രൂഷ നൽകുക, അടിയന്തര വൈദ്യസഹായം ലഭ്യമാക്കാൻ നടപടിയെടുക്കുക.
- 2. ഏറ്റവും അടുത്തുള്ള പോലീസ് സ്റ്റേഷനിലേക്ക് വേഗത്തിൽ ഓടിച്ചു പോവുക.
- 3. സംഭവസ്ഥലത്തുനിന്നും മാറി ഇൻഷുറൻസ് കമ്പനിയെ എത്രയും വേഗം വിവരമറിയിക്കുക.

Ans: 1

Q207 നിങ്ങളുടെ വാഹനം പാർക്ക് ചെയ്തിരുന്ന ഒരു വാഹനത്തിൽ ഇടിക്കുകയും ഉടമസ്ഥനെ കണ്ടെത്താൻ കഴിയാതിരിക്കുകയും ചെയ്താൽ നിങ്ങൾ എന്തുചെയ്യണം?

- 1. സ്ഥലത്ത് നിന്ന് ഓടിച്ചു പോയി സ്വന്തം വാഹനം നന്നാക്കുക.
- 2. കഴിയുന്നതും വേഗം നിങ്ങളുടെ ഇൻഷുറൻസ് കമ്പനിയെ അറിയിക്കുകയും മറ്റേ വാഹനം അവഗണിക്കുകയും ചെയ്യുക.
- 3. 24 മണിക്കൂറിനുള്ളിൽ ആ പ്രദേശത്തിന്റെ അധികാരപരിധിയിലുള്ള പോലീസ് സ്റ്റേഷനിൽ വിവരം അറിയിക്കുക.

Ans: 3

Q208 ഹൈവേയിൽ വാഹനം ഓടിക്കുമ്പോൾ മുൻവശത്തെ ടയർ പൊട്ടിയാൽ നിങ്ങൾ ചെയ്യേണ്ടത്:

- 1. സ്റ്റിയറിംഗ് വീലിലെ നിങ്ങളുടെ പിടി അയയ്ക്കുക.
- 2. പെട്ടെന്ന് ശക്തമായി ബ്രേക്ക് ചെയ്ത് വാഹനം നിർത്തുക.
- 3. സ്റ്റിയറിംഗ് വീൽ മറുകെ പിടിച്ച് പതുക്കെ ബ്രേക്ക് ചെയ്ത് വാഹനം സുരക്ഷിതമായി നിർത്തുക.

Ans: 3

Q209 രാത്രിയിൽ മറ്റ് ഡ്രൈവർമാർക്ക് വ്യക്തമായി കാണാൻ കഴിയുന്ന തരത്തിൽ മോട്ടോർ സൈക്കിൾ യാത്രികർ എന്ത് തരം വസ്ത്രങ്ങളാണ് ധരിക്കേണ്ടത്?

1. തിളക്കമുള്ളതോ റിഫ്ലക്റ്റീവ് ആയതോ ആയ വസ്ത്രങ്ങൾ.

2. ഇരുണ്ട നിറമുള്ള വസ്ത്രങ്ങൾ.

3. മുകളിൽ പറഞ്ഞവയൊന്നുമല്ല.

Ans: 1

Q210 വാഹനം പാർക്ക് ചെയ്തതിന് ശേഷം വലതുവശത്തെ വാതിൽ തുറക്കുന്നതിന് മുമ്പ്, നിങ്ങൾ എന്താണ് ചെയ്യേണ്ടത്?

1. പിന്നിൽ നിന്ന് മറ്റ് വാഹനങ്ങളോ സൈക്കിൾ യാത്രക്കാരോ വരുന്നില്ലെന്ന് ഉറപ്പുവരുത്തുക.

2. വേഗം വാതിൽ തുറന്ന് പുറത്തിറങ്ങുക.

3. വലതുവശത്തെ വാതിൽ തുറക്കാതെ എപ്പോഴും ഇടതുവശത്തുകൂടി മാത്രം പുറത്തിറങ്ങുക.

Ans: 1

Q211 ചരക്ക് വാഹനത്തിൽ ഭാരം കയറ്റുമ്പോൾ ശ്രദ്ധിക്കേണ്ട ഏറ്റവും പ്രധാനപ്പെട്ട കാര്യം എന്താണ്?

1. ഭാരത്തിന്റെ ഭൂരിഭാഗവും പിന്നിലേക്ക് വെക്കുന്നത്.

2. ഭാരത്തിന്റെ ഭൂരിഭാഗവും മുന്നിലേക്ക് വെക്കുന്നത്.

3. വാഹനത്തിലുടനീളം ഭാരം തുല്യമായി വിതരണം ചെയ്യുന്നത്.

Ans: 3

Q212 ഉണങ്ങിയ മണൽ കയറ്റിയ ഒരു ടിപ്പർ അല്ലെങ്കിൽ ട്രക്ക് ആണ് നിങ്ങൾ ഓടിക്കുന്നത്. ലോഡ് ശരിയായി മുടിയിട്ടുണ്ടെന്ന് നിങ്ങൾ ഉറപ്പാക്കേണ്ടത് എന്തുകൊണ്ട്?

1. വാഹനത്തിന്റെ നിയന്ത്രണം (ഹാൻഡ്ലിംഗ്) നഷ്ടപ്പെടാതിരിക്കാൻ.

2. പിന്നിലെ കാഴ്ച തടസ്സപ്പെടുത്തില്ലെന്ന് ഉറപ്പാക്കാൻ.

3. മണൽ പറന്ന് മറ്റ് ഡ്രൈവർമാരുടെയോ കാൽനടയാത്രക്കാരുടെയോ കണ്ണിൽ വീഴാതിരിക്കാൻ.

Ans: 3

Q213 ഒരു ട്രക്കിൽ കയറ്റിയ സാധനങ്ങൾക്ക് മുകളിൽ ഇരുന്ന് യാത്ര ചെയ്യാൻ എത്ര പേരെ അനുവദിക്കും?

1. ഒരാൾക്ക് മാത്രം.

2. വാഹനത്തിന്റെ പെർമിറ്റിൽ അനുവദിച്ചിട്ടുള്ള അത്രയും പേർക്ക്.

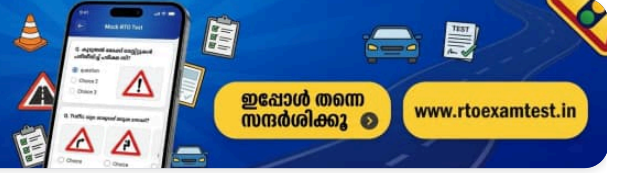
3. ആർക്കും പാടില്ല. സാധനങ്ങൾക്ക് മുകളിൽ ഇരിക്കുന്നത് നിയമവിരുദ്ധമാണ്.

Ans: 3



കൂടുതൽ മോക്ക് ടെസ്റ്റുകൾ പരിശീലിച്ച് പരീക്ഷ വിജയിക്കൂ

ഡ്രൈവിംഗ് ലൈസൻസ് പരീക്ഷയ്ക്ക് ആവശ്യമായ കൂടുതൽ ചോദ്യങ്ങളും പരിശീലനവും ഞങ്ങളുടെ വെബ്സൈറ്റിൽ ലഭ്യമാണ്



ഇപ്പോൾ തന്നെ സന്ദർശിക്കൂ

www.rtoexamtest.in

Q214 ഇടത്തേക്ക് തിരിയുന്നതിന് മുമ്പ് നിങ്ങൾ ആദ്യം പരിശോധിക്കേണ്ടത് എന്താണ്?

- 1. വലതുവശത്തെ മിറർ.
- 2. ഇടതുവശത്തെ മിറർ.
- 3. നിങ്ങളുടെ ഇടതു തോളിനു മുകളിലൂടെ പിന്നിലേക്ക് നോക്കുക.

Ans: 2

Q215 നിർത്തിയിട്ടിരിക്കുന്ന വാഹനം മുന്നോട്ട് എടുക്കുന്നതിന് മുമ്പ് നിങ്ങൾ എപ്പോഴും:

- 1. മിററുകൾ ഉപയോഗിക്കുക, പിന്നിലേക്ക് നോക്കുക, ശരിയായ സിഗ്നൽ നൽകുക.
- 2. ഇൻഡിക്കേറ്റർ ഉപയോഗിച്ച് ഇടത്തേക്ക് സിഗ്നൽ നൽകി ഉടൻ തന്നെ മുന്നോട്ട് പോവുക.
- 3. വലതുവശത്തെ മിറർ മാത്രം ഉപയോഗിച്ച് വേഗത്തിൽ മുന്നോട്ട് പോവുക.

Ans: 1

Q216 ഒരു റോഡ് ജംഗ്ഷനിൽ, താഴെ പറയുന്നവരിൽ ആർക്കാണ് കൂടുതൽ അപകടസാധ്യതയുള്ളത്?

- 1. സൈക്ലിസ്റ്റുകൾക്കും മോട്ടോർ സൈക്ലിസ്റ്റുകൾക്കും.
- 2. കാൽനടയാത്രക്കാർക്ക്.
- 3. മുകളിൽ പറഞ്ഞ രണ്ടും.

Ans: 3

Q217 ഒരു വാഹനത്തിന്റെ 'ടേണിംഗ് സർക്കിൾ' (Turning Circle) എന്നത് എന്താണ്?

- 1. സ്റ്റിയറിംഗ് വീൽ ഒരറ്റത്ത് നിന്നും മറ്റേ അറ്റത്തേക്ക് തിരിക്കുന്നതിന്റെ എണ്ണം.
- 2. വാഹനം വളവുകൾ തിരിയുമ്പോൾ എടുക്കുന്ന അകലം.
- 3. വാഹനത്തിന് പൂർണ്ണമായി യു-ടേൺ (U-turn) എടുക്കാൻ ആവശ്യമായ സ്ഥലം.

Ans: 3

Q218 നന്നത്തെ റോഡിൽ ബ്രേക്ക് ചെയ്യുന്നതിനുമുമ്പ്, നിങ്ങൾ കഴിയുന്നത്ര എന്താണ് ഉറപ്പാക്കേണ്ടത്?

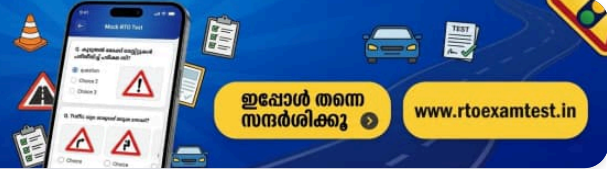
- 1. ഗിയർ ലിമ്പർ ന്യൂട്രലിലാണെന്ന്.
- 2. റിയർവ്യൂ മിററിൽ മുടൽമഞ്ഞൊ വെള്ളമോ ഇല്ലെന്ന്.
- 3. നിങ്ങളുടെ വാഹനം നേർരേഖയിലാണ് സഞ്ചരിക്കുന്നതെന്ന് (തെന്നിമാറാതിരിക്കാൻ).

Ans: 3



കൂടുതൽ മോക്ക് ടെസ്റ്റുകൾ പരിശീലിച്ച് പരീക്ഷ വിജയിക്കൂ

ഡ്രൈവിംഗ് ലൈസൻസ് പരീക്ഷയ്ക്ക് ആവശ്യമായ കൂടുതൽ ചോദ്യങ്ങളും പരിശീലനവും ഞങ്ങളുടെ വെബ്സൈറ്റിൽ ലഭ്യമാണ്



ഇപ്പോൾ തന്നെ സന്ദർശിക്കൂ

www.rtoexamtest.in

Q219 ഹൈവേയിൽ നിങ്ങളുടെ വാഹനം കേടാകുകയും അതിൽ യാത്രക്കാരുണ്ടാവുകയും ചെയ്താൽ, നിങ്ങൾ എന്ത് ചെയ്യണം?

1. സുരക്ഷിതമായി വാഹനം റോഡിന്റെ ഏറ്റവും ഇടതുവശത്ത് നിർത്തുക.

2. പ്രധാന റോഡിൽ യാത്രക്കാരെ വാഹനത്തിനുള്ളിൽ തന്നെ ഇരുത്തുക.

3. മുകളിൽ പറഞ്ഞ രണ്ടും.

Ans: 1

Q220 വാഹനത്തിന്റെ വിൻഡ്സ്ക്രീനിൽ ഘടിപ്പിച്ചിട്ടുള്ള വൈപ്പറുകൾ (wipers) എന്തിനാണ് ഉപയോഗിക്കുന്നത്?

1. മഴക്കാലത്ത് മാത്രം.

2. ഏത് സീസണിലും കാലാവസ്ഥയിലും വിൻഡ്ഷീൽഡ് വൃത്തിയാക്കാൻ.

3. എതിരേ വരുന്ന വാഹനങ്ങൾക്ക് നിർത്താനുള്ള സൂചന നൽകാൻ.

Ans: 2

Q221 ഒരു മോട്ടോർ സൈക്കിൾ യാത്രക്കാരൻ 'നിയന്ത്രണങ്ങൾ അവസാനിക്കുന്നു' എന്ന ബോർഡ് കണ്ടാൽ, അനുവദനീയമായ പരമാവധി വേഗത എത്രയാണ്?

1. മണിക്കൂറിൽ 50 കി.മീ.ൽ കൂടുതൽ.

2. വാഹനത്തിന്റെ പരമാവധി വേഗതയ്ക്ക് തുല്യം.

3. മണിക്കൂറിൽ 50 കി.മീ.ൽ കൂടുതൽ.

Ans: 3

Q222 ആന്റി-ലോക്ക് ബ്രേക്കിംഗ് സിസ്റ്റം (ABS) ഇല്ലാത്ത വാഹനം അടിയന്തര ഘട്ടത്തിൽ നിർത്തുന്നതിനുള്ള ശരിയായ രീതി എന്താണ്?

1. ഫുട്ട് ബ്രേക്കും ഹാൻഡ് ബ്രേക്കും ഒരുമിച്ച് പ്രയോഗിക്കുക.

2. വാഹനം നിർത്തുന്നതുവരെ ഫുട്ട് ബ്രേക്ക് ആവർത്തിച്ച് ശക്തമായി അമർത്തുക (പമ്പ് ചെയ്യുക).

3. ഫുട്ട് ബ്രേക്ക് ഒരിക്കൽ ശക്തമായി അമർത്തി വാഹനം നിർത്തുന്നതുവരെ അമർത്തി പിടിക്കുക.

Ans: 2

Q223 സ്പീഡ് ഗവർണർ ഘടിപ്പിച്ച വാഹനം ഓടിക്കുമ്പോൾ, നിങ്ങൾ എപ്പോഴാണ് പ്രത്യേക ശ്രദ്ധിക്കേണ്ടത്?

1. മറ്റൊരു വാഹനത്തെ മറികടക്കുമ്പോൾ (ഓവർടേക്ക് ചെയ്യുമ്പോൾ).

2. വളവുകൾ തിരിയുമ്പോൾ.

3. ബ്രേക്ക് ചെയ്യുമ്പോൾ.

Ans: 1

Q224 താഴെ പറയുന്നവയിൽ ഏതാണ് എല്ലാ വാഹനങ്ങൾക്കും നിയമപരമായി നിർബന്ധമുള്ളത്?

1. ഫസ്റ്റ് എയ്ഡ് കിറ്റ്

2. സ്പെയർ വീൽ

3. ഓഡിയോ സിസ്റ്റം

Ans: 1

Q225 ഒരു വലിയ ട്രക്കിന് പിന്നിൽ കാർ ഓടിക്കുന്ന ഡ്രൈവർ എത്ര അകലം പാലിക്കണം?

1. 1.2 മീറ്റർ

2. 2.5 മീറ്റർ

3. സുരക്ഷിതമായ അകലം

Ans: 3

Q226 ട്രാഫിക് അടയാളങ്ങളിൽ ഉൾപ്പെടുന്നത് എന്തെല്ലാം?

1. എല്ലാ സിഗ്നലുകളും മുന്നറിയിപ്പ് ബോർഡുകളും

2. ദിശാസൂചകങ്ങളും റോഡിലെ അടയാളങ്ങളും

3. മുകളിൽ പറഞ്ഞവയെല്ലാം

Ans: 3

Q227 ഒരു പൊതു ഗതാഗത വാഹനത്തിൽ കൊണ്ടുപോകാൻ അനുവദിച്ചിട്ടുള്ള അപകടകരമായ വസ്തു ഏതാണ്?

1. സ്പോർട്സ് വസ്തുക്കൾ

2. ഇന്ധനവും ലൂബ്രിക്കന്റും (വാഹനത്തിന്റെ സാധാരണ ഉപയോഗത്തിനല്ലാത്തത്)

3. സുരക്ഷിതമായി പായ്ക്ക് ചെയ്ത ചെറിയ ആയുധങ്ങളുടെ വെടിയുണ്ടകൾ (കാട്രിഡ്ജ്)

Ans: 2

Q228 ഒരു മോട്ടോർ വാഹന ഡ്രൈവർ എവിടെയാണ് ഹോൺ മുഴക്കാൻ പാടില്ലാത്തത്?

1. ഹൈവേകളിൽ

2. അധികാരികൾ നിരോധിച്ച പ്രദേശങ്ങളിൽ (സൈലന്റ് സോണുകൾ)

3. ഗ്രാമീണ റോഡുകളിൽ

Ans: 2

Q229 ലൈറ്റ് മോട്ടോർ വാഹനങ്ങളിൽ (LMV) ഡ്രൈവറെ അപകടങ്ങളിൽ പരിക്കിൽ നിന്ന് സംരക്ഷിക്കുന്ന സുരക്ഷാ ഉപകരണം ഏതാണ്?

1. ഹെൽമെറ്റ്

2. സീറ്റ് ബെൽറ്റ്

3. ഇവയൊന്നുമല്ല

Ans: 2

Q230 ഇരുചക്ര വാഹനങ്ങൾക്ക് വേണ്ട അടിസ്ഥാന സുരക്ഷാ സംവിധാനങ്ങൾ എന്തൊക്കെയാണ്?

1. പിൻ ചക്രത്തിന്റെ കവർ / സാരി ഗാർഡ്

2. ക്രാഷ് ഗാർഡ് (ലെഗ് ഗാർഡ്)

3. മുകളിൽ പറഞ്ഞ രണ്ടും

Ans: 3

Q231 ഫുട്പാത്ത് ഇല്ലാത്ത റോഡിലൂടെ നടക്കുമ്പോൾ കാൽനടയാത്രക്കാർ ഏത് വശത്തുകൂടിയാണ് നടക്കേണ്ടത്?

1. വലതുവശത്ത് (എതിരേ വരുന്ന വാഹനങ്ങളെ കാണാൻ കഴിയുന്ന വിധത്തിൽ)

2. ഇടതുവശത്ത്

3. റോഡിന് നടുവിലൂടെ

Ans: 1

Q232 ഒരു ദീർഘദൂര യാത്രയ്ക്ക് മുമ്പ് വാഹനത്തിൽ എന്തെല്ലാം കാര്യങ്ങൾ പരിശോധിക്കണം?

1. ഇന്ധനം, ഓയിൽ, ബ്രേക്ക് ഫ്ലൂയിഡ്, കുളന്റ്, ടയറിന്റെ അവസ്ഥ

2. സ്പെയർ വീൽ, സൂജുകൾ, എല്ലാ ഡ്രൈവ് ബെൽറ്റുകളുടെയും ടെൻഷൻ

3. മുകളിൽ പറഞ്ഞവെല്ലാം

Ans: 3

Q233 വാഹനം റിവേഴ്സ് (പിന്നോട്ട്) എടുക്കാൻ അനുവദിച്ചിരിക്കുന്നത് എപ്പോൾ മാത്രമാണ്?

1. ദീശ മാറ്റാനോ പാർക്ക് ചെയ്യാനോ ആവശ്യമായ ഏറ്റവും കുറഞ്ഞ ദൂരത്തേക്ക് മാത്രം

2. രാത്രി ഡ്രൈവിംഗ് സമയത്ത്

3. ചുരം/മലയോര റോഡുകളിൽ ഡ്രൈവ് ചെയ്യുമ്പോൾ

Ans: 1

Q234 രാത്രിയിൽ വാഹനം പാർക്ക് ചെയ്യുമ്പോൾ എന്തെല്ലാം മുൻകരുതലുകൾ എടുക്കണം?

1. പ്രധാന റോഡിൽ നിന്ന് മാറ്റി പാർക്ക് ചെയ്യുക, പാർക്കിംഗ് ലൈറ്റുകൾ ഇടുക, ഹാൻഡ് ബ്രേക്ക് ഉപയോഗിക്കുക.

2. വാഹനം ഗതാഗതത്തിൽ നിന്ന് അകറ്റി ഫുട്പാത്തിൽ പാർക്ക് ചെയ്യുക.

3. വാഹനം ഉരുണ്ടുപോകാതിരിക്കാൻ ടയറിനടിയിൽ ജാക്ക്/ തടസ്സം വെക്കുക

Ans: 1

Q235 മോട്ടോർ വാഹനങ്ങളിൽ ഇന്ധനമായി എൽപിജി (LPG) ഉപയോഗിക്കുന്നത്:

1. നിയമപ്രകാരം പൂർണ്ണമായും നിരോധിച്ചിരിക്കുന്നു.

2. RTO/അധികാരികളിൽ നിന്ന് അംഗീകാരവും സർട്ടിഫിക്കറ്റും ലഭിച്ചതിന് ശേഷം മാത്രമേ ഉപയോഗിക്കാൻ പാടുള്ളൂ.

3. കമ്പനി ഫിറ്റ് ചെയ്ത (factory-fitted) എൽപിജി മോഡലുകൾക്ക് പോലും അനുവാദമില്ല.

Ans: 2

Q236 വാഹനങ്ങളിൽ ഇന്ധനമായി എൽപിജി (LPG) ഉപയോഗിക്കുന്നത്:

1. മലിനീകരണം കുറയ്ക്കുന്നു.

2. ചെലവ് കുറഞ്ഞതാണ്.

3. മുകളിൽ പറഞ്ഞ രണ്ടും.

Ans: 3

Q237 ലെയ്നുകൾ രേഖപ്പെടുത്തിയിട്ടുള്ള റോഡുകളിൽ, നിങ്ങൾ:

1. ലെയ്ൻ മാറ്റുന്നതിന് മുമ്പ് ശരിയായ ഇൻഡിക്കേറ്റർ സിഗ്നൽ ഉപയോഗിക്കണം.

2. നിയമപ്രകാരം നിരോധിച്ചിട്ടുള്ളതിനാൽ ലെയ്നുകൾ ഒരിക്കലും മാറ്റരുത്.

3. ലെയ്ൻ മാറ്റുന്നതിന് മുമ്പ് ജനാലയിലൂടെ പിന്നിലേക്ക് നോക്കണം.

Ans: 1

Q238 ഒരു വാഹനം കെട്ടിവലിച്ച് (ട്രോയിംഗ്) കൊണ്ടുപോകാൻ അനുവദിച്ചിട്ടുള്ളത് എന്തിനു മാത്രമാണ്?

1. യാന്ത്രികമായി തകരാറിലായതോ അപൂർണ്ണമായി നിർമ്മിച്ചതോ ആയ വാഹനങ്ങൾക്ക്.

2. രജിസ്റ്റർ ചെയ്ത ട്രെയിലറുകൾക്കും സൈഡ് കാറുകൾക്കും.

3. മുകളിൽ പറഞ്ഞവയെല്ലാം.

Ans: 3

Q239 രാത്രിയിൽ, ഒരു കാർ ഹൈ-ബീം ഹെഡ്ലൈറ്റുകൾ ഓണാക്കി നിങ്ങളുടെ നേരെ വന്നാൽ, ആ കാറിന്റെ ഡ്രൈവർ:

1. മോശം പെരുമാറ്റം കാണിക്കുന്നു, കാരണം ഹൈ-ബീം മറ്റുള്ളവരുടെ കാഴ്ചയെ തടസ്സപ്പെടുത്തുന്നു.

2. ഒരു സുരക്ഷിത ഡ്രൈവറാണ്, കാരണം ഹൈ-ബീം റോഡിൽ കൂടുതൽ വെളിച്ചം നൽകുന്നു.

3. ഗതാഗത നിയമങ്ങൾ കർശനമായി പാലിക്കുന്നില്ല.

Ans: 1

Q240 നാലുവരി പാതയിൽ ഡ്രൈവ് ചെയ്യുമ്പോൾ, നിങ്ങളുടെ മുന്നിലുള്ള വാഹനം വലതുവശത്തെ ലെയ്നിൽ സാവധാനം പോവുകയും മുന്നിലെ റോഡ് വ്യക്തമാവുകയും ചെയ്താൽ, ഓവർടേക്ക് ചെയ്യാൻ നിങ്ങൾ:

1. വാഹനത്തെ ഇടതുവശത്തുകൂടി കടന്നുപോകാൻ.

2. സൗകര്യപ്രദമായ ഏത് വശത്തുകൂടിയും കടന്നുപോകാൻ.

3. മുന്നിലെ ഡ്രൈവറിൽ നിന്ന് സിഗ്നൽ ലഭിച്ചതിന് ശേഷം മാത്രം വലതുവശത്തുകൂടി കടന്നുപോകാൻ.

Ans: 3

Q241 പാലിൽ പാർക്കിംഗ് സ്ഥലത്തുനിന്നും വാഹനം റോഡിലേക്ക് എടുക്കുമ്പോൾ, നിങ്ങൾ:

1. ഹോൺ മുഴക്കി പതുക്കെ പുറത്തേക്ക് എടുക്കുക.

2. മറ്റ് വാഹനങ്ങൾക്ക് ശരിയായ സിഗ്നൽ നൽകുകയും തുടർന്ന് ശ്രദ്ധാപൂർവ്വം പുറത്തേക്ക് എടുക്കുകയും ചെയ്യുക.

3. റിയർവ്യൂ മിററിൽ വാഹനങ്ങളൊന്നും കണ്ടില്ലെങ്കിൽ മുന്നോട്ട് എടുക്കുക.

Ans: 2

Q242 നിങ്ങൾ പ്രധാന റോഡിലൂടെ സഞ്ചരിക്കുമ്പോൾ മറ്റൊരു വാഹനം ക്രോസ്സ് റോഡിൽ നിന്ന് പ്രവേശിച്ചാൽ, ഏത് വാഹനത്തിനാണ് 'വഴിയവകാശം' (Right of Way) ഉള്ളത്?

1. പ്രധാന റോഡിലൂടെ പോകുന്ന വാഹനത്തിന്.

2. ക്രോസ്സ് റോഡിൽ നിന്ന് വരുന്ന വാഹനത്തിന്.

3. രണ്ട് വാഹനങ്ങൾക്കും ഇല്ല.

Ans: 1

Q243 ഒന്നിലധികം ലെയ്നുകളുള്ള റോഡിൽ, വലത്തേക്ക് തിരിയുന്നതിന് മുമ്പ് നിങ്ങൾ വാഹനം ഏത് ലെയ്നിലേക്ക് മാറ്റണം?

1. ഏതെങ്കിലും ലെയ്നിൽ

2. ഏറ്റവും ഇടതുവശത്തുള്ള ലെയ്നിൽ

3. ഏറ്റവും വലതുവശത്തുള്ള ലെയ്നിൽ

Ans: 3

Q244 നിങ്ങളുടെ വാഹനം ഒരു കാൽനടയാത്രക്കാരനെ ഇടിച്ചാൽ, നിങ്ങൾ:

1. നിങ്ങളെ പരിചയപ്പെടുത്തി സംഭവസ്ഥലത്ത് നിന്ന് പോകുക.

2. പരിക്കേറ്റ ആളെ സഹായിക്കുകയും ആംബുലൻസ് വിളിക്കുകയും ചെയ്യുക.

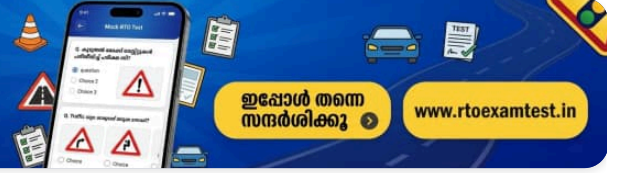
3. പരിക്കേറ്റ ആൾക്ക് വൈദ്യസഹായം ലഭിക്കാൻ സഹായിക്കുക, നിങ്ങളെ പരിചയപ്പെടുത്തുക, തുടർന്ന് പോലീസിൽ വിവരമറിയിക്കുക.

Ans: 3



കൂടുതൽ മോക്ക് ടെസ്റ്റുകൾ പരിശീലിച്ച് പരീക്ഷ വിജയിക്കൂ

ഡ്രൈവിംഗ് ലൈസൻസ് പരീക്ഷയ്ക്ക് ആവശ്യമായ കൂടുതൽ ചോദ്യങ്ങളും പരിശീലനവും ഞങ്ങളുടെ വെബ്സൈറ്റിൽ ലഭ്യമാണ്



ഇപ്പോൾ തന്നെ സന്ദർശിക്കൂ

www.rtoexamtest.in

Q245 നിങ്ങൾ മറ്റൊരു വാഹനത്തെ മറികടക്കാൻ (ഓവർടേക്ക് ചെയ്യാൻ) പാടില്ലാത്തത് എപ്പോൾ:

1. മുന്നിലുള്ള റോഡ് വ്യക്തമായി കാണാത്തപ്പോൾ.

2. നേരായ റോഡിൽ.

3. ഗ്രാമപ്രദേശങ്ങളിൽ.

Ans: 1

Q246 വാഹനം റിവേഴ്സ് എടുക്കാൻ പാടില്ലാത്തത് എവിടെയാണ്?

1. പ്രധാന റോഡിൽ.

2. വൺ-വേയിൽ (ഏകദിശ പാതയിൽ).

3. ടി-ജംഗ്ഷനിൽ.

Ans: 2

Q247 നനഞ്ഞതോ വഴുക്കലുള്ളതോ ആയ റോഡിലൂടെ വാഹനമോടിക്കുമ്പോൾ:

1. ടയർ മർദ്ദം കുറയ്ക്കണം.

2. പെട്ടെന്നുള്ള ബ്രേക്കിംഗും ആക്സിലറേഷനും ഒഴിവാക്കുക.

3. വാഹനം ഉയർന്ന വേഗതയിൽ ഓടിക്കണം.

Ans: 2

Q248 ഒരു നാലു ചക്ര വാഹനത്തിന് പിന്നിൽ ഇരുചക്ര വാഹനം ഓടിക്കുമ്പോൾ, നിങ്ങൾ:

1. മുന്നിലുള്ള വാഹനത്തിന് തൊട്ടുപിന്നിലായി മധ്യഭാഗത്ത് ഓടിക്കുക.

2. മുന്നിലെ കാഴ്ച കൂടുതൽ വ്യക്തമാക്കാൻ വാഹനത്തിന്റെ അല്പം വലതുവശത്തോ ഇടതുവശത്തോ ആയി ഓടിക്കുക.

3. ഇവയൊന്നുമല്ല.

Ans: 2

Q249 ഇരുചക്ര വാഹനം അല്ലെങ്കിൽ ഓട്ടോ റിക്ഷ ഓടിക്കുമ്പോൾ കൈകൊണ്ടുള്ള സിഗ്നലുകൾ കാണിക്കേണ്ടത്:

1. രണ്ട് കൈകളും ഉപയോഗിച്ച്.

2. വലതു കൈ മാത്രം ഉപയോഗിച്ച്.

3. ഇടതു കൈ മാത്രം ഉപയോഗിച്ച്.

Ans: 2

Q250 വാഹനം പാർക്ക് ചെയ്യുമ്പോൾ, നിങ്ങൾ:

- 1. മറ്റ് യാത്രക്കാർക്ക് തടസ്സമോ ബുദ്ധിമുട്ടോ ഉണ്ടാക്കാത്ത രീതിയിൽ വേണം വാഹനം പാർക്ക് ചെയ്യാൻ.
- 2. എപ്പോഴും നടപ്പാതയുടെ വശത്തിന് സമാന്തരമായി പാർക്ക് ചെയ്യണം.
- 3. എപ്പോഴും നടപ്പാതയുടെ വശത്തിന് ലംബമായി (right angle) പാർക്ക് ചെയ്യണം.

Ans: 1

Q251 ഒരു വാഹനത്തിന്റെ ഇൻഷുറൻസ് കാലാവധി കഴിഞ്ഞിട്ടുണ്ടെങ്കിൽ, ഡ്രൈവർ:

- 1. മൂന്നാം കക്ഷിക്ക് അപകടമോ നഷ്ടമോ ഉണ്ടാകാതിരിക്കാൻ വളരെ ശ്രദ്ധയോടെ വാഹനമോടിക്കണം.
- 2. ഒരു കാരണവശാലും വാഹനം ഓടിക്കാൻ പാടില്ല.
- 3. ഡ്രൈവർക്ക് സാധുവായ വ്യക്തിഗത ലൈഫ് ഇൻഷുറൻസ് ഉണ്ടെങ്കിൽ വാഹനം ഓടിക്കാം.

Ans: 2

Q252 മോട്ടോർ വാഹന അപകടത്തിൽ ഇരയായ വ്യക്തിക്ക് നഷ്ടപരിഹാരത്തിനായി എവിടെയാണ് അപേക്ഷിക്കാൻ കഴിയുക?

- 1. ആർ.ടി.ഒ (RTO) ഓഫീസിൽ
- 2. മോട്ടോർ ആക്സിഡന്റ് ക്ലെയിംസ് ട്രിബ്യൂണലിൽ
- 3. ഡ്രൈവറുടെയോ ഉടമയുടെയോ ബാങ്കിൽ

Ans: 2

Q253 മദ്യപിച്ചോ മയക്കുമരുന്ന് ഉപയോഗിച്ചോ വാഹനം ഓടിച്ചാലുള്ള ശിക്ഷ എന്താണ്?

- 1. ആറുമാസം വരെ തടവ്, 10,000 രൂപ വരെ പിഴ അല്ലെങ്കിൽ രണ്ടും.
- 2. അധികാരികളുടെ കർശന മുന്നറിയിപ്പ്.
- 3. 5,000 രൂപ പിഴ.

Ans: 1

Q254 പാർക്ക് ചെയ്ത വാഹനം ഉപേക്ഷിച്ചു പോകുന്നതിന് മുമ്പ്, നിങ്ങൾ:

- 1. ഇഗ്നീഷൻ കീ ഓഫ് ചെയ്യണം.
- 2. എഞ്ചിൻ നിർത്തുക, കീ ഊരിയെടുക്കുക, ഹാൻഡ് ബ്രേക്ക് ഇടുക.
- 3. കാറിന്റെ വാതിലുകൾ ലോക്ക് ചെയ്യണം.

Ans: 2

Q255 താഴെ പറയുന്നവയിൽ ഏതാണ് എല്ലാ വാഹനങ്ങൾക്കും നിയമപരമായി നിർബന്ധമുള്ളത്?

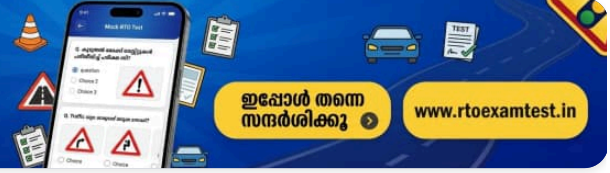
- 1. ഫസ്റ്റ് എയ്ഡ് കിറ്റ്
- 2. സ്പെയർ വീൽ
- 3. ഓഡിയോ സിസ്റ്റം

Ans: 1



കൂടുതൽ മോക്ക് ടെസ്റ്റുകൾ പരിശീലിച്ച് പരീക്ഷ വിജയിക്കൂ

ഡ്രൈവിംഗ് ലൈസൻസ് പരീക്ഷയ്ക്ക് ആവശ്യമായ കൂടുതൽ ചോദ്യങ്ങളും പരിശീലനവും ഞങ്ങളുടെ വെബ്സൈറ്റിൽ ലഭ്യമാണ്



ഇപ്പോൾ തന്നെ സന്ദർശിക്കൂ

www.rtoexamtest.in

Q256 ഒരു വലിയ ട്രക്കിന് പിന്നിൽ കാർ ഓടിക്കുന്ന ഡ്രൈവർ എത്ര അകലം പാലിക്കണം?

1. 1.2 മീറ്റർ

2. 2.5 മീറ്റർ

3. സുരക്ഷിതമായ അകലം

Ans: 3

Q257 ട്രാഫിക് അടയാളങ്ങളിൽ ഉൾപ്പെടുന്നത് എന്തെല്ലാം?

1. എല്ലാ സിഗ്നലുകളും മുന്നറിയിപ്പ് ബോർഡുകളും

2. ദിശാസൂചകങ്ങളും റോഡിലെ അടയാളങ്ങളും

3. മുകളിൽ പറഞ്ഞവയെല്ലാം

Ans: 3

Q258 ഒരു പൊതു ഗതാഗത വാഹനത്തിൽ കൊണ്ടുപോകാൻ അനുവദിച്ചിട്ടുള്ള അപകടകരമായ വസ്തു ഏതാണ്?

1. സ്പോട്കവസ്തുക്കൾ

2. ഇന്ധനവും ലൂബ്രിക്കന്റും (വാഹനത്തിന്റെ സാധാരണ ഉപയോഗത്തിനല്ലാത്തത്)

3. സുരക്ഷിതമായി പായ്ക്ക് ചെയ്ത ചെറിയ ആയുധങ്ങളുടെ വെടിയുണ്ടകൾ (കാട്രിഡ്ജ്)

Ans: 2

Q259 ഒരു മോട്ടോർ വാഹന ഡ്രൈവർ എവിടെയാണ് ഹോൺ മുഴക്കാൻ പാടില്ലാത്തത്?

1. ഹൈവേകളിൽ

2. അധികാരികൾ നിരോധിച്ച പ്രദേശങ്ങളിൽ (സൈലന്റ് സോണുകൾ)

3. ഗ്രാമീണ റോഡുകളിൽ

Ans: 2

Q260 ലൈറ്റ് മോട്ടോർ വാഹനങ്ങളിൽ (LMV) ഡ്രൈവറെ അപകടങ്ങളിൽ പരിക്കിൽ നിന്ന് സംരക്ഷിക്കുന്ന സുരക്ഷാ ഉപകരണം ഏതാണ്?

1. ഹെൽമെറ്റ്

2. സീറ്റ് ബെൽറ്റ്

3. ഇവയൊന്നുമല്ല

Ans: 2

Q261 ഇരുചക്ര വാഹനങ്ങൾക്ക് വേണ്ട അടിസ്ഥാന സുരക്ഷാ സംവിധാനങ്ങൾ എന്തൊക്കെയാണ്?

1. പിൻ ചക്രത്തിന്റെ കവർ / സാരി ഗാർഡ്

2. ക്രാഷ് ഗാർഡ് (ലെഗ് ഗാർഡ്)

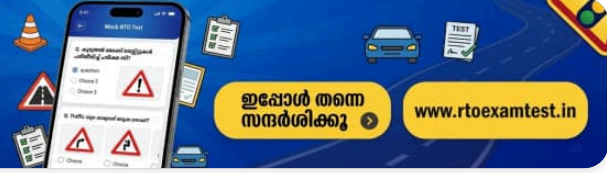
3. മുകളിൽ പറഞ്ഞ രണ്ടും

Ans: 3



കൂടുതൽ മോക്ക് ടെസ്റ്റുകൾ പരിശീലിച്ച് പരീക്ഷ വിജയിക്കൂ

ഡ്രൈവിംഗ് ലൈസൻസ് പരീക്ഷയ്ക്ക് ആവശ്യമായ കൂടുതൽ ചോദ്യങ്ങളും പരിശീലനവും ഞങ്ങളുടെ വെബ്സൈറ്റിൽ ലഭ്യമാണ്



ഇപ്പോൾ തന്നെ സന്ദർശിക്കൂ

www.rtoexamtest.in

Q262 ഫുട്പാത്ത് ഇല്ലാത്ത റോഡിലൂടെ നടക്കുമ്പോൾ കാൽനടയാത്രക്കാർ ഏത് വശത്തുകൂടിയാണ് നടക്കേണ്ടത്?

1. വലതുവശത്ത് (എതിരേ വരുന്ന വാഹനങ്ങളെ കാണാൻ കഴിയുന്ന വിധത്തിൽ)

2. ഇടതുവശത്ത്

3. റോഡിന് നടുവിലൂടെ

Ans: 1

Q263 ഒരു ദീർഘദൂര യാത്രയ്ക്ക് മുമ്പ് വാഹനത്തിൽ എന്തെല്ലാം കാര്യങ്ങൾ പരിശോധിക്കണം?

1. ഇന്ധനം, ഓയിൽ, ബ്രേക്ക് പ്ലൂയിഡ്, കുളന്റ്, ടയറിന്റെ അവസ്ഥ

2. സ്പെയർ വീൽ, ടൂളുകൾ, എല്ലാ ഡ്രൈവ് ബെൽറ്റുകളുടെയും ടെൻഷൻ

3. മുകളിൽ പറഞ്ഞവെല്ലാം

Ans: 3

Q264 വാഹനം റിവേഴ്സ് എടുക്കാൻ പാടില്ലാത്തത് എവിടെയാണ്?

1. പ്രധാന റോഡിൽ.

2. വൺ-വേയിൽ (ഏകദിശ പാതയിൽ).

3. ടി-ജംഗ്ഷനിൽ.

Ans: 2

Q265 നനഞ്ഞതോ വഴുക്കലുള്ളതോ ആയ റോഡിലൂടെ വാഹനമോടിക്കുമ്പോൾ നിങ്ങൾ:

1. ടയർ മർദ്ദം കുറയ്ക്കണം.

2. പെട്ടെന്നുള്ള ബ്രേക്കിംഗും ആക്സിലറേഷനും ഒഴിവാക്കണം.

3. വാഹനം ഉയർന്ന വേഗതയിൽ ഓടിക്കണം.

Ans: 2

Q266 ഒരു നാലുചക്ര വാഹനത്തിന് പിന്നിൽ മോട്ടോർ സൈക്കിൾ ഓടിക്കുമ്പോൾ, നിങ്ങൾ:

1. മുന്നിലുള്ള വാഹനത്തിന് തൊട്ടുപിന്നിലായി മധ്യഭാഗത്ത് മോട്ടോർ സൈക്കിൾ ഓടിക്കുക.

2. മുന്നിലെ കാഴ്ച കൂടുതൽ വ്യക്തമാക്കാൻ വാഹനത്തിന്റെ അല്പം വലതുവശത്തോ ഇടതുവശത്തോ ആയി ഓടിക്കുക.

3. ഇവയൊന്നുമല്ല.

Ans: 2

Q267 ഇരുചക്ര വാഹനം അല്ലെങ്കിൽ ഓട്ടോ റിക്ഷ ഓടിക്കുമ്പോൾ കൈകൊണ്ടുള്ള സിഗ്നലുകൾ കാണിക്കേണ്ടത്:

1. രണ്ട് കൈകളും ഉപയോഗിച്ച്.

2. വലതു കൈ മാത്രം ഉപയോഗിച്ച്.

3. ഇടതു കൈ മാത്രം ഉപയോഗിച്ച്.

Ans: 2

Q268 വാഹനം പാർക്ക് ചെയ്യുമ്പോൾ, നിങ്ങൾ:

1. മറ്റ് യാത്രക്കാർക്ക് തടസ്സമോ ബുദ്ധിമുട്ടോ ഉണ്ടാക്കാത്ത രീതിയിൽ വേണം വാഹനം പാർക്ക് ചെയ്യാൻ.

2. എപ്പോഴും നടപ്പാതയുടെ വശത്തിന് സമാന്തരമായി പാർക്ക് ചെയ്യണം.

3. എപ്പോഴും നടപ്പാതയുടെ വശത്തിന് ലംബമായി (right angle) പാർക്ക് ചെയ്യണം.

Ans: 1

Q269 ഒരു വാഹനത്തിന്റെ ഇൻഷുറൻസ് കാലാവധി കഴിഞ്ഞിട്ടുണ്ടെങ്കിൽ, ഡ്രൈവർ:

1. മൂന്നാം കക്ഷിക്ക് അപകടമോ നഷ്ടമോ ഉണ്ടാകാതിരിക്കാൻ വളരെ ശ്രദ്ധയോടെ വാഹനമോടിക്കണം.

2. ഒരു കാരണവശാലും വാഹനം ഓടിക്കാൻ പാടില്ല.

3. ഡ്രൈവർക്ക് സാധുവായ വ്യക്തിഗത ലൈഫ് ഇൻഷുറൻസ് ഉണ്ടെങ്കിൽ വാഹനം ഓടിക്കാം.

Ans: 2

Q270 മോട്ടോർ വാഹന അപകടത്തിൽ ഇരയായ വ്യക്തിക്ക് നഷ്ടപരിഹാരത്തിനായി എവിടെയാണ് അപേക്ഷിക്കാൻ കഴിയുക?

1. ആർ.ടി.ഒ (RTO) ഓഫീസിൽ

2. മോട്ടോർ ആക്സിഡന്റ് ക്ലെയിംസ് ട്രിബ്യൂണലിൽ

3. ഡ്രൈവറുടെയോ ഉടമയുടെയോ ബാങ്കിൽ

Ans: 2

Q271 മദ്യപിച്ചോ മയക്കുമരുന്ന് ഉപയോഗിച്ചോ വാഹനം ഓടിച്ചാലുള്ള ശിക്ഷ എന്താണ്?

1. ആറുമാസം വരെ തടവ്, 10,000 രൂപ വരെ പിഴ അല്ലെങ്കിൽ രണ്ടും.

2. അധികാരികളുടെ കർശന മുന്നറിയിപ്പ്.

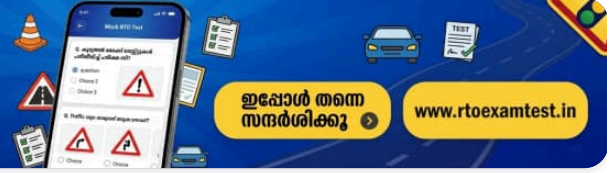
3. 5,000 രൂപ പിഴ.

Ans: 1



കൂടുതൽ മോക്ക് ടെസ്റ്റുകൾ പരിശീലിച്ച് പരീക്ഷ വിജയിക്കൂ

ഡ്രൈവിംഗ് ലൈസൻസ് പരീക്ഷയ്ക്ക് ആവശ്യമായ കൂടുതൽ ചോദ്യങ്ങളും പരിശീലവും ഞങ്ങളുടെ വെബ്സൈറ്റിൽ ലഭ്യമാണ്



ഇപ്പോൾ തന്നെ സന്ദർശിക്കൂ

www.rtoexamtest.in

Q272 പാർക്ക് ചെയ്ത വാഹനം ഉപേക്ഷിച്ചു പോകുന്നതിന് മുമ്പ്, നിങ്ങൾ:

1. ഇഗ്നീഷൻ കീ ഓഫ് ചെയ്യണം.

2. എഞ്ചിൻ നിർത്തുക, കീ ഊരിയെടുക്കുക, ഹാൻഡ് ബ്രേക്ക് ഇടുക.

3. കാറിന്റെ വാതിലുകൾ ലോക്ക് ചെയ്യണം.

Ans: 2

Q273 ഒരു ഘോഷയാത്ര, സൈനിക സംഘം അല്ലെങ്കിൽ ജോലി ചെയ്യുന്ന ആളുകൾ എന്നിവരെ മറികടക്കുമ്പോൾ നിങ്ങൾ

1. സാധാരണ വേഗതയിൽ മുന്നോട്ട് പോകണം

2. നിർത്തണം

3. മണിക്കൂറിൽ 25 കിലോമീറ്ററിൽ കൂടാത്ത വേഗതയിൽ ശ്രദ്ധയോടെ മുന്നോട്ട് പോകണം

Ans: 3

Q274 ഒരു മോട്ടോർ സൈക്കിൾ നിർത്താൻ

1. പിൻ ബ്രേക്ക് ഉപയോഗിക്കുക, വേഗത കുറഞ്ഞതിന് ശേഷം മുൻ ബ്രേക്ക് ഉപയോഗിക്കുക

2. മുൻപിലെയും പിന്നിലെയും ബ്രേക്കുകൾ ഒരേസമയം ഉപയോഗിക്കുക

3. പിൻ ബ്രേക്ക് മാത്രം ഉപയോഗിക്കുക

Ans: 2

Q275 ഒരുമിച്ച് യാത്ര ചെയ്യുമ്പോൾ (ഗ്രൂപ്പ് റൈഡിംഗ്) രണ്ടോ അതിലധികമോ മോട്ടോർ സൈക്കിളുകൾക്ക് ഏത് സ്ഥാനം എടുക്കാം?

1. തൊട്ടടുത്തായി

2. മോട്ടോർ സൈക്കിളുകൾക്കിടയിൽ ശരിയായ അകലം പാലിച്ച് ലെയ്നിൽ സിഗ്-സാഗ് (staggered) ആയി പോകുക

3. ഒരൊറ്റ വരിയിൽ ഒന്നിന് പുറകെ ഒന്നായി സഞ്ചരിക്കുക

Ans: 2

Q276 റോഡിൽ അയഞ്ഞ മണലോ ചരലോ ഉള്ള ഭാഗത്തേക്ക് അടുക്കുമ്പോൾ നിങ്ങൾ

1. കഴിയുന്നത്ര വേഗതയിൽ ആ പ്രദേശം കടന്നുപോകണം

2. കഴിയുന്നത്ര പതുക്കെ പോകണം

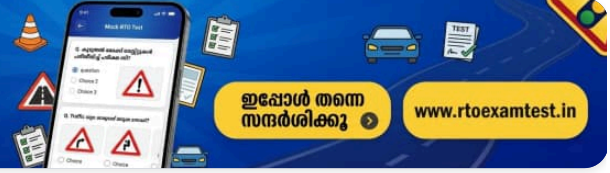
3. പ്രവേശിക്കുന്നതിന് മുൻപ് വേഗത കുറച്ച് ഉയർന്ന ടോർക്ക് ഗിയറിലേക്ക് മാറ്റണം

Ans: 2



കൂടുതൽ മോക്ക് ടെസ്റ്റുകൾ പരിശീലിച്ച് പരീക്ഷ വിജയിക്കൂ

ഡ്രൈവിംഗ് ലൈസൻസ് പരീക്ഷയ്ക്ക് ആവശ്യമായ കൂടുതൽ ചോദ്യങ്ങളും പരിശീലനവും ഞങ്ങളുടെ വെബ്സൈറ്റിൽ ലഭ്യമാണ്



ഇപ്പോൾ തന്നെ സന്ദർശിക്കൂ

www.rtoexamtest.in

Q277 നിങ്ങൾ വാഹനം ഓടിക്കുമ്പോൾ ഇന്ധനം ലഭിക്കാൻ സാധിക്കുന്നത് എപ്പോഴാണ്?

1. ഉയർന്ന ടോർക്ക് ഗിയറുകളിൽ ഉയർന്ന വേഗതയിൽ

2. കുറഞ്ഞ ടോർക്ക് ഗിയറുകളിൽ ഉയർന്ന വേഗതയിൽ

3. ടോപ്പ് ഗിയറിൽ മണിക്കൂറിൽ 45-55 കിലോമീറ്റർ എന്ന മിതമായ ഒരേ വേഗതയിൽ

Ans: 3

Q278 നിങ്ങളുടെ വാഹനത്തിൽ നിന്നുള്ള പുകയിൽ അടങ്ങിയിരിക്കുന്നത്

1. ഓക്സിജൻ, നൈട്രജൻ, ഹൈഡ്രജൻ

2. കാർബൺ ഡൈ ഓക്സൈഡ്, നൈട്രജൻ, വെള്ളം

3. കാർബൺ മോണോക്സൈഡ്, നൈട്രജൻ ഓക്സൈഡ്, ഹൈഡ്രോകാർബൺ

Ans: 3

Q279 പരിശോധനാ ഉദ്യോഗസ്ഥൻ ആവശ്യപ്പെട്ട് 7 ദിവസത്തിനുള്ളിൽ പി.യു.സി (P.U.C) സർട്ടിഫിക്കറ്റ് ഹാജരാക്കിയില്ലെങ്കിൽ

1. ഡ്രൈവിംഗ് ലൈസൻസ് റദ്ദാക്കാൻ കാരണമാകും

2. രജിസ്ട്രേഷൻ സർട്ടിഫിക്കറ്റ് (RC) സസ്പെൻഡ് ചെയ്യാൻ കാരണമാകും

3. ഇൻഷുറൻസ് സർട്ടിഫിക്കറ്റ് റദ്ദാക്കാൻ കാരണമാകും

Ans: 2

Q280 പെട്രോൾ വാഹനങ്ങളുടെ പുകയിലൂടെ പുറന്തള്ളപ്പെടുന്ന വിഷവാതകം ഏതാണ്?

1. അമോണിയ

2. കാർബൺ മോണോക്സൈഡ്

3. ക്ലോറിൻ

Ans: 2

Q281 തേയ്മാനം സംഭവിച്ച ടയറുകൾ ഉപയോഗിച്ച് വാഹനമോടിക്കുന്നത് അപകടകരമാണ്, കാരണം

1. വാഹനം പെട്ടെന്ന് വേഗത കൈവരിക്കും

2. ഇതിന് റോഡിലുള്ള ഗ്രിപ്പ് കുറവാണ്

3. ഇതിന് റോഡിൽ ഗ്രിപ്പ് വളരെ കൂടുതലാണ്

Ans: 2

Q282 താൽക്കാലിക രജിസ്ട്രേഷൻ നമ്പർ പ്ലേറ്റുള്ള വാഹനം റോഡിൽ ഉപയോഗിക്കാവുന്നത്

1. 30 ദിവസത്തേക്ക്

2. രജിസ്ട്രേഷൻ ആവശ്യത്തിന് വേണ്ടി മാത്രം

3. 6 മാസത്തേക്ക്

Ans: 2

Q283 അമിത വേഗതയിലോ അപകടകരമായ രീതിയിലോ വാഹനമോടിക്കുന്നത്

1. അധികാരികളിൽ നിന്ന് കർശനമായ മുന്നറിയിപ്പ് ലഭിച്ചേക്കാം

2. ഒരു കുറ്റകൃത്യമാണ്, ഇതിന് ശിക്ഷ ലഭിക്കും

3. മറ്റ് റോഡ് യാത്രക്കാരെ ആകർഷിച്ചേക്കാം

Ans: 2

Q284 ക്ലച്ച് റൈഡിംഗ് അല്ലെങ്കിൽ ക്ലച്ചിൽ കാൽ വെച്ച് വണ്ടി ഓടിക്കുന്നത് എന്നാൽ

1. അടിക്കടി ക്ലച്ച് ഉപയോഗിക്കുന്നത്

2. ക്ലച്ച് പെഡലിൽ എപ്പോഴും കാൽ വച്ചുകൊണ്ടിരിക്കുന്നത്

3. ക്ലച്ച് തീരെ ഉപയോഗിക്കാതിരിക്കുന്നത്

Ans: 2

Q285 ചുവപ്പോ നീലയോ ലൈറ്റ് മിന്നിച്ചുകൊണ്ട് ഒരു വാഹനം വരുമ്പോൾ നിങ്ങൾ

1. റോഡിന്റെ ഇടതുവശത്തേക്ക് മാറി വേഗത കുറയ്ക്കണം

2. നിൽക്കുന്നിടത്ത് തന്നെ വാഹനം നിർത്തണം

3. ആ വാഹനത്തെ ശ്രദ്ധിക്കേണ്ടതില്ല

Ans: 1

Q286 ട്രാഫിക്കുള്ള വശത്തെ (വലത് വശത്തെ) വാതിൽ നിങ്ങൾക്ക് എപ്പോൾ തുറക്കാം?

1. പിറകിൽ നിന്ന് വാഹനങ്ങൾ ഒന്നും വരാതിരിക്കുകയും ഗതാഗതം ക്ലിയർ ആവുകയും ചെയ്യുമ്പോൾ

2. കാർ പൂർണ്ണമായും നിൽക്കുമ്പോൾ

3. മറ്റ് കാറുകൾക്ക് സൈഡ് നൽകാൻ സിഗ്നൽ നൽകിയതിന് ശേഷം

Ans: 1

Q287 ഒരു കാനിന് മാത്രം ഇടമുള്ള സ്ഥലത്ത് വാഹനം പാർക്ക് ചെയ്യുമ്പോൾ, നിങ്ങൾ

1. പതുക്കെ വാഹനം പാർക്കിംഗ് സ്ഥലത്തേക്ക് കയറ്റുക

2. പാർക്കിംഗ് സ്ഥലത്ത് ശ്രദ്ധയോടെ വാഹനം പാർക്ക് ചെയ്യുക

3. ആ സ്ഥലത്തിന് മുന്നിലായി വാഹനം പാർക്ക് ചെയ്യുക

Ans: 2

Q288 വാഹനമോടിക്കുമ്പോൾ നിങ്ങളുടെ വാഹനം തെന്നിമാറിയാൽ (സ്കീഡ് ആയാൽ) നിങ്ങൾ

1. സ്റ്റിയറിംഗ് വലത്തോട്ടും ഇടത്തോട്ടും തിരിക്കുക

2. ആദ്യം ബ്രേക്ക് അമർത്തുക

3. കാർ തെന്നി നീങ്ങുന്ന ദിശയിലേക്ക് തന്നെ സ്റ്റിയറിംഗ് വീൽ തിരിക്കുക

Ans: 3

Q289 ഒരു വാഹനത്തിൽ മൾട്ടി-ട്രോൺ (പലതരം ശബ്ദങ്ങളുള്ള) ഹോൺ ഘടിപ്പിക്കുന്നത്

1. അനുവദനീയമാണ്

2. ചെലവേറിയതായതിനാൽ ഇത് ശുപാർശ ചെയ്യുന്നില്ല

3. നിയമ വിരുദ്ധമാണ്

Ans: 3

Q290 മിന്നിമറയുന്ന (പ്ലാഷിംഗ്) മഞ്ഞ ട്രാഫിക് ലൈറ്റ് അർത്ഥമാക്കുന്നത്

1. അതേ വേഗതയിൽ തന്നെ തുടരുക

2. സാധ്യമെങ്കിൽ വാഹനം നിർത്തുക

3. വേഗത കുറച്ച് ശ്രദ്ധയോടെ മുന്നോട്ട് പോകുക

Ans: 3

Q291 ഒരു കവലയിൽ മഞ്ഞ ട്രാഫിക് ലൈറ്റ് സ്ഥിരമായി പ്രകാശിക്കുന്നത് കണ്ടാൽ, നിങ്ങൾ

1. വേഗത്തിൽ കവല കടന്നുപോകാൻ ശ്രമിക്കണം

2. സ്റ്റോപ്പ് ലൈനിൽ വാഹനം നിർത്തണം

3. ശ്രദ്ധയോടെ കവല കടന്നുപോകണം

Ans: 3

Q292 നിങ്ങൾ ഒരു റൗണ്ട് എഞ്ചിനിലേക്ക് (ട്രാഫിക് സർക്കിൾ) പ്രവേശിക്കാൻ അടുക്കുമ്പോൾ, നിങ്ങൾ

1. കുറഞ്ഞ വേഗതയിൽ റൗണ്ട് എഞ്ചിനിലെ ഗതാഗതത്തിലേക്ക് പ്രവേശിക്കുക

2. വലതുഭാഗത്ത് നിന്ന് വരുന്ന വാഹനങ്ങൾക്ക് ആദ്യം വഴി നൽകുക

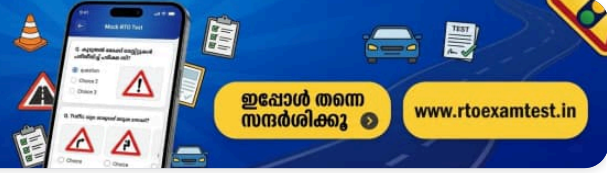
3. പുറത്തെ ലെയ്ൻ മാത്രം ഉപയോഗിക്കുക

Ans: 2



കൂടുതൽ മോക്ക് ടെസ്റ്റുകൾ പരിശീലിച്ച് പരീക്ഷ വിജയിക്കൂ

ഡ്രൈവിംഗ് ലൈസൻസ് പരീക്ഷയ്ക്ക് ആവശ്യമായ കൂടുതൽ ചോദ്യങ്ങളും പരിശീലനവും ഞങ്ങളുടെ വെബ്സൈറ്റിൽ ലഭ്യമാണ്



ഇപ്പോൾ തന്നെ സന്ദർശിക്കൂ

www.rtoexamtest.in

Q293 ട്രാഫിക് ലൈറ്റുകളോ പോലീസുകാരോ ട്രാഫിക് അടയാളങ്ങളോ ഇല്ലാത്ത ഒരു കവലയിൽ നിങ്ങൾ പ്രധാന റോഡിലൂടെ എത്തുമ്പോൾ, നിങ്ങൾ

1. കവല കടന്നുപോകാൻ വാഹനത്തിന്റെ വേഗത കുറയ്ക്കുകയും ജാഗ്രത പാലിക്കുകയും ചെയ്യുക

2. പൂർണ്ണമായും വാഹനം നിർത്തുകയും തുടർന്ന് ശ്രദ്ധയോടെ മുന്നോട്ട് പോകുകയും ചെയ്യുക

3. വഴി ക്ലിയർ ആണെങ്കിൽ വേഗത മാറ്റാതിരിക്കുക

Ans: 1

Q294 അടിയന്തര (എമർജൻസി) വാഹനങ്ങളിൽ ഉൾപ്പെടുന്നത്

1. റോഡ് റോളറുകളും ക്രെയിനുകളും

2. മൊബൈൽ ഓട്ടോമൊബൈൽ വർക്ക് ഷോപ്പുകൾ

3. ആംബുലൻസും അഗ്നിശമന സേനാ വാഹനങ്ങളും

Ans: 3

Q295 ഡ്രൈവർമാർ എവിടെയാണ് ഹോൺ മുഴക്കാൻ പാടില്ലാത്തത്?

1. വൺവേ റോഡുകളിൽ

2. പ്രധാന റോഡുകളിൽ

3. നിശബ്ദ മേഖലകളിൽ (സൈലന്റ് സോൺ)

Ans: 3

Q296 രജിസ്ട്രേഷൻ നമ്പർ പ്ലേറ്റുകൾ പ്രകാശിപ്പിക്കേണ്ടത് ഏത് വെളിച്ചത്തിലാണ്?

1. ചുവന്ന വെളിച്ചം

2. വെള്ള വെളിച്ചം

3. നീല വെളിച്ചം

Ans: 2

Q297 നിർബന്ധിത ട്രാഫിക് അടയാളങ്ങൾ പ്രദർശിപ്പിക്കുന്നത് ഏത് ആകൃതിയിലാണ്?

1. സ്റ്റോപ്പ്, ഗിവ് വേ അടയാളങ്ങൾ ഒഴികെ വൃത്താകൃതിയിൽ

2. ത്രികോണാകൃതിയിൽ

3. ദീർഘചതുരാകൃതിയിൽ

Ans: 1

Q298 മുന്നറിയിപ്പ് നൽകുന്ന ട്രാഫിക് അടയാളങ്ങൾ പ്രദർശിപ്പിക്കുന്നത് ഏത് ആകൃതിയിലാണ്?

1. വൃത്താകൃതിയിൽ

2. ത്രികോണാകൃതിയിൽ

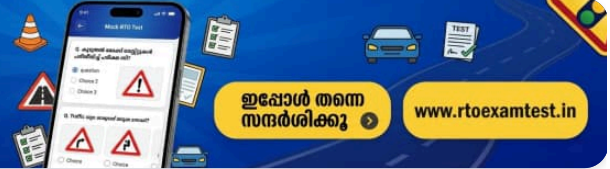
3. ദീർഘചതുരാകൃതിയിൽ

Ans: 2



കൂടുതൽ മോക്ക് ടെസ്റ്റുകൾ പരിശീലിച്ച് പരീക്ഷ വിജയിക്കൂ

ഡ്രൈവിംഗ് ലൈസൻസ് പരീക്ഷയ്ക്ക് ആവശ്യമായ കൂടുതൽ ചോദ്യങ്ങളും പരിശീലനവും ഞങ്ങളുടെ വെബ്സൈറ്റിൽ ലഭ്യമാണ്



ഇപ്പോൾ തന്നെ സന്ദർശിക്കൂ

www.rtoexamtest.in

Q299 വിവരങ്ങൾ നൽകുന്ന ട്രാഫിക് അടയാളങ്ങൾ പ്രദർശിപ്പിക്കുന്നത് ഏത് ആകൃതിയിലാണ്?

1. വൃത്താകൃതിയിൽ

2. ത്രികോണാകൃതിയിൽ

3. ദീർഘചതുരാകൃതിയിൽ

Ans: 3

Q300 ഒരു സ്കൂൾ ബസ് എങ്ങനെ തിരിച്ചറിയാം?

1. ക്രീം കലർന്ന മഞ്ഞ നിറം കൊണ്ട്

2. ചുവപ്പ് നിറം കൊണ്ട്

3. പച്ച നിറം കൊണ്ട്

Ans: 1

Q301 വലത്തോട്ടോ ഇടത്തോട്ടോ തിരിയുമ്പോൾ ചെയ്യേണ്ട പ്രവർത്തനങ്ങളുടെ ശരിയായ ക്രമം

1. ഗിയർ - മിറർ - സിഗ്നൽ

2. മിറർ - ഗിയർ - സിഗ്നൽ

3. സിഗ്നൽ - ഗിയർ - മിറർ

Ans: 1

Q302 നിർത്തിയിട്ടിരിക്കുന്ന വാഹനം മുന്നോട്ട് എടുക്കുമ്പോൾ ചെയ്യേണ്ടവയുടെ ശരിയായ ക്രമം

1. മിറർ - സ്റ്റാർട്ട് - ഗിയർ - സിഗ്നൽ - മുവ്

2. സ്റ്റാർട്ട് - ഗിയർ - മിറർ - സിഗ്നൽ - മുവ്

3. സ്റ്റാർട്ട് - മിറർ - സിഗ്നൽ - ഗിയർ - മുവ്

Ans: 2

Q303 വാഹനം സുരക്ഷിതമായി നിർത്താനുള്ള മാർഗ്ഗം

1. ആദ്യം ക്ലച്ച് അമർത്തി പിന്നീട് ബ്രേക്ക് ചെയ്യുക

2. ആദ്യം ബ്രേക്ക് അമർത്തി പിന്നീട് ക്ലച്ച് അമർത്തുക

3. ക്ലച്ചും ബ്രേക്കും ഒരേസമയം അമർത്തുക

Ans: 2

Q304 കുത്തനെയുള്ള ഇറക്കം സുരക്ഷിതമായി ഇറങ്ങാൻ

1. ബ്രേക്കിനൊപ്പം താഴ്ന്ന ഗിയർ (ഉയർന്ന ടോർക്ക്) ഉപയോഗിക്കുക

2. ബ്രേക്കിനൊപ്പം ടോപ്പ് ഗിയർ ഉപയോഗിക്കുക

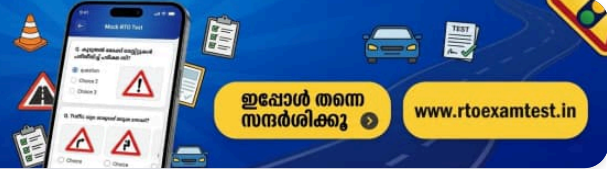
3. ബ്രേക്കും ക്ലച്ചും ഒരേസമയം ഉപയോഗിക്കുക

Ans: 1



കൂടുതൽ മോക്ക് ടെസ്റ്റുകൾ പരിശീലിച്ച് പരീക്ഷ വിജയിക്കൂ

ഡ്രൈവിംഗ് ലൈസൻസ് പരീക്ഷയ്ക്ക് ആവശ്യമായ കൂടുതൽ ചോദ്യങ്ങളും പരിശീലനവും ഞങ്ങളുടെ വെബ്സൈറ്റിൽ ലഭ്യമാണ്



ഇപ്പോൾ തന്നെ സന്ദർശിക്കൂ

www.rtoexamtest.in

Q305 രാത്രിയിൽ നിങ്ങളുടെ വാഹനം തകരാറിലായാൽ നിങ്ങൾ

1. നിർത്തുക, ഹാൻഡ് ബ്രേക്ക് ഉപയോഗിക്കുക, ഹസാർഡ് മൂന്നറിയിപ്പ് ലൈറ്റുകൾ ഓണാക്കുക

2. നിർത്തി ചുവന്ന ലൈറ്റ് കാണിക്കുക

3. വാഹനം റോഡിൽ തന്നെ ഉപേക്ഷിക്കുക

Ans: 1

Q306 ഒരു പശു റോഡിന് കുറുകെ നിൽക്കുമ്പോൾ, നിങ്ങൾ

1. അത് വഴിമാറുന്നത് വരെ കാത്തിരിക്കുക

2. അതിന്റെ മുന്നിലൂടെ കടന്നുപോകുക

3. അതിന്റെ പിന്നിലൂടെ കടന്നുപോകുക

Ans: 3

Q307 ഒരു സ്വകാര്യ കாரിൽ ഒലിവ് പച്ച പെയിന്റ് ചെയ്യുന്നത്

1. അനുവദനീയമല്ല

2. അനുവദനീയമാണ്

3. പ്രത്യേക അനുമതി ആവശ്യമാണ്

Ans: 1

Q308 കൂടുതൽ പവറിന് (ടോർക്ക്), ഉപയോഗിക്കേണ്ട ഗിയർ

1. ഒന്നാമത്തെ ഗിയർ

2. ടോപ്പ് ഗിയർ

3. രണ്ടാമത്തെ ഗിയർ

Ans: 1

Q309 ഡ്രൈവർ പെട്ടെന്ന് ബ്രേക്ക് ചെയ്യുന്നത്

1. സുരക്ഷാ കാരണങ്ങളാൽ അനുവദനീയമാണ്

2. പ്രോത്സാഹിപ്പിക്കപ്പെടുന്നില്ല

3. തിരക്കേറിയ റോഡുകളിൽ അനുവദനീയമാണ്

Ans: 1

Q310 ഇടതുവശത്ത് സ്റ്റിയറിംഗ് കൺട്രോളുകളുള്ള വാഹനം

1. സ്വതന്ത്രമായി ഉപയോഗിക്കാം

2. ഉപയോഗിക്കാൻ കഴിയില്ല

3. ശരിയായ മെക്കാനിക്കൽ അല്ലെങ്കിൽ ഇലക്ട്രിക്കൽ സിസ്റ്റം ഉപകരണം ഉണ്ടെങ്കിൽ മാത്രം ഉപയോഗിക്കാം

Ans: 3

Q311 അപകടത്തിൽ പെട്ട ഒരാളെ ചികിത്സിക്കാൻ കഴിയുന്നത്

1. ഒരു സർക്കാർ ആശുപത്രി ഡോക്ടർക്ക് മാത്രം

2. രജിസ്റ്റർ ചെയ്ത ഏതൊരു ഡോക്ടർക്കും

3. വാഹനത്തിന്റെ ഡ്രൈവർക്ക് മാത്രം

Ans: 2

Q312 താഴെക്കുള്ള ചരിവിൽ വാഹനം പാർക്ക് ചെയ്യുമ്പോൾ, ഹാൻഡ് ബ്രേക്ക് ഇടുന്നതിന് പുറമെ, വാഹനം ഏത് ഗിയറിലായിരിക്കണം?

1. ന്യൂട്രൽ ഗിയർ

2. ഒന്നാമത്തെ ഗിയർ

3. റിവേഴ്സ് ഗിയർ

Ans: 3

Q313 വലത്തോട്ടോ ഇടത്തോട്ടോ തിരിയുമ്പോൾ കൂടുതൽ സുരക്ഷിതമായ മാർഗ്ഗം

1. ഇൻഡിക്കേറ്ററുകൾ മാത്രം ഉപയോഗിക്കുക

2. കൈ കൊണ്ടുള്ള സിഗ്നൽ മാത്രം കാണിക്കുക

3. ഇൻഡിക്കേറ്ററുകളും കൈ കൊണ്ടുള്ള സിഗ്നലും ഒരുമിച്ച് ഉപയോഗിക്കുക

Ans: 3

Q314 വൺവേ റോഡിൽ ഒരു ഡ്രൈവർ വാഹനം ഓടിക്കേണ്ടത്

1. സൈൻ ബോർഡ് വ്യക്തമാക്കിയ ദിശയിൽ മാത്രം

2. അടിയന്തര സാഹചര്യങ്ങളിൽ വിപരീത ദിശയിൽ

3. ഞായറാഴ്ചകളിൽ ഇരു ദിശകളിലും

Ans: 1

Q315 ചുരം റോഡുകളിൽ, എതിരെ നിന്ന് വാഹനം വരുമ്പോൾ ഇറക്കം ഇറങ്ങുന്ന ഡ്രൈവർ

1. എതിർ വാഹനം വരുന്നതിന് മുമ്പ് വേഗത്തിൽ ഓടിച്ചുപോകണം

2. ഹെഡ് ലൈറ്റുകൾ ഓൺ ചെയ്ത് സ്വന്തം വഴിയിലൂടെ പോകണം

3. മുകളിലേക്ക് കയറുന്ന വാഹനങ്ങൾക്ക് മുൻഗണന നൽകണം

Ans: 3

Q316 ഏത് സാഹചര്യത്തിലാണ് നിങ്ങൾ വാഹനങ്ങളെ ഓവർടേക്ക് ചെയ്യുന്നത് ഒഴിവാക്കേണ്ടത്?

1. ഒരു വളവ് കഴിഞ്ഞതിന് ശേഷം

2. ഒരു വളവിൽ

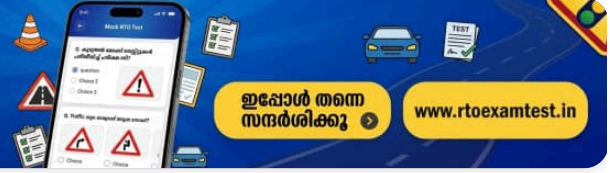
3. മുന്നിലുള്ള റോഡ് വ്യക്തമായി കാണുമ്പോൾ

Ans: 2



കൂടുതൽ മോക്ക് ടെസ്റ്റുകൾ പരിശീലിച്ച് പരീക്ഷ വിജയിക്കൂ

ഡ്രൈവിംഗ് ലൈസൻസ് പരീക്ഷയ്ക്ക് ആവശ്യമായ കൂടുതൽ ചോദ്യങ്ങളും പരിശീലനവും ഞങ്ങളുടെ വെബ്സൈറ്റിൽ ലഭ്യമാണ്



ഇപ്പോൾ തന്നെ സന്ദർശിക്കൂ

www.rtoexamtest.in

Q317 വീതിയുള്ള റോഡുകളിൽ കൂടുതൽ അനുയോജ്യമായ പാർക്കിംഗ് രീതി ഏതാണ്?

- 1. ഇൻ-ലൈൻ പാർക്കിംഗ്
- 2. സമാന്തര (പാരലൽ) പാർക്കിംഗ്
- 3. ചരിഞ്ഞ (ആംഗിൾഡ്) പാർക്കിംഗ്

Ans: 3

Q318 റോഡ് മുറിച്ചുകടക്കാൻ ഒരു കാൽനടയാത്രക്കാരൻ നിങ്ങളുടെ മുന്നിലുള്ള സീബ്രാ ക്രോസിംഗിലേക്ക് ഇറങ്ങുമ്പോൾ നിങ്ങൾ

- 1. സ്റ്റോപ്പ് ലൈനിന് മുന്നിലായി വാഹനം നിർത്തുക, ഇതിനെ ഒരു സ്റ്റോപ്പ് സിഗ്നലായി കണക്കാക്കുക
- 2. കാൽനടയാത്രക്കാരന് മുൻപേ മുന്നോട്ട് പോവുക
- 3. ഹോൺ മുഴക്കി വാഹനത്തിന്റെ വേഗത കുട്ടി അയാൾക്ക് മുൻപേ കടന്നുപോവുക

Ans: 1

Q319 മോശമായ റോഡിലൂടെ ഒരു ഇരുചക്രവാഹനത്തിന് പിന്നിലായി വാഹനമോടിക്കുമ്പോൾ നിങ്ങൾ

- 1. തുടർച്ചയായി ഹോൺ മുഴക്കണം
- 2. ഉടൻ തന്നെ ഓവർടേക്ക് ചെയ്യണം
- 3. സുരക്ഷിതമായ അകലം പാലിക്കണം

Ans: 3

Q320 ഗതാഗത നിയമലംഘനത്തിന് പിഴ ലഭിച്ചാൽ, നിങ്ങളുടെ മനോഭാവം എന്തായിരിക്കണം?

- 1. അഭിമാനം തോന്നണം
- 2. അപമാനം തോന്നണം
- 3. ഭാവിയിൽ തെറ്റ് തിരുത്താൻ തീരുമാനിക്കണം

Ans: 3

Q321 അനുവദനീയമാണെങ്കിൽ, ഒരു ജംഗ്ഷനിൽ ഫ്രീ ടേൺ എടുക്കാവുന്നത്

- 1. ഇടത്തോട്ട് തിരിയുമ്പോൾ
- 2. നേരെ പോകുമ്പോൾ
- 3. വലത്തോട്ട് തിരിയുമ്പോൾ

Ans: 1

Q322 സീറ്റ് ബെൽറ്റുകൾ ഉപയോഗിക്കേണ്ടത് ആരൊക്കെയാണ്?

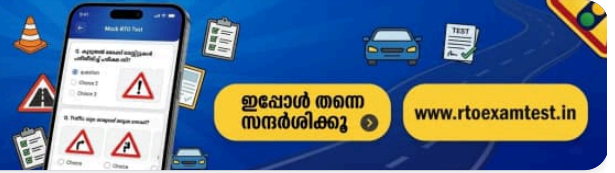
- 1. ഡ്രൈവർ മാത്രം
- 2. മുൻ സീറ്റിലെ യാത്രക്കാർ മാത്രം
- 3. രണ്ടുപേരും

Ans: 3



കൂടുതൽ മോക്ക് ടെസ്റ്റുകൾ പരിശീലിച്ച് പരീക്ഷ വിജയിക്കൂ

ഡ്രൈവിംഗ് ലൈസൻസ് പരീക്ഷയ്ക്ക് ആവശ്യമായ കൂടുതൽ ചോദ്യങ്ങളും പരിശീലവും ഞങ്ങളുടെ വെബ്സൈറ്റിൽ ലഭ്യമാണ്



ഇപ്പോൾ തന്നെ സന്ദർശിക്കൂ

www.rtoexamtest.in

Q323 ഏത് തരത്തിലുള്ള ഓവർലോഡിംഗും

1. നിയമപ്രകാരം നിരോധിച്ചിരിക്കുന്നു

2. ഡ്രൈവർക്ക് വാഹനം സുരക്ഷിതമായി നിയന്ത്രിക്കാൻ കഴിയുമെങ്കിൽ അനുവദനീയമാണ്

3. ഡ്രൈവർ പിഴ അടച്ചാൽ അനുവദിക്കും

Ans: 1

Q324 ഡ്രൈവറുടെ അടുത്ത് ഇരിക്കുകയോ നിൽക്കുകയോ ചെയ്തുകൊണ്ട് വാഹനം നിയന്ത്രിക്കുന്നതിന് തടസ്സം സൃഷ്ടിക്കുന്നത്

1. ആർ.ടി.ഒയുടെ അനുമതിയോടെ അനുവദനീയമാണ്

2. അനുവദനീയമല്ല

3. അടിയന്തര സാഹചര്യങ്ങളിൽ അനുവദനീയമാണ്

Ans: 2

Q325 ഇടതുവശത്ത് സ്റ്റിയറിംഗ് കൺട്രോളുള്ള വാഹനം ഉപയോഗിക്കേണ്ടത്

1. പിന്നിൽ 'ലൈറ്റ് ഹാൻഡ് ഡ്രൈവ്' എന്ന ബോർഡ് പ്രദർശിപ്പിച്ചുകൊണ്ട്

2. ലൈറ്റ് അല്ലെങ്കിൽ മെക്കാനിക്കൽ ഇൻഡിക്കേറ്റർ സിസ്റ്റം ഉപയോഗിച്ചുകൊണ്ട്

3. മുകളിൽ പറഞ്ഞ രണ്ടും ഉപയോഗിച്ചുകൊണ്ട്

Ans: 3

Q326 വാഹനത്തിന്റെ പിൻഭാഗത്തിന് പുറത്തേക്ക് തള്ളിനിൽക്കുന്ന രീതിയിൽ ഭാരം കൊണ്ടുപോകുന്നത്

1. എപ്പോഴും അനുവദനീയമാണ്

2. അനുയോജ്യമായ മൂന്നറിയിപ്പ് ലൈറ്റുകളോ കൊടികളോ ഉപയോഗിച്ച് വാഹനത്തിന്റെ പിൻഭാഗത്ത് നിന്ന് ഒരു മീറ്റർ വരെ തള്ളിനിൽക്കാൻ മാത്രം അനുവദനീയമാണ്

3. അനുവദനീയമല്ല

Ans: 2

Q327 വാഹനം കഴുകുകയോ സർവീസ് ചെയ്യുകയോ ചെയ്ത ശേഷം ബ്രേക്ക് പിടിക്കുന്നത് കുറയുന്ന പ്രശ്നം എങ്ങനെ പരിഹരിക്കാം?

1. ഒരു മെക്കാനിക്കിനെക്കൊണ്ട് ബ്രേക്ക് അഡ്ജസ്റ്റ് ചെയ്യുക

2. വാഹനം ഉടൻ തന്നെ ഗതാഗതത്തിൽ നിന്ന് മാറ്റുക

3. കുറഞ്ഞ വേഗതയിൽ വാഹനം ഓടിച്ചുകൊണ്ട് പലതവണ ബ്രേക്ക് പ്രവർത്തിപ്പിച്ച് നോക്കുക

Ans: 3

Q328 ഡ്രൈവിംഗ് ലൈസൻസില്ലാതെ പൊതുസ്ഥലത്ത് വാഹനം ഓടിക്കുന്ന ഡ്രൈവർക്ക്

- 1. പിഴ മാത്രം ലഭിക്കും
- 2. ഡ്രൈവർക്കും വാഹന ഉടമയ്ക്കും പിഴയും കൂടാതെ/അല്ലെങ്കിൽ വാഹനം പിടിച്ചെടുക്കലും നേരിടേണ്ടിവരും
- 3. മൂന്നറിയിപ്പ് മാത്രം ലഭിക്കും

Ans: 2

Q329 ഒരു ട്രാക്ടർ ഡ്രൈവർക്കൊപ്പം ഏതെങ്കിലും യാത്രക്കാരനെ യാത്ര ചെയ്യാൻ അനുവദിക്കാമോ?

- 1. അതെ
- 2. ഇല്ല
- 3. പരമാവധി 2 പേർക്ക് അനുവാദമുണ്ട്

Ans: 2

Q330 മഴക്കാലത്ത് പകൽ സമയത്ത് കാഴ്ച വളരെ മങ്ങുമ്പോൾ, ഡ്രൈവർ

- 1. ഹെഡ് ലൈറ്റ് ഉപയോഗിക്കണം
- 2. വൈപ്പർ ബ്ലേഡുകൾ പഴയതല്ലെന്ന് ഉറപ്പുവരുത്തണം
- 3. ഇവയൊന്നുമല്ല

Ans: 1


Q331 ഈ ചിഹ്നം എന്താണ് സൂചിപ്പിക്കുന്നത്?



- 1. നിർത്തുക
- 2. പാർക്കിംഗ് നിരോധിച്ചിരിക്കുന്നു
- 3. മുന്നിൽ ആശുപത്രിയുണ്ട്

Ans: 1

Q332 ഈ ചിഹ്നം എന്താണ് സൂചിപ്പിക്കുന്നത്?



- 1. ഇടതുവശം ചേർന്ന് പോകുക
- 2. ഇടത്തോട്ട് റോഡില്ല
- 3. നിർബന്ധമായും ഇടത്തോട്ട് തിരിയുക

Ans: 3

Q333 ഈ ചിഹ്നം എന്താണ് സൂചിപ്പിക്കുന്നത്?



1. വഴി നൽകുക

2. മുന്നിൽ ആശുപത്രിയുണ്ട്

3. മുന്നിൽ ട്രാഫിക് ഐലൻഡ് ഉണ്ട്

Ans: 1

Q334 ഈ ചിഹ്നം എന്താണ് സൂചിപ്പിക്കുന്നത്?



1. പ്രവേശനം നിരോധിച്ചിരിക്കുന്നു

2. വൺവേ (ഏകദിശ)

3. വേഗപരിധി അവസാനിക്കുന്നു

Ans: 2

Q335 ഈ ചിഹ്നം എന്താണ് സൂചിപ്പിക്കുന്നത്?



1. വലത്തോട്ട് തിരിയുന്നത് നിരോധിച്ചിരിക്കുന്നു

2. വലത്തോട്ട് കൊടുംവളവ്

3. യു-ടേൺ എടുക്കുന്നത് നിരോധിച്ചിരിക്കുന്നു

Ans: 3

Q336 ഈ ചിഹ്നം എന്താണ് സൂചിപ്പിക്കുന്നത്?



1. കാൽനടയാത്രക്കാർക്ക് റോഡ് മുറിച്ചുകടക്കാനുള്ള ഇടം

2. കാൽനടയാത്രക്കാർക്ക് പ്രവേശിക്കാം

3. കാൽനടയാത്രക്കാർക്ക് പ്രവേശനം നിരോധിച്ചിരിക്കുന്നു

Ans: 1

Q337 ഈ ചിഹ്നം എന്താണ് സൂചിപ്പിക്കുന്നത്?



1. വലതുവശം ചേർന്ന് പോകുക

2. വലതുവശത്ത് പാർക്കിംഗ് അനുവദിച്ചിരിക്കുന്നു

3. നിർബന്ധമായും വലത്തോട്ട് തിരിയുക

Ans: 2

Q338 ഈ ചിഹ്നം എന്താണ് സൂചിപ്പിക്കുന്നത്?



1. യു-ടേൺ എടുക്കുന്നത് നിരോധിച്ചിരിക്കുന്നു

2. വലത്തോട്ട് തിരിയുന്നത് നിരോധിച്ചിരിക്കുന്നു

3. ഇടതുവശത്തുകൂടി ഓവർടേക്ക് ചെയ്യുന്നത് നിരോധിച്ചിരിക്കുന്നു

Ans: 2

Q339 ഈ അടയാളം എന്താണ് സൂചിപ്പിക്കുന്നത്?



1. ഹോൺ മുഴക്കുന്നത് നിരോധിച്ചിരിക്കുന്നു

2. നിർബന്ധമായും ഹോൺ മുഴക്കുക

3. ഹോൺ മുഴക്കാം

Ans: 1

Q340 ഈ അടയാളം എന്താണ് സൂചിപ്പിക്കുന്നത്?



1. മുന്നിൽ ഇരുവശത്തും റോഡുകളുണ്ട്

2. മുന്നിൽ ഇടുങ്ങിയ പാലം

3. മുന്നിൽ ഇടുങ്ങിയ റോഡ്

Ans: 2

Q341 ഈ അടയാളം എന്താണ് സൂചിപ്പിക്കുന്നത്?



1. പ്രഥമശുശ്രൂഷാ കേന്ദ്രം

2. വിശ്രമ കേന്ദ്രം

3. ആശുപത്രി

Ans: 3

Q342 ഈ അടയാളം എന്താണ് സൂചിപ്പിക്കുന്നത്?



1. ആശുപത്രി

2. വിശ്രമ കേന്ദ്രം

3. പ്രഥമശുശ്രൂഷാ കേന്ദ്രം

Ans: 2

Q343 ഈ അടയാളം എന്താണ് സൂചിപ്പിക്കുന്നത്?



1. റോഡ് അടച്ചിരിക്കുന്നു

2. പാർക്കിംഗ് നിരോധിച്ചിരിക്കുന്നു

3. വേഗപരിധി അവസാനിക്കുന്നു

Ans: 3

Q344 ഈ അടയാളം എന്താണ് സൂചിപ്പിക്കുന്നത്?



1. മുന്നിൽ ഇടുങ്ങിയ റോഡ്

2. മുന്നിൽ ഇടുങ്ങിയ പാലം

3. മുന്നിൽ ഇരുവശത്തും റോഡുകൾ

Ans: 1

Q345 ഈ അടയാളം എന്താണ് സൂചിപ്പിക്കുന്നത്?



1. അടുത്ത് റെയിൽവേ സ്റ്റേഷൻ ഉണ്ട്

2. ഗാർഡില്ലാത്ത ലെവൽ ക്രോസിംഗ്

3. ഗാർഡുള്ള ലെവൽ ക്രോസിംഗ്

Ans: 2

Q346 ഈ അടയാളം എന്താണ് സൂചിപ്പിക്കുന്നത്?



1. വലതുവശത്തുകൂടിയുള്ള പ്രവേശനം നിരോധിച്ചിരിക്കുന്നു

2. ഇടതുവശത്തുകൂടിയുള്ള പ്രവേശനം നിരോധിച്ചിരിക്കുന്നു

3. ഓവർടേക്കിംഗ് നിരോധിച്ചിരിക്കുന്നു

Ans: 3

Q347 ഈ ചിഹ്നം എന്താണ് സൂചിപ്പിക്കുന്നത്?



- 1. ക്രോസ് റോഡ് (കവല)
 - 2. പ്രവേശനമില്ല
 - 3. ആശുപത്രി
- Ans: 1**

Q348 ഈ ചിഹ്നം എന്താണ് സൂചിപ്പിക്കുന്നത്?




- 1. നിയന്ത്രണങ്ങൾ അവസാനിക്കുന്നു
 - 2. പ്രവേശനമില്ല
 - 3. ഓവർടേക്കിംഗ് നിരോധിച്ചിരിക്കുന്നു
- Ans: 2**

Q349 ഈ ചിഹ്നം എന്താണ് സൂചിപ്പിക്കുന്നത്?



- 1. ഇടത്തേക്ക് തിരിയാം
 - 2. നിർബന്ധമായും നേരെ പോകുകയോ ഇടത്തേക്ക് തിരിയുകയോ ചെയ്യുക
 - 3. ഇടതുവശത്ത് ഉപറോഡ് ഉണ്ട്
- Ans: 3**

Q350 ഈ ചിഹ്നം എന്താണ് സൂചിപ്പിക്കുന്നത്?



- 1. നിർബന്ധമായും ഹോൺ മുഴക്കുക
 - 2. തുടർച്ചയായി ഹോൺ മുഴക്കുക
 - 3. ഹോൺ മുഴക്കുന്നത് നിരോധിച്ചിരിക്കുന്നു
- Ans: 1**

Q351 ഈ ചിഹ്നം എന്താണ് സൂചിപ്പിക്കുന്നത്?



- 1. മുന്നിൽ വലതുവശത്തേക്ക് റോഡുണ്ട്
 - 2. നിർബന്ധമായും വലത്തോട്ട് തിരിയുക
 - 3. വലത്തോട്ട് തിരിയുന്നത് നിരോധിച്ചിരിക്കുന്നു
- Ans: 2**

Q352 ഈ ചിഹ്നം എന്താണ് സൂചിപ്പിക്കുന്നത്?



1. നിയന്ത്രണങ്ങൾ അവസാനിക്കുന്നു

2. നിർത്തരുത്

3. പാർക്കിംഗ് നിരോധിച്ചിരിക്കുന്നു

Ans: 3

Q353 ഈ അടയാളം എന്താണ് സൂചിപ്പിക്കുന്നത്?



1. നേരെ പോവുക

2. വൺ-വേ

3. ഇരുവശത്തേക്കും പ്രവേശനം നിരോധിച്ചിരിക്കുന്നു

Ans: 2

Q354 ഈ അടയാളം എന്താണ് സൂചിപ്പിക്കുന്നത്?



1. മോട്ടോർ വാഹനങ്ങൾക്ക് പ്രവേശനമില്ല

2. കാറുകൾക്കും മോട്ടോർ സൈക്കിളുകൾക്കും പ്രവേശനമില്ല

3. കാറുകൾക്കും മോട്ടോർ വാഹനങ്ങൾക്കും പ്രവേശിക്കാം

Ans: 2

Q355 ഈ അടയാളം എന്താണ് സൂചിപ്പിക്കുന്നത്?



1. ട്രക്കുകൾക്ക് പ്രവേശനമില്ല

2. ബസുകൾക്ക് പ്രവേശനമില്ല

3. ഘനവാഹനങ്ങൾക്ക് പ്രവേശനമില്ല

Ans: 1

Q356 ഈ അടയാളം എന്താണ് സൂചിപ്പിക്കുന്നത്?



1. കാളവണ്ടികൾക്ക് പ്രവേശനമില്ല

2. സൈക്കിളുകൾക്ക് പ്രവേശനമില്ല

3. എല്ലാ വാഹനങ്ങൾക്കും പ്രവേശനമില്ല

Ans: 1

Q357 ഈ അടയാളം എന്താണ് സൂചിപ്പിക്കുന്നത്?



1. വിദ്യാർത്ഥികൾക്ക് പ്രവേശനമില്ല

2. കാൽനടയാത്രക്കാർക്ക് പ്രവേശിക്കാം

3. കാൽനടയാത്രക്കാർക്ക് പ്രവേശനമില്ല

Ans: 3

Q358 ഈ അടയാളം എന്താണ് സൂചിപ്പിക്കുന്നത്?



1. വലതുവശത്തുകൂടി മറികടക്കുന്നത് നിരോധിച്ചിരിക്കുന്നു

2. ഇടത്തോട്ട് തിരിയുക

3. ഇടത്തോട്ട് തിരിയുന്നത് നിരോധിച്ചിരിക്കുന്നു

Ans: 3

Q359 ഈ അടയാളം എന്താണ് സൂചിപ്പിക്കുന്നത്?



1. മണിക്കൂറിൽ 50 കിലോമീറ്ററിൽ കൂടുതൽ വേഗതയിൽ വാഹനമോടിക്കരുത്

2. മണിക്കൂറിൽ 50 കിലോമീറ്റർ വേഗതയിൽ വാഹനമോടിക്കുക

3. മണിക്കൂറിൽ 50 കിലോമീറ്ററിൽ കൂടുതൽ വേഗതയിൽ വാഹനമോടിക്കുക

Ans: 1

Q360 ഈ അടയാളം എന്താണ് സൂചിപ്പിക്കുന്നത്?



1. വേഗപരിധി മണിക്കൂറിൽ 2 കിലോമീറ്റർ

2. 2 മീറ്ററിൽ കൂടുതൽ വീതിയുള്ള വാഹനങ്ങൾക്ക് പ്രവേശനമില്ല

3. 2 മീറ്ററിൽ കൂടുതൽ ഉയരമുള്ള വാഹനങ്ങൾക്ക് പ്രവേശനമില്ല

Ans: 2

Q361 ഈ അടയാളം എന്താണ് സൂചിപ്പിക്കുന്നത്?



1. 3.5 മീറ്ററിൽ കൂടുതൽ ഉയരമുള്ള വാഹനങ്ങൾക്ക് മാത്രം പ്രവേശനം

2. 3.5 മീറ്ററിൽ കൂടുതൽ വീതിയുള്ള വാഹനങ്ങൾക്ക് മാത്രം പ്രവേശനം

3. ഉയരം 3.5 മീറ്ററിൽ കൂടാത്ത വാഹനങ്ങൾക്ക് മാത്രം പ്രവേശനം

Ans: 3

Q362 ഈ അടയാളം എന്താണ് സൂചിപ്പിക്കുന്നത്?



1. നിർത്തുക

2. നിർത്താനോ വാഹനമെത്തുക്കാനോ പാടില്ല

3. ജംപ്ഷൻ

Ans: 2

Q363 ഈ അടയാളം എന്താണ് സൂചിപ്പിക്കുന്നത്?



1. പ്രവേശനമില്ല

2. മുന്നോട്ട് മാത്രം

3. ഇരുവശത്തേക്കും പ്രവേശിക്കാം

Ans: 2

Q364 ഈ അടയാളം എന്താണ് സൂചിപ്പിക്കുന്നത്?



1. നിർബന്ധമായും മുന്നോട്ട് പോകുകയോ വലത്തോട്ട് തിരിയുകയോ ചെയ്യുക

2. നിർബന്ധമായും മുന്നോട്ട് പോകുകയോ ഇടത്തോട്ട് തിരിയുകയോ ചെയ്യുക

3. മുന്നിൽ വശങ്ങളിലേക്കുള്ള റോഡുണ്ട്

Ans: 2

Q365 ഈ അടയാളം എന്താണ് സൂചിപ്പിക്കുന്നത്?



1. ഇടതുവശത്ത് നിർത്തുക

2. നിർബന്ധമായും ഇടതുവശം ചേർന്ന് പോവുക

3. ഇടത്തോട്ട് തിരിയുക

Ans: 2

Q366 ഈ അടയാളം എന്താണ് സൂചിപ്പിക്കുന്നത്?



1. വലതുവശത്തേക്കുള്ള കയറ്റം

2. വലത്തോട്ടുള്ള വളവ്

3. വലതുവശം ചേർന്ന് പോവുക

Ans: 2

Q367 ഈ അടയാളം എന്താണ് സൂചിപ്പിക്കുന്നത്?



1. ഇടത്തോട്ടുള്ള വളവ്

2. ഇടതുവശത്തേക്കുള്ള കയറ്റം

3. ഇടതുവശം ചേർന്ന് പോവുക

Ans: 1

Q368 ഈ അടയാളം എന്താണ് സൂചിപ്പിക്കുന്നത്?



1. വലത്തോട്ടുള്ള ഹെയർപിൻ വളവ്

2. വലതുവശത്തേക്കുള്ള കയറ്റവും ഇറക്കവും

3. വലതുവശത്തേക്കുള്ള ഇറക്കം

Ans: 1

Q369 ഈ അടയാളം എന്താണ് സൂചിപ്പിക്കുന്നത്?



1. ഇടതുവശത്തേക്കുള്ള ഇറക്കം

2. ഇടത്തോട്ടുള്ള ഹെയർപിൻ വളവ്

3. ഇടതുവശം ചേർന്ന് പോവുക

Ans: 2

Q370 ഈ അടയാളം എന്താണ് സൂചിപ്പിക്കുന്നത്?



1. വലത്തോട്ടുള്ള വളഞ്ഞ റോഡ്

2. ഇടത്തോട്ടുള്ള വളഞ്ഞ റോഡ്

3. വലത്തോട്ട് തിരിഞ്ഞ് മുന്നോട്ട് പോവുക

Ans: 1

Q371 ഈ അടയാളം എന്താണ് സൂചിപ്പിക്കുന്നത്?



1. വലത്തോട്ടുള്ള വളഞ്ഞ റോഡ്

2. ഇടത്തോട്ടുള്ള വളഞ്ഞ റോഡ്

3. ഇടത്തോട്ട് തിരിഞ്ഞ് മുന്നോട്ട് പോവുക

Ans: 2

Q372 ഈ അടയാളം എന്താണ് സൂചിപ്പിക്കുന്നത്?



1. ഇടതുവശത്തെ ഉപറോഡ്

2. വേഗപരിധി

3. ഓക്സിജൻ ഭാരപരിധി

Ans: 3

Q373 ഈ അടയാളം എന്താണ് സൂചിപ്പിക്കുന്നത്?



1. വലത്തോട്ട് തിരിയുക

2. വലതുവശത്തെ ഉപറോഡ്

3. വലതുവശം ചേർന്ന് പോവുക

Ans: 2

Q374 ഈ അടയാളം എന്താണ് സൂചിപ്പിക്കുന്നത്?



1. മുന്നിൽ പ്രധാന റോഡ്

2. മുന്നിൽ കവല (ക്രോസ് റോഡ്)

3. മുന്നിൽ ഇടുങ്ങിയ റോഡ്

Ans: 1

Q375 ഈ അടയാളം എന്താണ് സൂചിപ്പിക്കുന്നത്?



1. വലത്തോട്ട് തിരിയുക

2. ഇടത്തോട്ട് തിരിയുക

3. റൗണ്ട് എഞ്ചൂട്ട് (വട്ടത്തിലുള്ള കവല)

Ans: 3

Q376 ഈ അടയാളം എന്താണ് സൂചിപ്പിക്കുന്നത്?



1. മുന്നിൽ ഇടുങ്ങിയ റോഡ്

2. അപകടകരമായ കുഴി (ഡിപ്പ്)

3. ഫെറി (കടത്ത്)

Ans: 2

Q377 ഈ അടയാളം എന്താണ് സൂചിപ്പിക്കുന്നത്?



1. ഗാർഡുള്ള റെയിൽവേ ക്രോസിംഗ്

2. ഗാർഡില്ലാത്ത റെയിൽവേ ക്രോസിംഗ്

3. മുന്നിൽ ബാരിയർ ഉണ്ട്

Ans: 1

Q378 ഈ അടയാളം എന്താണ് സൂചിപ്പിക്കുന്നത്?



1. ഇടതുവശത്തെ Y-കവല (Y-ഇന്റർസെക്ഷൻ)

2. വലതുവശത്തെ Y-കവല

3. ഇടതുവശത്തെ ഉപറോഡ്

Ans: 1

Q379 ഈ അടയാളം എന്താണ് സൂചിപ്പിക്കുന്നത്?



1. ഇടതുവശത്തെ Y-കവല

2. വലതുവശത്തെ Y-കവല

3. വലതുവശത്തെ ഉപറോഡ്

Ans: 2

Q380 ഈ അടയാളം എന്താണ് സൂചിപ്പിക്കുന്നത്?



1. ഇടത്തോട്ട് തിരിയുക

2. വലത്തോട്ട് തിരിയുക

3. Y-കവല (Y-ഇന്റർസെക്ഷൻ)

Ans: 3

Q381 ഈ അടയാളം എന്താണ് സൂചിപ്പിക്കുന്നത്?



1. മുന്നിൽ വലതുവശത്തേക്ക് റോഡുണ്ട്

2. മുന്നിലേക്കും വലത്തോട്ടും റോഡുകളുണ്ട്

3. നിർബന്ധമായും മുന്നോട്ട് പോകുകയോ വലത്തോട്ട് തിരിയുകയോ ചെയ്യുക

Ans: 3

Q382 ഈ അടയാളം എന്താണ് സൂചിപ്പിക്കുന്നത്?



1. വഴക്കലുള്ള റോഡ്

2. ചരൽ നിറഞ്ഞ റോഡ്

3. മോട്ടോർ കാറുകൾക്ക് പ്രവേശനമില്ല

Ans: 1

Q383 ഈ അടയാളം എന്താണ് സൂചിപ്പിക്കുന്നത്?



1. ഇളകിയ ചരൽ

2. വഴക്കലുള്ള റോഡ്

3. മോട്ടോർ കാറുകൾക്ക് പ്രവേശനമില്ല

Ans: 1

Q384 ഈ അടയാളം എന്താണ് സൂചിപ്പിക്കുന്നത്?



1. സൈക്കിൾ ക്രോസിംഗ്

2. സൈക്കിൾ മുറിച്ചുകടക്കുന്നത് നിരോധിച്ചിരിക്കുന്നു

3. സൈക്കിളുകൾക്ക് പ്രവേശനമില്ല

Ans: 1

Q385 ഈ അടയാളം എന്താണ് സൂചിപ്പിക്കുന്നത്?



1. കന്നുകാലികൾക്ക് പ്രവേശനമില്ല

2. റോഡിൽ കന്നുകാലികൾ ഉണ്ടാകാൻ സാധ്യത

3. കന്നുകാലികളെ കൊണ്ടുപോകുന്ന വാഹനങ്ങൾക്ക് പ്രവേശനമില്ല

Ans: 2

Q386 ഈ അടയാളം എന്താണ് സൂചിപ്പിക്കുന്നത്?



1. മുന്നിൽ സ്കൂൾ

2. കാൽനടയാത്രക്കാർക്കുള്ള ക്രോസിംഗ്

3. കാൽനടയാത്രക്കാർ മുറിച്ചുകടക്കുന്നത് നിരോധിച്ചിരിക്കുന്നു

Ans: 1

Q387 ഈ അടയാളം എന്താണ് സൂചിപ്പിക്കുന്നത്?



1. പണി നടക്കുന്നു

2. കുട്ടികൾ കളിക്കുന്നു

3. കാൽനടയാത്രക്കാർക്കുള്ള ക്രോസിംഗ്

Ans: 1

Q388 ഈ അടയാളം എന്താണ് സൂചിപ്പിക്കുന്നത്?



1. കുണ്ടും കുഴിയുമുള്ള റോഡ്

2. വഴുക്കലുള്ള റോഡ്

3. പാറകൾ വീഴാൻ സാധ്യതയുള്ള സ്ഥലം

Ans: 3

Q389 ഈ അടയാളം എന്താണ് സൂചിപ്പിക്കുന്നത്?



1. മുന്നിൽ പാലം

2. ഫെറി (കടത്ത്)

3. മുന്നിൽ ലാലുഭക്ഷണശാല

Ans: 2

Q390 ഈ അടയാളം എന്താണ് സൂചിപ്പിക്കുന്നത്?



- 1. കുത്തനെയുള്ള കയറ്റം
- 2. കുത്തനെയുള്ള ഇറക്കം
- 3. വഴുക്കലുള്ള റോഡ്

Ans: 1

Q391 ഈ അടയാളം എന്താണ് സൂചിപ്പിക്കുന്നത്?



- 1. കുത്തനെയുള്ള കയറ്റം
- 2. കുത്തനെയുള്ള ഇറക്കം
- 3. വഴുക്കലുള്ള റോഡ്

Ans: 2

Q392 ഈ അടയാളം എന്താണ് സൂചിപ്പിക്കുന്നത്?



- 1. മുന്നിൽ ഇടുങ്ങിയ റോഡ്
- 2. Y-കവല
- 3. മുന്നിൽ വീതിയുള്ള റോഡ്

Ans: 3

Q393 ഈ അടയാളം എന്താണ് സൂചിപ്പിക്കുന്നത്?



- 1. മധ്യത്തിൽ ഡ്രെയിനേജ്
- 2. മുന്നിൽ പാലം
- 3. മീഡിയനിൽ (റോഡ് ഡിവൈഡർ) വിടവ്

Ans: 3

Q394 ഈ അടയാളം എന്താണ് സൂചിപ്പിക്കുന്നത്?



- 1. സ്പീഡ് ബ്രേക്കർ അല്ലെങ്കിൽ കുണ്ടും കുഴിയുമുള്ള റോഡ്
- 2. വളഞ്ഞുപുളഞ്ഞ റോഡ്
- 3. ഘട്ട് റോഡ്

Ans: 1

Q395 ഈ അടയാളം എന്താണ് സൂചിപ്പിക്കുന്നത്?



- 1. മുന്നിൽ ബാരിയർ (തടസ്സം)
 - 2. മുന്നിൽ റെയിൽവേ ക്രോസിംഗ്
 - 3. മുന്നിൽ വെയ്(ബ്രിഡ്ജ്) (ഭാരം നോക്കുന്ന സ്ഥലം)
- Ans: 1**

Q396 ഈ അടയാളം എന്താണ് സൂചിപ്പിക്കുന്നത്?



- 1. വശത്തേക്കുള്ള റോഡ് അടഞ്ഞിരിക്കുന്നു
 - 2. ഇടത്തോട്ട് തിരിയുക
 - 3. മുന്നിൽ പാലം
- Ans: 1**

Q397 ഈ അടയാളം എന്താണ് സൂചിപ്പിക്കുന്നത്?



- 1. മുന്നിൽ ഫെറി (കടത്ത്) ഉണ്ട്
 - 2. മുന്നിൽ പ്രധാന റോഡ്
 - 3. മുന്നോട്ട് റോഡില്ല
- Ans: 3**

Q398 ഈ അടയാളം എന്താണ് സൂചിപ്പിക്കുന്നത്?



- 1. പാർക്കിംഗ് നിരോധിച്ചിരിക്കുന്നു
 - 2. ഇരുവശത്തും പാർക്കിംഗ് അനുവദനീയമാണ്
 - 3. പോലീസ് എയ്ഡ് പോസ്റ്റ്
- Ans: 2**

Q399 ഈ അടയാളം എന്താണ് സൂചിപ്പിക്കുന്നത്?



1. പാർക്കിംഗ് സ്ഥലം - സ്കൂട്ടറുകൾക്കും മോട്ടോർ സൈക്കിളുകൾക്കും

2. സ്കൂട്ടറുകൾക്കും മോട്ടോർ സൈക്കിളുകൾക്കും പ്രവേശനമില്ല

3. സ്കൂട്ടറുകൾ, മോട്ടോർ സൈക്കിളുകൾ എന്നിവയുടെ വർക്ക്ഷോപ്പ്

Ans: 1

Q400 ഈ അടയാളം എന്താണ് സൂചിപ്പിക്കുന്നത്?



1. സ്വകാര്യ കാറുകൾക്ക് പ്രവേശനമില്ല

2. പാർക്കിംഗ് സ്ഥലം - ടാക്സികൾ

3. പോലീസ് വാഹനങ്ങൾക്കുള്ള പാർക്കിംഗ്

Ans: 2

Q401 ഈ അടയാളം എന്താണ് സൂചിപ്പിക്കുന്നത്?




1. പെട്രോൾ പമ്പ്

2. പാർക്കിംഗ് സ്ഥലം - ഓട്ടോറിക്ഷകൾ

3. ഓട്ടോറിക്ഷ പാർക്കിംഗ് നിരോധിച്ചിരിക്കുന്നു

Ans: 2

Q402 ഈ അടയാളം എന്താണ് സൂചിപ്പിക്കുന്നത്?



1. പിന്നിൽ വരുന്ന വാഹനം നിർത്താനുള്ള സൂചന

2. വലത്തോട്ട് തിരിയാൻ ഉദ്ദേശിക്കുന്നു

3. എതിർദിശയിൽ നിന്ന് വരുന്ന വാഹനം നിർത്താനുള്ള സൂചന

Ans: 2

Q403 ഈ അടയാളം എന്താണ് സൂചിപ്പിക്കുന്നത്?



1. ഇടത്തോട്ട് തിരിയാൻ ഉദ്ദേശിക്കുന്നു

2. വലത്തോട്ട് തിരിയാൻ ഉദ്ദേശിക്കുന്നു

3. മറ്റു എല്ലാ വാഹനങ്ങളും നിർത്താനുള്ള സൂചന

Ans: 1

Q404 ഈ അടയാളം എന്താണ് സൂചിപ്പിക്കുന്നത്?



1. വലത്തോട്ട് തിരിയാൻ ഉദ്ദേശിക്കുന്നു

2. എതിർദിശയിൽ നിന്ന് വരുന്ന വാഹനം നിർത്താനുള്ള സൂചന

3. വാഹനത്തിന്റെ വേഗത കുറയ്ക്കാൻ ഉദ്ദേശിക്കുന്നു

Ans: 3

Q405 ഈ അടയാളം എന്താണ് അർത്ഥമാക്കുന്നത്?



1. നേരെ പോകാൻ ഉദ്ദേശിക്കുന്നു

2. വാഹനം നിർത്താൻ ഉദ്ദേശിക്കുന്നു

3. വലത്തേക്ക് തിരിയാൻ ഉദ്ദേശിക്കുന്നു

Ans: 2

Q406 ഈ അടയാളം എന്താണ് അർത്ഥമാക്കുന്നത്?



1. പിന്നിൽ നിന്ന് വരുന്ന വാഹനം നിർത്താനുള്ള അഭ്യർത്ഥന

2. പിന്നിൽ നിന്ന് വരുന്ന വാഹനത്തെ കടന്നുപോകാൻ അനുവദിക്കാനുള്ള അഭ്യർത്ഥന

3. മുന്നിൽ നിന്ന് വരുന്ന വാഹനം നിർത്താനുള്ള അഭ്യർത്ഥന

Ans: 1

Q407 ഈ അടയാളം എന്താണ് അർത്ഥമാക്കുന്നത്?




1. ഇടതുവശത്ത് നിന്ന് വരുന്ന വാഹനങ്ങളെ കടന്നുപോകാൻ അനുവദിക്കാനുള്ള അഭ്യർത്ഥന

2. എതിർദിശയിൽ നിന്ന് വരുന്ന വാഹനത്തെ കടന്നുപോകാൻ അനുവദിക്കാനുള്ള അഭ്യർത്ഥന

3. മുന്നിൽ നിന്നും പിന്നിൽ നിന്നും വരുന്ന വാഹനങ്ങളെ നിർത്താനുള്ള അഭ്യർത്ഥന

Ans: 3

Q408 ഈ അടയാളം എന്താണ് അർത്ഥമാക്കുന്നത്?



1. മുന്നിൽ നിന്ന് വരുന്ന വാഹനം നിർത്താനുള്ള അഭ്യർത്ഥന

2. പിന്നിൽ നിന്ന് വരുന്ന വാഹനം നിർത്താനുള്ള അഭ്യർത്ഥന

3. മുന്നിൽ നിന്ന് വരുന്ന വാഹനത്തെ കടന്നുപോകാൻ അനുവദിക്കാനുള്ള അഭ്യർത്ഥന

Ans: 1

Q409 നിങ്ങൾ ഒരു സ്റ്റാഗേർഡ് ജംഗ്ഷനിൽ എത്തുമ്പോൾ, നിങ്ങൾ...



1. വാഹനത്തിന്റെ വേഗത കുറയ്ക്കണം

2. വേഗത നിലനിർത്തുകയും ഹോൺ മുഴക്കുകയും ചെയ്യണം

3. ഹസാർഡ് വാണിംഗ് ലൈറ്റ് ഉപയോഗിക്കണം

Ans: 1

Q410 ഈ രേഖയുടെ അർത്ഥം



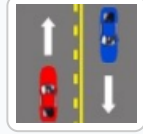
1. നിങ്ങൾക്ക് തോന്നുമ്പോഴൊക്കെ ലൈൻ മറികടക്കാം

2. സുരക്ഷിതമാണെങ്കിൽ മാത്രം ലൈൻ മറികടക്കുക, ഓവർടേക്ക് ചെയ്ത ശേഷം തിരികെ ലെയ്നിലേക്ക് വരിക

3. ഒരു സാഹചര്യത്തിലും ഈ ലൈൻ മറികടക്കരുത്

Ans: 2

Q411 സോളിഡ് ലൈനീനോട് ചേർന്ന് പോകുന്ന വാഹനങ്ങൾ



- 1. ഓവർടേക്കിംഗിനായി ലൈൻ മറികടക്കാം
- 2. ഓവർടേക്കിംഗിനായി ലൈൻ മറികടക്കാൻ പാടില്ല
- 3. നിർത്താൻ പാടില്ല

Ans: 2

Q412 ഈ റോഡിൽ "U" ടേബിൾ എടുക്കുമ്പോൾ, നിങ്ങൾ...



- 1. യു-ടേബിൾ നിരോധിച്ചിരിക്കുന്നതിനാൽ മുന്നോട്ട് പോകുക
- 2. കണ്ണാടിയിൽ നോക്കി സിഗ്നൽ നൽകി തിരിയുക
- 3. സിഗ്നൽ കാണിക്കുക, എതിർദിശയിൽ നിന്ന് വരുന്ന വാഹനത്തെ കടത്തിവിട്ട ശേഷം തിരിയുക

Ans: 1

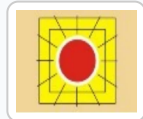
Q413 ഒരു ലെയ്നിൽ നിന്ന് മറ്റൊന്നിലേക്ക് മാറണമെങ്കിൽ നിങ്ങൾ...



- 1. ശരിയായ ടേബിൾ സിഗ്നൽ (ഇൻഡിക്കേറ്റർ) നൽകണം
- 2. റിയർ വ്യൂ മിററിൽ നോക്കി സുരക്ഷിതമാണെന്ന് ഉറപ്പാക്കിയ ശേഷം ലെയ്ൻ മാറ്റണം
- 3. മുകളിൽ പറഞ്ഞ രണ്ടും

Ans: 3

Q414 മിന്നിത്തിളങ്ങുന്ന ചുവപ്പ് സിഗ്നൽ ലൈറ്റ് അർത്ഥമാക്കുന്നത്



- 1. നിർത്തി വാഹനങ്ങൾ ഇല്ലെന്നുറപ്പാക്കി ശ്രദ്ധയോടെ മുന്നോട്ട് പോകുക
- 2. വേഗത കുറയ്ക്കാനുള്ള ചിഹ്നം
- 3. മറ്റ് വാഹനങ്ങൾക്ക് വഴി നൽകുക എന്ന ചിഹ്നം

Ans: 1

Q415 ഈ അടയാളം എന്താണ് സൂചിപ്പിക്കുന്നത്?




1. റോഡ് രണ്ടായി പിരിയുന്നു

2. മുന്നിൽ സ്റ്റാഗേർഡ് ജംഗ്ഷൻ (തുടർച്ചയല്ലാത്ത കവല) ഉണ്ട്

3. മുന്നിൽ മീഡിയൻ (ഡിവൈഡർ) ഉണ്ട്

Ans: 2

Q416 ഈ റോഡിൽ നിങ്ങൾ ചെയ്യാൻ പാടില്ലാത്തത്



1. വാഹനം പാർക്ക് ചെയ്യാൻ

2. വാഹനത്തിന്റെ വേഗത കുറയ്ക്കാൻ

3. മറ്റൊരു വാഹനത്തെ മറികടക്കാൻ (ഓവർടേക്ക് ചെയ്യാൻ)

Ans: 1

Q417 റോഡിലെ ഈ അടയാളം എന്താണ് സൂചിപ്പിക്കുന്നത്?



1. ലെയ്ൻ ട്രാഫിക് (നിശ്ചിത ലെയ്നിലൂടെയുള്ള ഗതാഗതം)

2. റോഡ് വിഭജിക്കുന്നു

3. വൺ വേ (ഒരു ദിശയിലേക്ക് മാത്രം ഗതാഗതം)

Ans: 1

Q418 തുടർച്ചയായ മഞ്ഞ വര എന്താണ് അർത്ഥമാക്കുന്നത്?



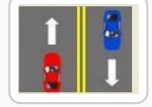
1. പാർക്കിംഗ് പാടില്ല

2. സ്റ്റോപ്പ് ലൈൻ

3. ഓവർടേക്ക് ചെയ്യാൻ പാടില്ല

Ans: 3

Q419 ഈ വരകൾ എന്താണ് സൂചിപ്പിക്കുന്നത്?



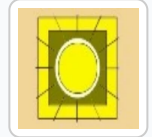
1. ഇവ ഒരു മീഡിയൻ ആയി പ്രവർത്തിക്കുന്നു

2. പാർക്കിംഗ് പാടില്ല

3. നിർത്താൻ പാടില്ല

Ans: 1

Q420 കവലകളിൽ മിന്നിത്തിളങ്ങുന്ന മഞ്ഞ ലൈറ്റ് അർത്ഥമാക്കുന്നത്:



1. ശ്രദ്ധയോടെ മുന്നോട്ട് പോകുക

2. നിർത്തി ശേഷം മുന്നോട്ട് പോകുക

3. വേഗത്തിൽ മുന്നോട്ട് പോകുക

Ans: 1

Q421 ഈ വര എന്താണ് അർത്ഥമാക്കുന്നത്?



1. ടു-ലെയ്ൻ ഗതാഗതം

2. റോഡ് വിഭജിക്കുന്നു

3. ലെയ്ൻ ട്രാഫിക്

Ans: 1

Q422 ചിത്രം കാണിക്കുന്നത്:



1. ട്രെയിൻഗേറ്റിംഗ് (മുന്നിലെ വാഹനത്തോട് വളരെ ചേർന്ന് ഓടിക്കുന്നത്)

2. സുരക്ഷിതമായ അകലം പാലിക്കൽ

3. വാഹനത്തെ പിന്തുടരുക

Ans: 2

Q423 ഡാഷ്ബോർഡിലെ (ഇൻസ്ട്രുമെന്റ് കൺസോൾ) ഈ അടയാളങ്ങൾ എന്താണ് സൂചിപ്പിക്കുന്നത്?



1. മുന്നറിയിപ്പ് വിളക്കുകൾ (വാണിംഗ് ലാനുകൾ)

2. റോഡ് അടയാളങ്ങൾ

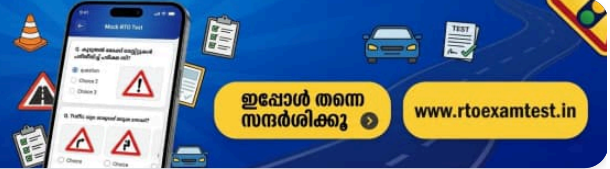
3. ഹസാർഡ് ലാമ്പ് (അപകട മുന്നറിയിപ്പ് വിളക്ക്)

Ans: 1



കൂടുതൽ മോക്ക് ടെസ്റ്റുകൾ പരിശീലിച്ച് പരീക്ഷ വിജയിക്കൂ

ഡ്രൈവിംഗ് ലൈസൻസ് പരീക്ഷയ്ക്ക് ആവശ്യമായ കൂടുതൽ ചോദ്യങ്ങളും പരിശീലനവും ഞങ്ങളുടെ വെബ്സൈറ്റിൽ ലഭ്യമാണ്



ഇപ്പോൾ തന്നെ സന്ദർശിക്കൂ

www.rtoexamtest.in

Q424 വൃത്തത്തിൽ നൽകിയിരിക്കുന്ന ട്രാഫിക് ചിഹ്നങ്ങൾ...




- 1. നിർബന്ധിത ചിഹ്നങ്ങൾ (Mandatory)
 - 2. മുന്നറിയിപ്പ് ചിഹ്നങ്ങൾ (Cautionary)
 - 3. വിവരങ്ങൾ നൽകുന്ന ചിഹ്നങ്ങൾ (Informatory)
- Ans: 1**

Q425 ത്രികോണത്തിൽ നൽകിയിരിക്കുന്ന ട്രാഫിക് ചിഹ്നങ്ങൾ...



- 1. നിർബന്ധിത ചിഹ്നങ്ങൾ (Mandatory)
 - 2. മുന്നറിയിപ്പ് ചിഹ്നങ്ങൾ (Cautionary)
 - 3. വിവരങ്ങൾ നൽകുന്ന ചിഹ്നങ്ങൾ (Informatory)
- Ans: 2**

Q426 ചതുരത്തിൽ നൽകിയിരിക്കുന്ന ട്രാഫിക് ചിഹ്നങ്ങൾ...



- 1. നിർബന്ധിത ചിഹ്നങ്ങൾ (Mandatory)
 - 2. മുന്നറിയിപ്പ് ചിഹ്നങ്ങൾ (Cautionary)
 - 3. വിവരങ്ങൾ നൽകുന്ന ചിഹ്നങ്ങൾ (Informatory)
- Ans: 3**

നിങ്ങളുടെ പഠനം പരിശോധിക്കുക!

www.rtoexamtest.in ൽ സൗജന്യ ഓൺലൈൻ മോക്ക് ടെസ്റ്റ് പരിശീലിക്കൂ

The screenshot displays the RTOExamTest website interface. At the top, there is a dark blue navigation bar with the logo 'RTOExamTest' on the left, a language dropdown menu set to 'മലയാളം (Malayalam)', and several utility icons including a home icon, a document icon labeled 'ചോദ്യ ബാങ്ക്', a clock icon labeled 'മോക്ക് ടെസ്റ്റ്', and a user profile icon labeled 'പ്രായോഗിക പരീക്ഷ'. Below the navigation bar, the main content area has a light blue background. It features a title 'ൾ ലേണിംഗ് ലൈസൻസ് മോക്ക് ടെസ്റ്റ്' and three sub-headers: '20 ചോദ്യങ്ങൾ', '60 സെക്കൻഡ് / ചോദ്യം', and 'ജയിക്കാൻ 12 മാർക്ക്'. A central white box contains the test details: 'ചോദ്യം 1 / 20' and '33 sec'. Below this, it shows 'ശരി: 0' and 'തെറ്റ്: 0'. The question text is: '1. ഏത് സാഹചര്യത്തിലാണ് നിങ്ങൾ വാഹനങ്ങളെ ഓവർടേക്ക് ചെയ്യുന്നത് ഒഴിവാക്കേണ്ടത്?'. There are three multiple-choice options: 'A ഒരു വളവ് കഴിഞ്ഞതിന് ശേഷം', 'B ഒരു വളവിൽ', and 'C മുന്നിലുള്ള റോഡ് വ്യക്തമായി കാണുമ്പോൾ'. At the bottom of the white box is a yellow button labeled 'അടുത്തത് >'. The entire interface is presented within a white rounded rectangle on a light blue background.

പരീക്ഷ ആരംഭിക്കാൻ ഇവിടെ ക്ലിക്ക് ചെയ്യുക

നന്ദി!

 കൂടുതൽ പരിശീലനത്തിനും
ഓൺലൈൻ മോക്ക് ടെസ്റ്റുകൾക്കും
സന്ദർശിക്കുക 

www.rtoexamtest.in

